

ДОЛИ. НАХОЖДЕНИЕ ДОЛИ ЧИСЛА

Урок математики в 3 классе.

Составила: Н.М. Сверчкова

доли



целый

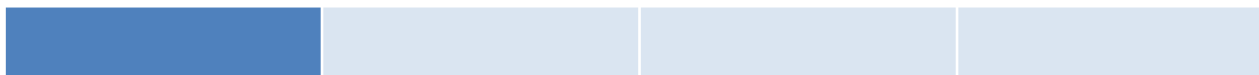


половина

целое

половина половина

четверть четверть четверть четверть



Целое - 1

Половина - $\frac{1}{2}$

Четверть - $\frac{1}{4}$

Д/З С. 77 № 2, 5 (2 СТР.), 5 (Б)



ПРОВЕРКА Д/З



◎ С. 77 № 5 (2 стр.)

$$30 \cdot 3 = 90$$

$$24 \cdot 4 = 96$$

$$56 : 8 = 7$$

$$54 : 18 = 3$$

$$62 : 12 = 5 \text{ (ост } 2)$$


Задача №6 (б)

1) $60 - 4 = 56$ (п.) - с капустой

2) $56 : 4 = 14$ (раза)

Ответ: в 14 раз пирогов с капустой больше,
чем с вареньем.

Оцени свою работу.




СЧЕТ И ВЫЧИСЛЕНИЯ -
ОСНОВА ПОРЯДКА В ГОЛОВЕ.
(ПЕСТАЛОЦЦИ)

◎ Арифметический диктант

4, 4, 67, 8 см, 4 см², 8 см³, 61, 87.

Оцени свою работу.





МАТЕМАТИКУ УЖЕ ЗАТЕМ УЧИТЬ НАДО,
ЧТО ОНА УМ В ПОРЯДОК ПРИВОДИТ.
(М.В. ЛОМОНОСОВ)

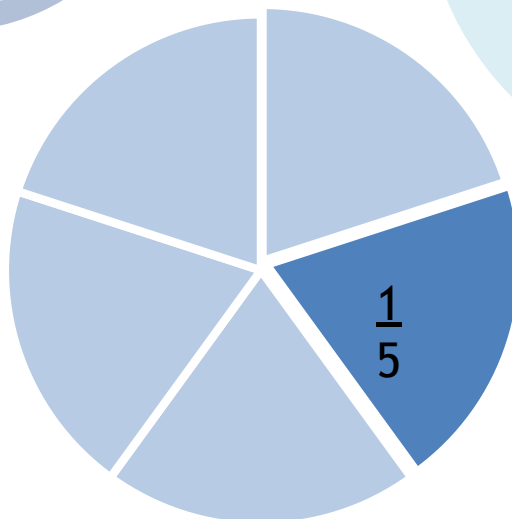
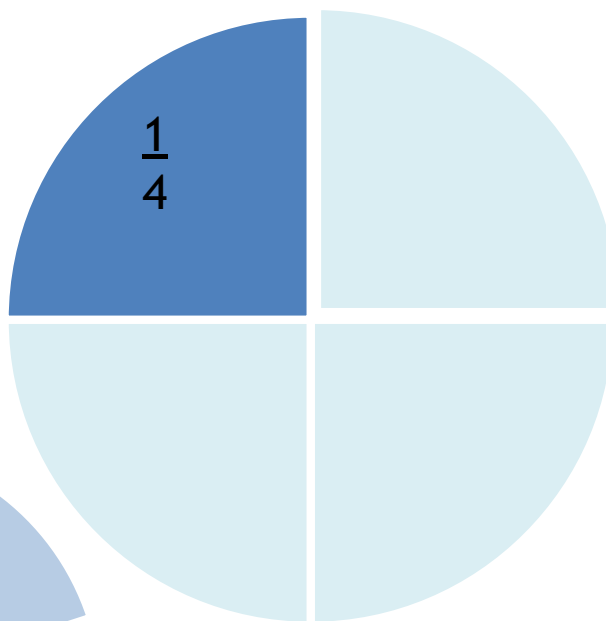
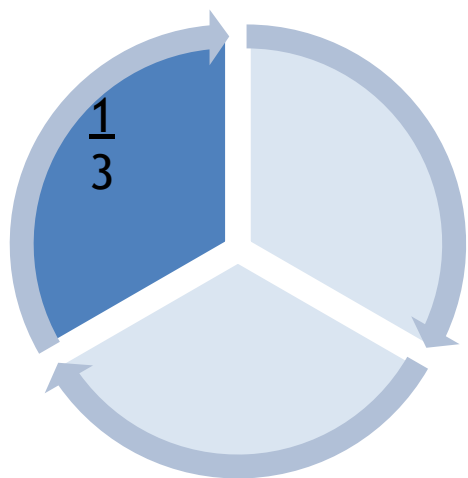
- ⦿ Что нужно узнать?
- ⦿ Чему нужно научиться?

С.76 в учебнике.


№3

№4

КАКУЮ ЧАСТЬ КРУГА СОСТАВЛЯЮТ
ЗАКРАШЕННЫЕ ДОЛИ?

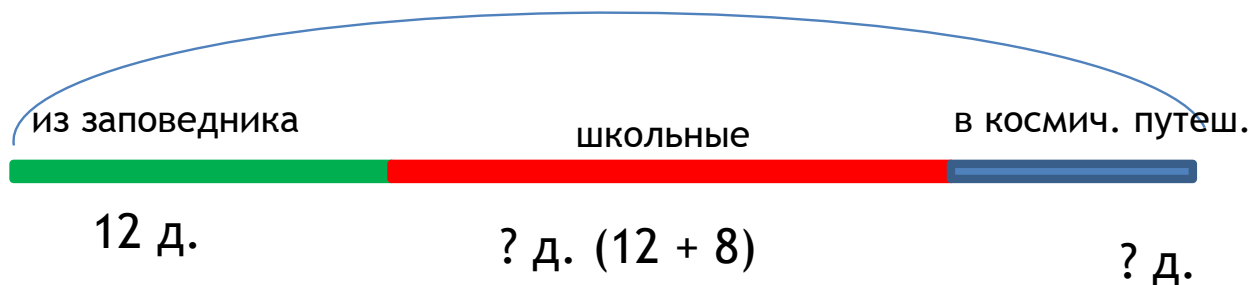


ФИЗ МИНУТКА



ЗАДАЧА 6 (А)

36 д.



- 1) $12 + 8 = 20$ (д.) - школьных
- 2) $12 + 20 = 32$ (д.) - из заповедника и школьных
- 3) $36 - 32 = 4$ (д.)

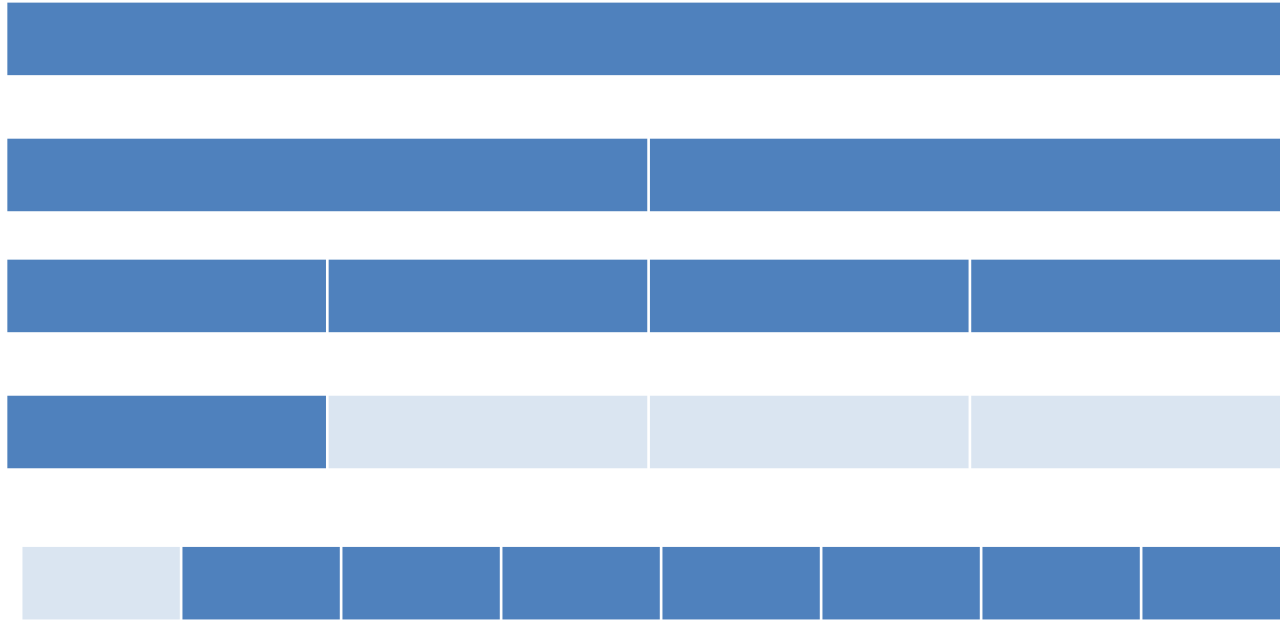
2 сп.

$$36 - 12 - (12 + 8) = 4 \text{ (д.)}$$

Ответ: 4 друга.



НАХОЖДЕНИЕ ДОЛИ ЧИСЛА



На какое количество частей разделили полоску?

Как найти длину доли полоски?



ЧТО ЕЩЕ МОЖНО РАЗДЕЛИТЬ НА
ДОЛИ? СКОЛЬКО ДОЛЕЙ?



Д/З С. 78 №5 (А), 4 (Б)



Молодцы!

