
Дробь как одна или
несколько равных долей

- Частное от деления натуральных чисел можно записать в виде дроби
- Числитель дроби – это делимое, а знаменатель - делитель

$$5 : 6 = \frac{5}{6}$$

2 : 6

числитель

2

делимое

—

знаменатель

6

делитель

№1 Запишите частное в виде дроби,
подпишите, где у дроби числитель, а где
знаменатель.

а) $3 : 4$ б) $2 : 7$ в) $23 : 47$ г) $45 : 94$

Проверь
соседа
по парте

$$3 : 4 = \frac{3}{4}$$

3 — ЧИСЛИТЕЛЬ
4 — ЗНАМЕНАТЕЛЬ

$$23 : 47 = \frac{23}{47}$$

23 — ЧИСЛИТЕЛЬ
47 — ЗНАМЕНАТЕЛЬ

$$2 : 7 = \frac{2}{7}$$

2 — ЧИСЛИТЕЛЬ
7 — ЗНАМЕНАТЕЛЬ

$$45 : 94 = \frac{45}{94}$$

45 — ЧИСЛИТЕЛЬ
94 — ЗНАМЕНАТЕЛЬ

Проверь себя:

$$\frac{1}{7}$$

$$\frac{3}{7}$$

$$\frac{4}{17}$$

$$\frac{7}{17}$$

$$\frac{1}{4}$$


$$\frac{1}{7}$$

$$\frac{3}{7}$$

>

$$\frac{3}{10}$$

Рассмотрим пример



числитель


2

*столько равных
долей взяли*


знаменатель

6


*на столько равных
долей разделили
единицу*



$$\frac{3}{4}$$

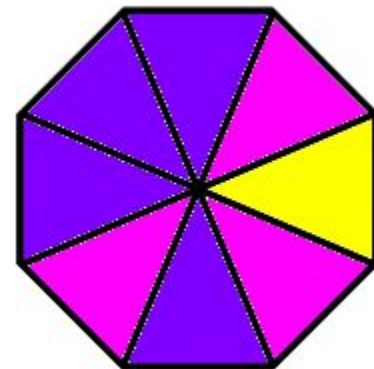
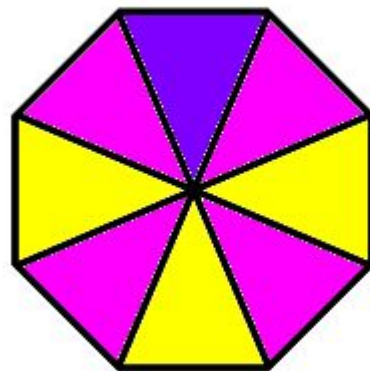
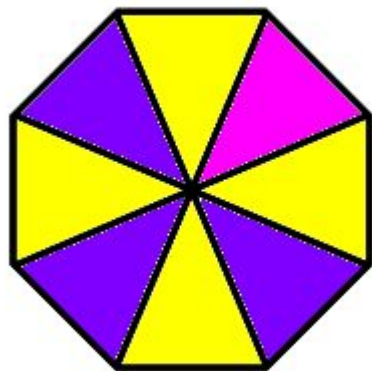
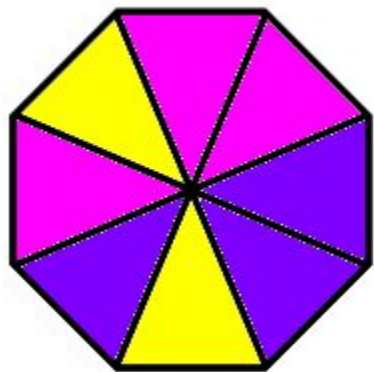


$$\frac{6}{12}$$




$$\frac{5}{9}$$


*Запишите в виде дроби какая часть фигуры
закрашена желтым, красным и синим
цветом*




Закрасьте указанную часть фигуры.




$$\frac{4}{8}$$



$$\frac{6}{8}$$

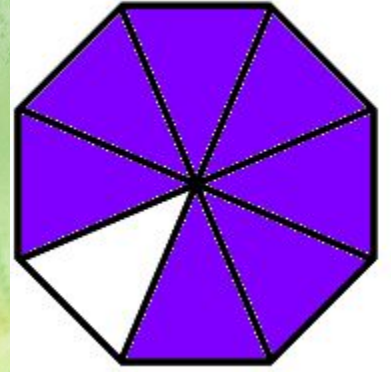
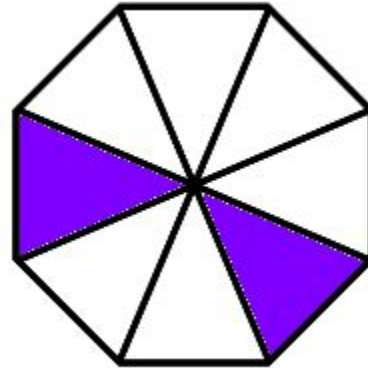
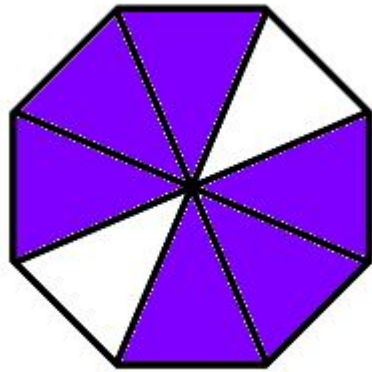
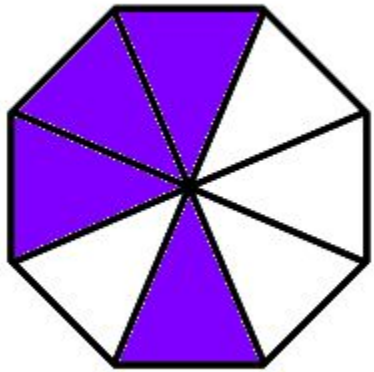


$$\frac{2}{8}$$



$$\frac{7}{8}$$

Проверь соседа
по парте



$$\frac{4}{8}$$

$$\frac{6}{8}$$

$$\frac{2}{8}$$

$$\frac{7}{8}$$

КРИТЕРИИ ОЦЕНКИ:

**ЕСЛИ ВАШ СОСЕД
ВЫПОЛНИЛ:**

4 ЗАДАНИЯ: ОЦЕНКА «5»

3 ЗАДАНИЯ: ОЦЕНКА «4»

2 ЗАДАНИЯ: ОЦЕНКА «3»

**Поставьте свою оценку
в оценочный лист**

Итог урока.



- Что вы узнали нового и чему научились в ходе урока?
- Смогли бы вы объяснить материал этого урока своему другу, если бы он попросил?
- Активно ли вы работали на уроке?
- Понравился ли вам урок и что понравилось больше всего?

- **Понравился ли тебе урок?** _____

- **Что не понравилось на уроке?** _____

- **Поставь отметку учителю по 5- бальной системе.**

- **Оцени свою деятельность за урок по 5 – бальной системе.**

- **Какой фрагмент урока был самым интересным?** _____

ДОМАШНЕЕ ЗАДАНИЕ

ВНИМАТЕЛЬНО ПРОЧИТАТЬ П. 19

ВЫУЧИТЬ ПРАВИЛА!!!

**ВЫПОЛНИТЬ ЗАДАНИЯ
ИЗ УЧЕБНИКА**

СТР.92

№ 312, №313, №314