



# Математика 4 класс



## Единицы времени - сутки



Урок 35



# *Психологический настрой учащихся*

- Итак, сядьте удобно, закройте глаза.  
Повторяйте за мной:

**Я в школе на уроке.**



**Сейчас я начну учиться.**

**Я радуюсь этому.**

**Память моя крепка.**

**Я готов к работе.**

**Я работаю!!!**





Расположите единицы измерения  
по возрастанию:



метр

дециметр

километр



миллиметр

сантиметр


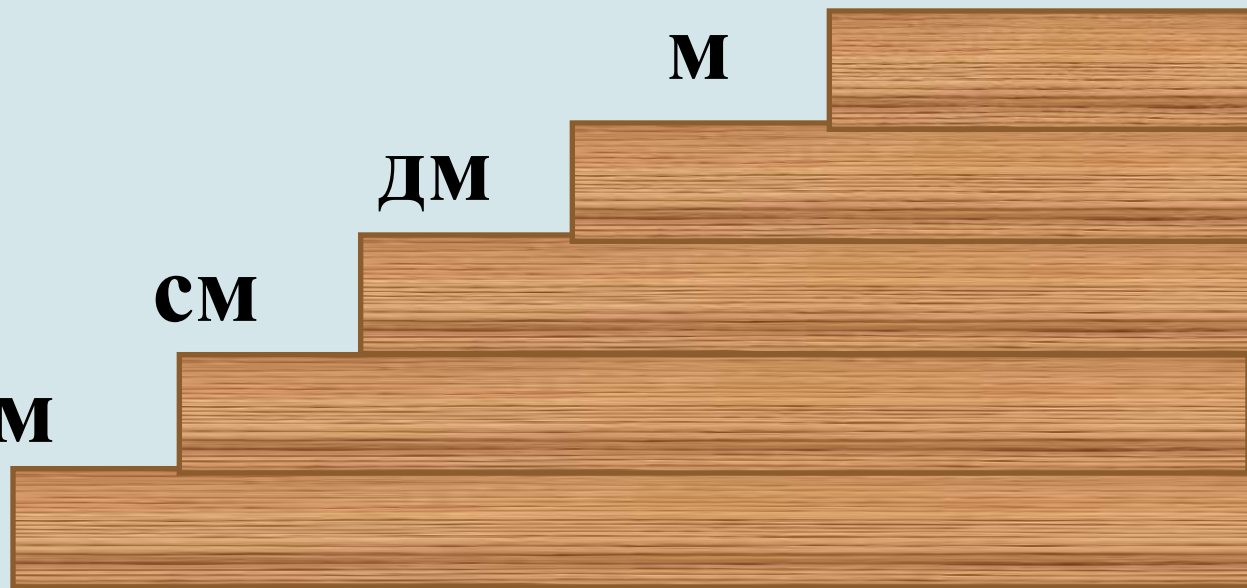
КМ

М

ДМ

СМ

ММ





Расположите единицы измерения  
по убыванию:

килограмм

грамм

тонна



центнер

Т

Ц


КГ

Г





# Расположите единицы измерения по возрастанию:



месяц

неделя

год

день

век

век







год

месяц

неделя



день







- Кедровая шишка с семенами созревает 27 месяцев. Сколько это лет и месяцев?





# Единицы времени - сутки




# Сутки




Наша планета Земля вращается не только вокруг Солнца, но и вокруг своей оси, подставляя то один, то другой бок солнышку. Там, где планета освещена солнцем, **день**. В это время с другой стороны планеты – **ночь**.





- Лето



- Зима



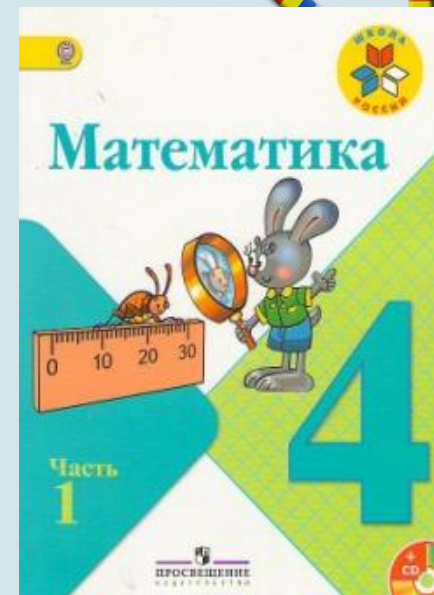

«Дни длинные, а ночи короткие». Когда это бывает?  
Выберите правильный ответ.






# Работа по учебнику


с. 48 – работа со  
статьёй учебника  
(вверху)



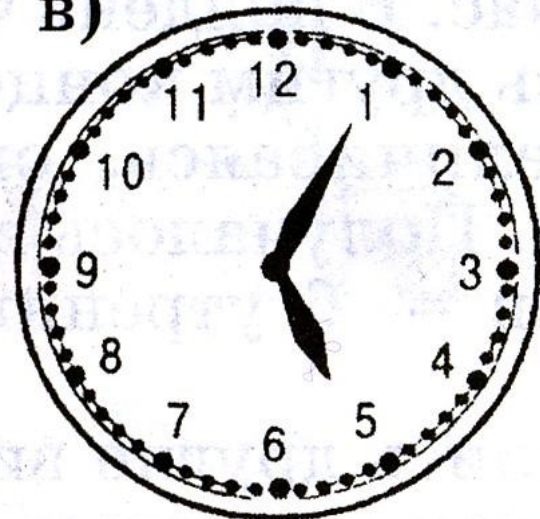
a)



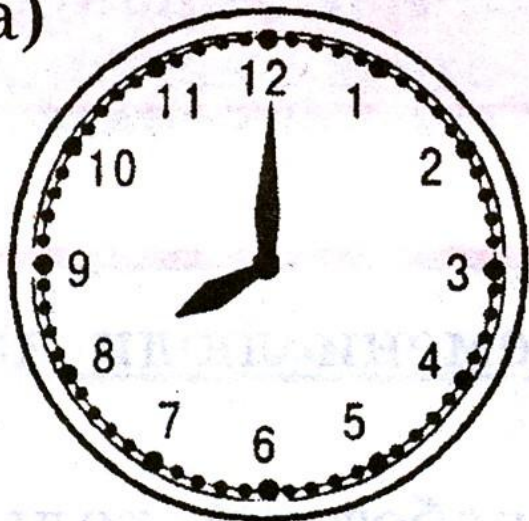
б)



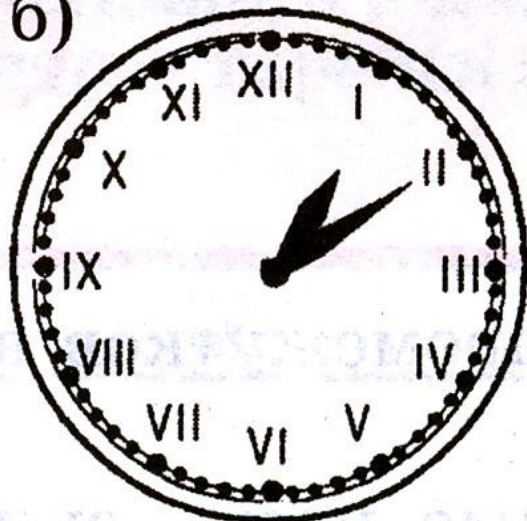
В)



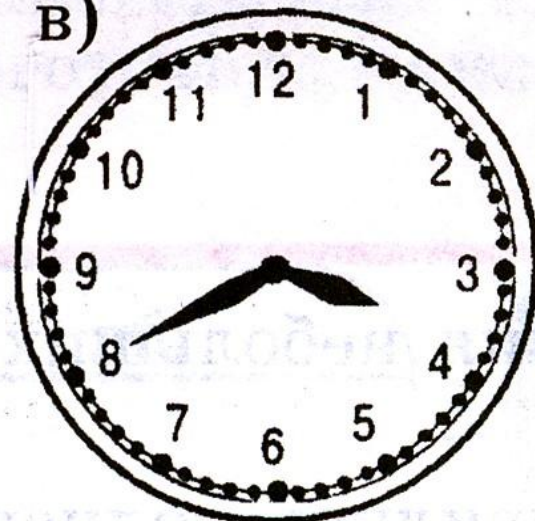
a)




б)



В)

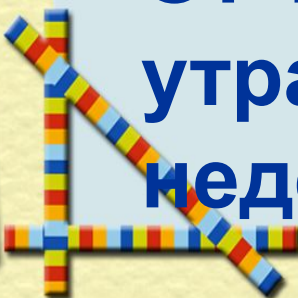




# Сколько суток пройдёт?




- От 12 ч дня понедельника до 13 ч дня среды?
- От 9 ч воскресенья до 9 ч утра следующего воскресенья?
- От 10 ч утра вторника до 10 ч утра четверга следующей недели?





Сколько составляют:




$1/2$  часа?  минут



$1/3$  года?  мес.

$1/4$  суток?  часов

$1/6$  часа?  минут







# Вырази:

• 2 сут. = 48 ч

• 72 ч = 3 сут.


• 3 г. = 36 мес.

• 96 мес. = 8 г.





*Классная работа. 6.11.*



## Вырази:

в сутках: 48 ч, 96 ч;



в часах: 2 сут, 120 мин;

в месяцах: 3 года, 8 лет и 4 мес;



в годах: 60 мес, 84 мес;

в секундах: 5 мин, 16 мин;

в минутах: 600 с, 2 ч .

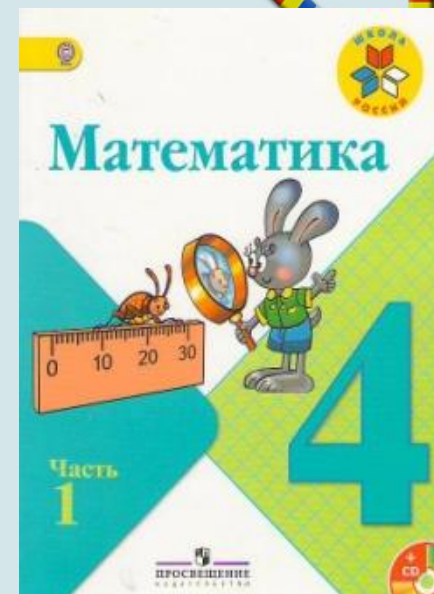




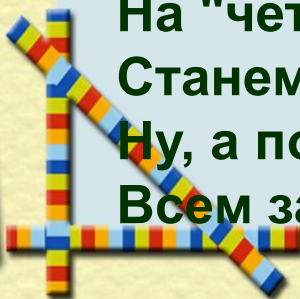


# Работа по учебнику


с. 48, № 227 – по  
рядам





# Физминутка



На зарядку солнышко  
Поднимает нас.  
Поднимаем руки мы  
По команде "раз."  
А над нами весело  
шелестит трава.  
Опускаем руки мы  
По команде "два."  
Соберем в корзинки мы  
Ягоды, грибы,  
Дружно наклоняемся  
По команде "три".  
На "четыре" и на "пять"  
Станем дружно мы скакать.  
Ну, а по команде "шесть"  
Всем за парты тихо сесть!

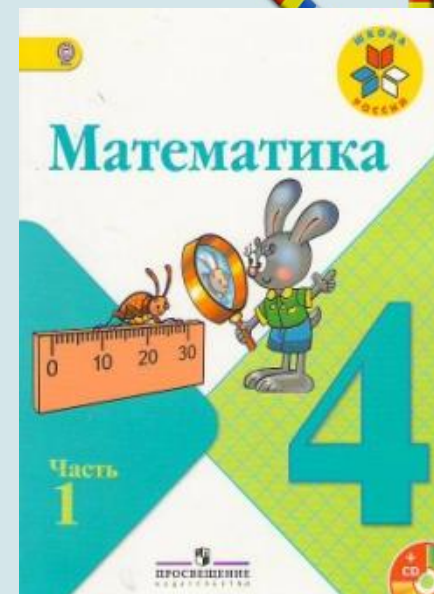





# Работа по учебнику

с. 48, № 228

№ 229





**Нет времени.**

**Время летит.**




**Время как резиновое.**


**Тратить время.**

**Убить время.**

**Времени хоть отбавляй.**

**Экономить время.**





# Единицы измерения времени

**Тысячелетие**

**Век**

**Год**

**Месяц**

**Неделя**


**Сутки**

**Час**

**Минута**

**Секунда**











- 1 век
  - 1 год
  - 1 сут
  - 1 ч
  - 1 мин
  - 1 неделя
  - 1 месяц
- 60 с
  - 60 мин
  - 7 сут
  - 24 ч
  - 30 сут или 31 сут (в феврале 28 или 29)
  - 100 лет
  - 365 или 366 сут
  - 12 мес




# Итог урока

- Что нового узнали на уроке?
- Что мы повторяли сегодня на уроке?
- Какое задание на уроке понравилось вам больше всего? Какое – меньше?






Хочу знать больше  
Всё понятно на уроке,  
затруднений нет  
Ничего не понятно на уроке





# Домашнее задание:

с. 48, № 230



**Спасибо за урок!**

