

Математика

**Учитель начальных классов
МБОУ СОШ № 3 ст.Фастовецкой
Батищева Оксана Александровна**

Подготовка к уроку:

- Сегодня прекрасный осенний день.
- У меня отличное настроение.
- Я буду внимательно слушать учителя.
- И у меня все получится.



Запиши число, которое

на 1 больше, чем

9899, 10003

9900, 10004

**Запиши число, которое
содержит 30 единиц
класса тысяч**

30000

**Запиши число, которое
на 1 меньше, чем**

700000, 100000,

100003

699999, 99999, 100002

Запиши число, которое
содержит **572** десятка

5720

**Запиши число 100, а рядом число,
которое в 100 раз больше его.**

100, 10000

**Сколько всего сотен в числе
230454 ?**

2304сот.

**Представь в виде суммы
разрядных слагаемых**

$$8025=$$

$$8000+20+5$$

107	520	88	864	985	184	921	76
Л	Ч	Е	И	Ы	И	Н	В

--	--	--	--	--	--	--	--

1 мм 1 см 1 коп. 1 мин. 1 дм²

1 м 1 дм 1 руб. 1 см² 1 час

□ Распределите единицы по группам

Ед. длины

ед. времени

денежные ед.

ед. площади

1 мм

1 см

1 дм

1 м

1 мин

1 час

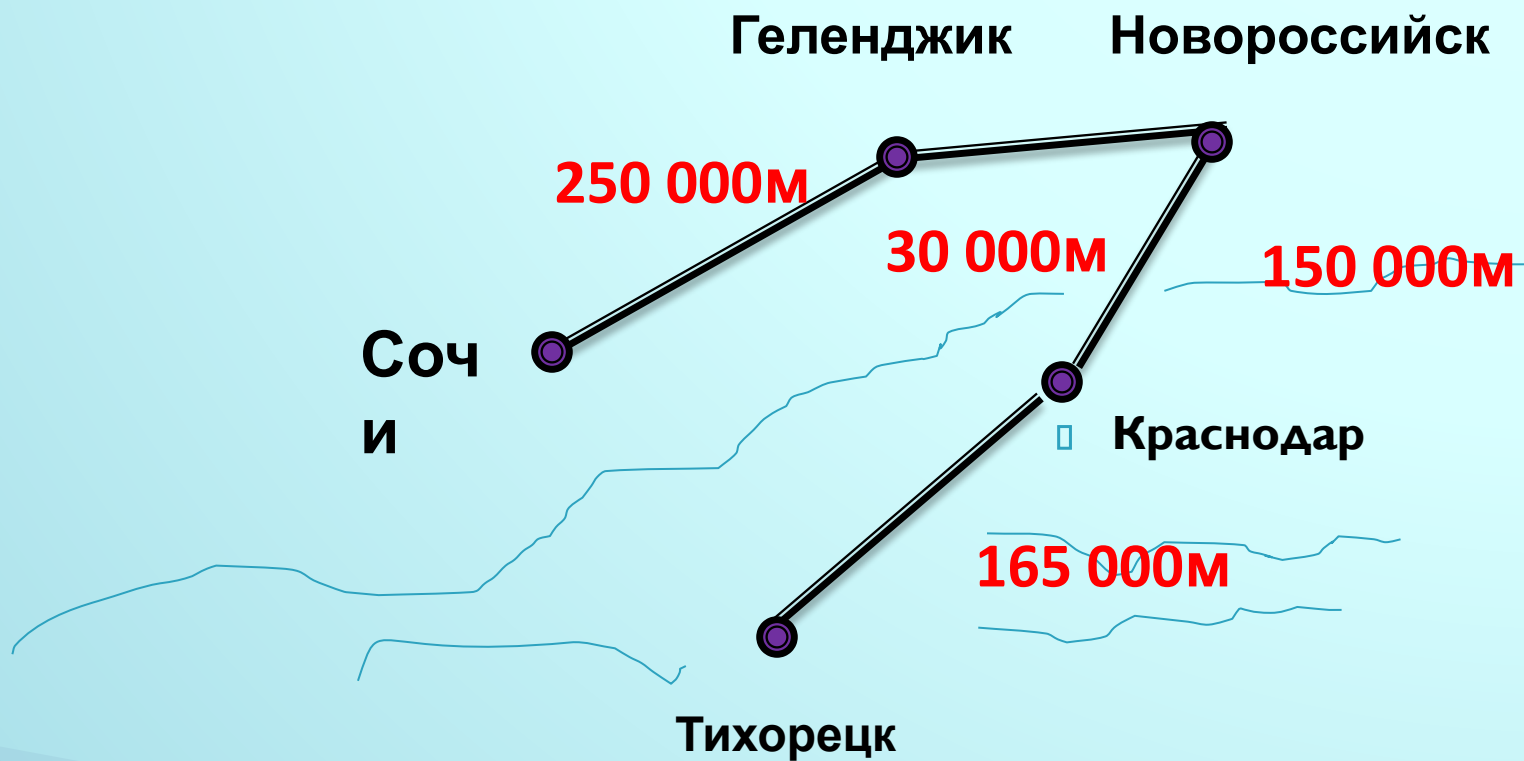
1 коп.

1 руб.

1 см²

1 дм²

Карта




Тема

Единица длины

КИЛОМЕТР

$$1 \text{ км} = 1000 \text{ м}$$



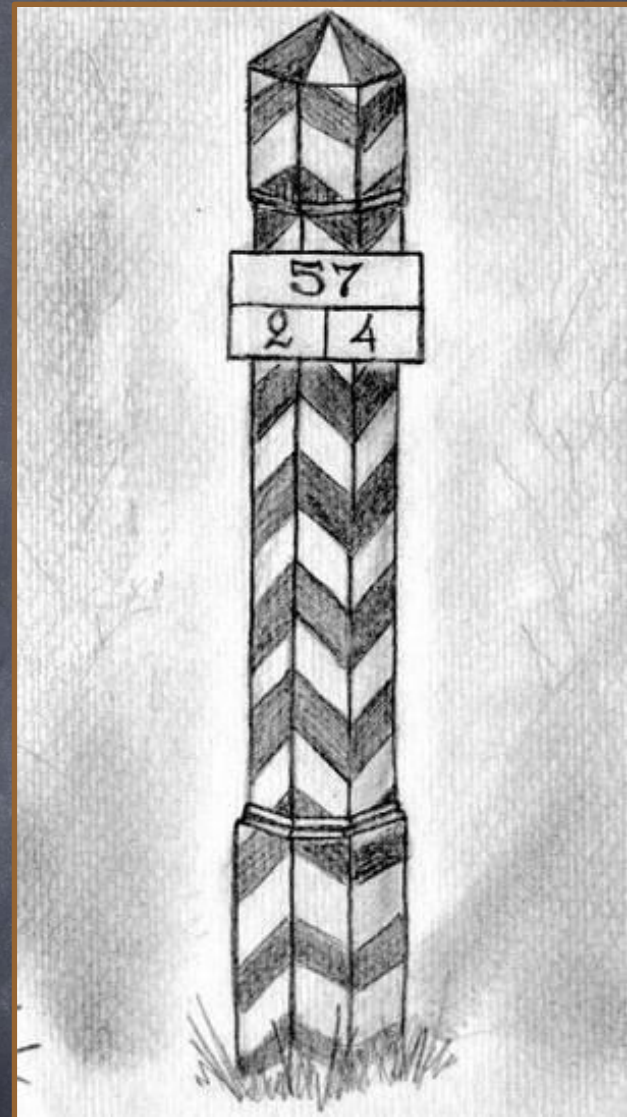
Маховая сажень



Косая
сажень

сажень
маховая; косая

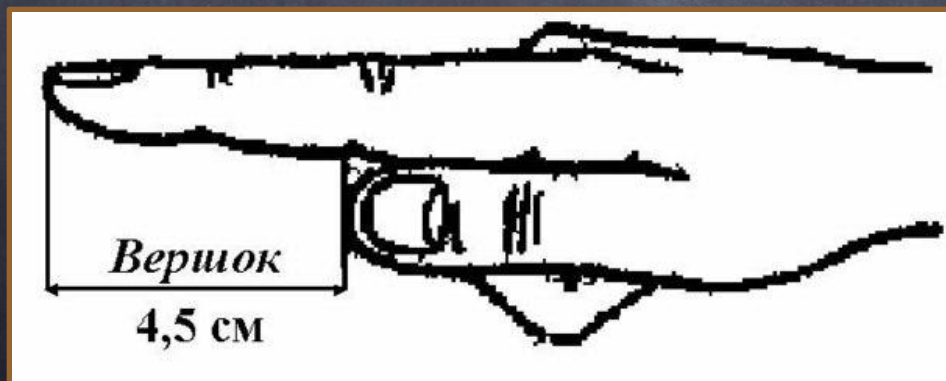
ЛОКОТЬ



верста



аршин



вершок

ФИЗМИНУТКА

Тема

Единица длины

КИЛОМЕТР

$$1 \text{ км} = 1000 \text{ м}$$

Карта

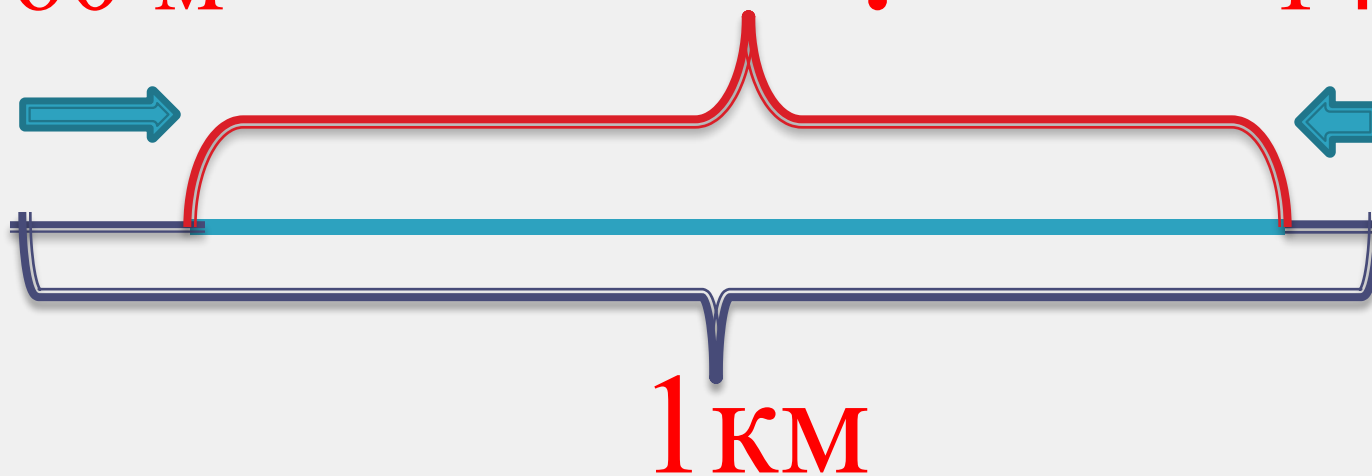


Реши задачу

160 м

?

140 м



1 км

Догадайся какой единицей
измерения пользовались

Ширина стола 6 дм

Высота дерева 12 м

Толщина книги 20 мм

Догадайся какой единицей
измерения пользовались

Длина карандаша **13 см**

Путь от города до
дома **18 км**

- Я узнал...
- Я научился...
- Знания пригодятся мне для...
- Моё настроение...

Домашнее

задание

**Стр.37 правило,
Стр. 34-35 № 8, 13**

СПАСИБО ЗА УРОК!

