

Тренажёр
«Единицы
измерения
длины и
массы»
3 класс



Результат теста

Верно: 0

Ошибки: 0

Отметка: 0

Время: 0 мин. 25 сек.

[ещё](#)

Сколько сантиметров
содержится

в **5 дм**?

55 см

15 см

50 см



Какова общая масса в килограммах и граммах?



1 кг 850 г

1 кг 750 г

1 кг 550 г



Переведи массу

1 кг 412 г в граммы

10412 г

1421 г

1412 г



Какова длина ломанной, если
её звенья равны **5 см, 2 см, 8**
см, 3 см ?

15 см

17 см

18 см



**Сумка с продуктами весит 7 кг
300г, а
пакет – 3 кг 250 г. На сколько
сумка тяжелее пакета?**

4кг 50 г

3 кг 50 г

4 кг 500 г



Первый отрезок 9 см, второй на 6 см длиннее. Какова длина второго отрезка?

14 см

15 см

13 см



Какое число надо вставить
вместо точек, чтобы равенство
было верным?

$$1 \text{ дм } 7 \text{ см} = \dots \text{ см}$$

107 см

71 см

17 см



**Пачка тетрадей весит 600
г. Сколько весит 7 таких
пачек?**

4800 г

4 кг 200 г

4300 г



Сколько граммов содержится в

7 кг ?

7000 г

700 г

70000 г



**Стороны прямоугольника равны 4
см и 7 см.**

**Чему равен периметр
прямоугольника?**

11 см

28 см

22 см



Сколько дециметров в

70 м?

7 дм

700 дм

7000 дм



Сколько килограммов и граммов в мешке?

70 кг 73 г

7 кг 73 г

7 кг 730 г



Длина первого отрезка 6 см,
длина второго отрезка 14
см. На сколько второй
отрезок длиннее первого?

на 8 см




на 7 см

на 9 см



Какой знак надо поставить
вместо точек, что бы запись
была верной?

1 дм 3 см....15 см



**Что тяжелее:
1кг ваты или 1 кг
железа?**

вата

железо

равны

