

Тема урока:

Единицы массы.

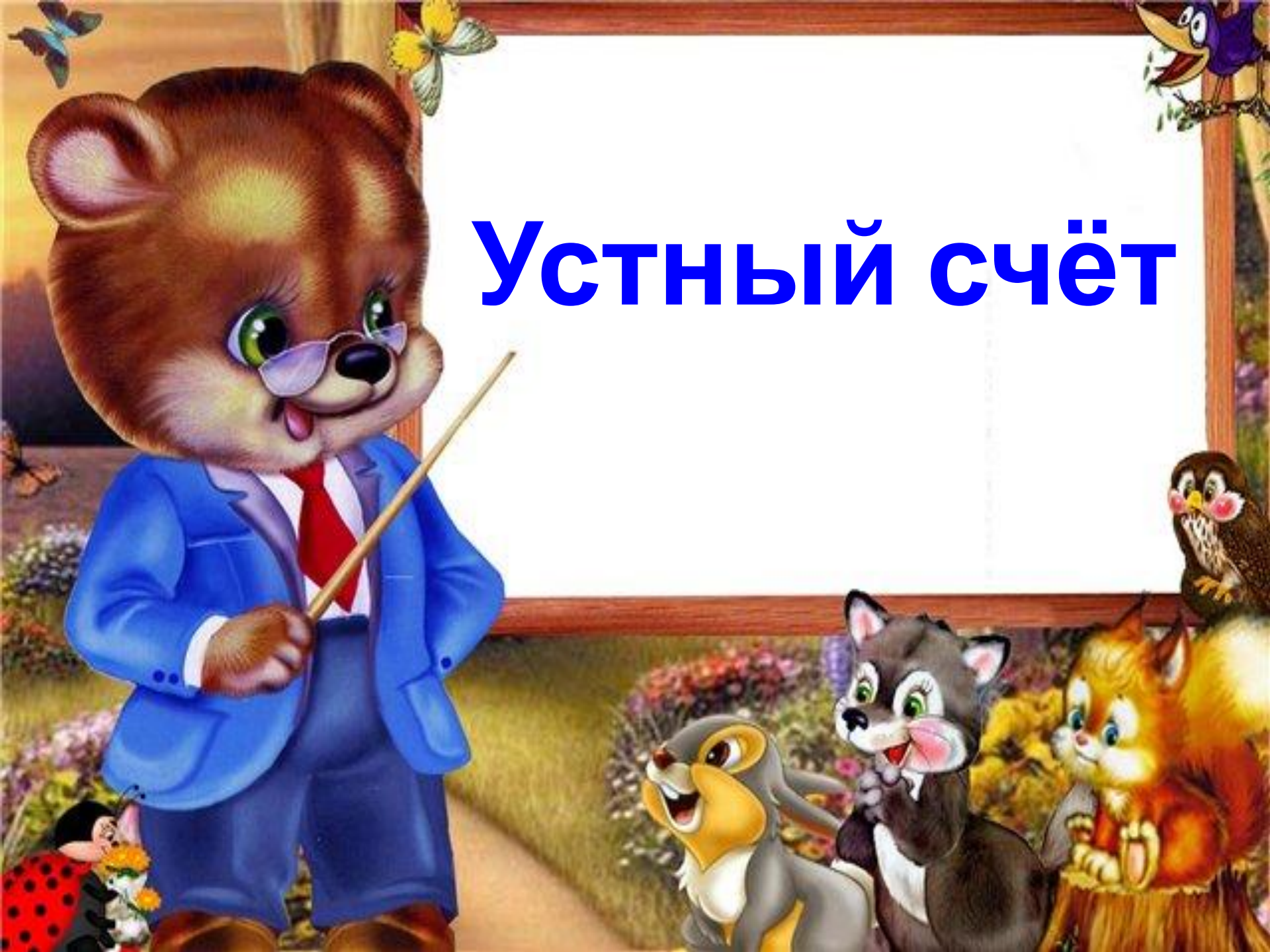


Математика, 3 класс
«А»

Кравченко

Оксана Васильевна

Устный счёт



Назови «соседей» числа:

..., 509,

..., 111,

..., 750,

..., 230,

... **Найди лишнее** ...

4

13

22

35

40



**Прочти условие задачи и объясни,
что узнаешь, выполнив действия:**

В букете 25 кленовых листьев,
дубовых на 13 листьев больше, а –
берёзовых в 2 раза больше, чем

$$25 + 13$$

$$(25 + 13) * 2$$

$$13 + (25 + 13) * 2$$




Молодцы!





От 80 до 1200 кг




300 кг


3 кг; 1 кг



Какая нужна единица измерения массы, больше кг или меньше кг?



1 кг = 1000 г



«Абсолютный» килограмм

Старинные весы





Электронные весы



Кухонные весы



Физкультминутка

Интересно с человеком
Поработать – посчитать:
Прибавлять плотины к
рекам,
А пустыни – вычитать!
Умножать сады и школы,
Домны, шахты, ледоколы,
А потом делить на всех
И богатства, и успех.



**На сколько мяч
тяжелее шахматной
фигуры?**



200 г



200 г



200 г



Сколько сладостей съел Петя за день?



400 г

№ 2

1. Сколько граммов весит вся покупка?
2. На сколько больше весят две пачки печенья, чем 2 пачки чая?

Самостоятельная работа

Задание №3

Взаимопроверка

Рефлексия

Какая мера массы больше кг или г ?

Сколько граммов в 1 кг?

В каких случаях мы используем измерения в граммах?

Рассмотрите таблицу домашних кухонных мер массы.

Для чего и в каких условиях может понадобиться эта таблица?