

**Муниципальное автономное общеобразовательное учреждение
«Средняя общеобразовательная школа №2»**

Единицы массы - килограмм

Якутова В.А

2015 г.

КГ

К

К

Г

Г

Г К

К

К

Г



$8 - 2$

$8 + 2$


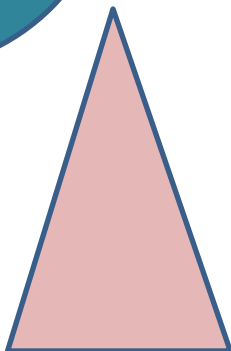




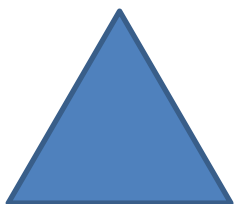


Вчера температура воздуха на улице была 8 градусов, а сегодня на 2 градуса теплее. Какая температура воздуха сегодня?

**Длина ручки 8 см, а
длина ластика 2 см.
На сколько ручка
длиннее ластика?**

**Мама собрала 8
стаканов ягод, а дочь –
на 2 стакана меньше.
Сколько стаканов ягод
собрала дочь?**

Папа принес из магазина 8 кг картофеля и 2 кг моркови.

Сколько килограммов овощей купил папа?





Масс

а

**Тема: единица
массы –
килограмм.**

Весы электронные





Весы
напольные







Измерение массы. Килограмм. Задание 1



Найди массу каждого предмета. Для этого уравновесь этот предмет гирями на весах. Постарайся сделать это разными способами.




Масса портфеля кг.

Масса бочонка с мёдом кг.

Масса книги кг.

Масса апельсинов кг.



Работа в паре



$3\text{кг} * 2\text{кг}$

$9\text{кг} * 5\text{кг}$

$8\text{л} * 7\text{л}$

$10\text{см} * 6\text{см}$

$5\text{л} + 3\text{л} * 8\text{л}$

$10\text{кг} * 5\text{кг} + 4\text{кг}$

$9\text{см} - 3\text{см} * 5\text{см}$

$3\text{кг} * 6\text{кг} - 2\text{кг}$



Молодцы!