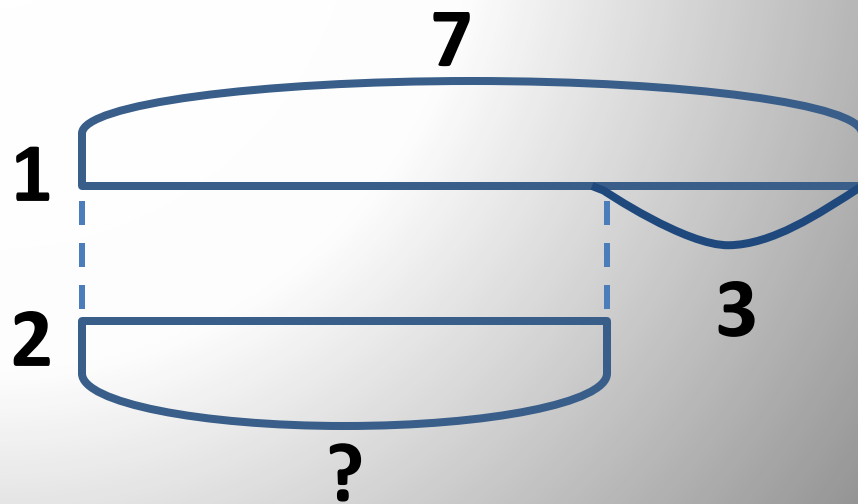
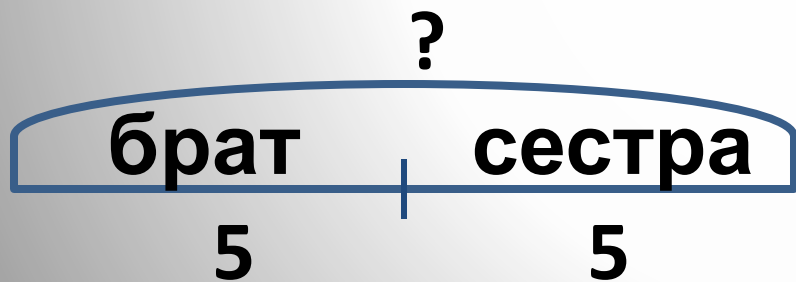
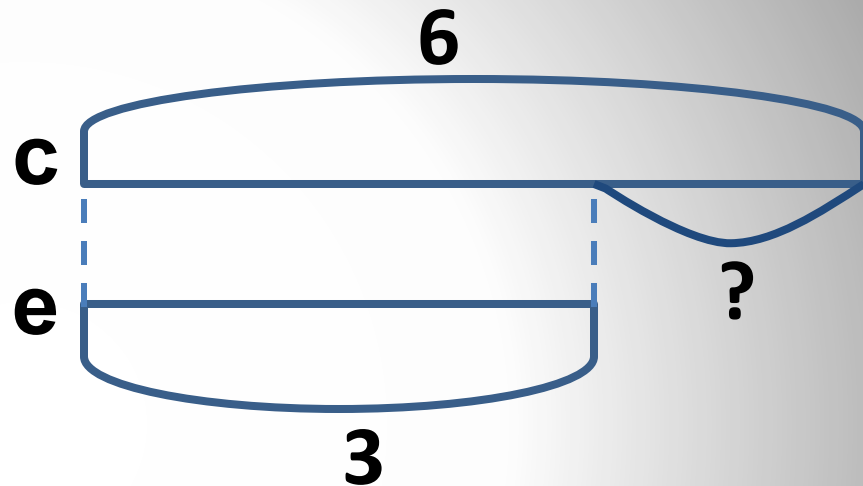
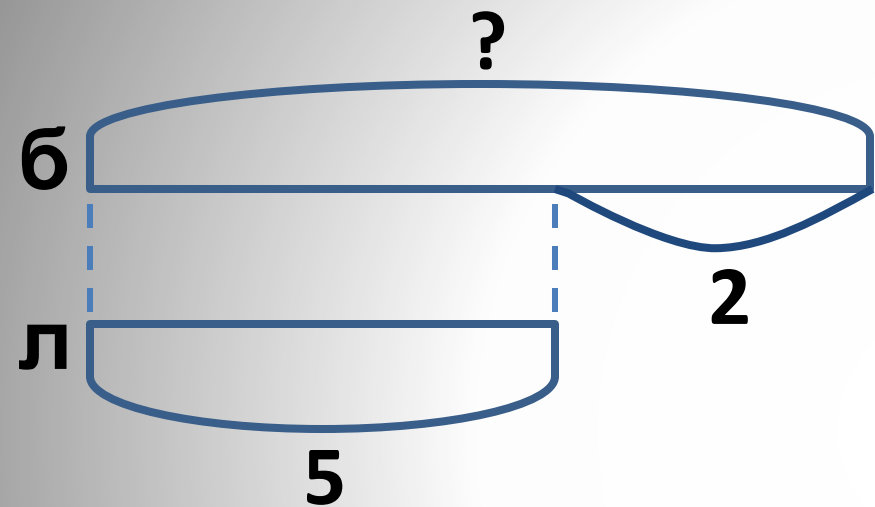


Подберите схемы к задачам




Единицы счёта

Цель:

- 1) Закрепить сравнение, сложение и вычитание укрупнённых единиц счёта;
- 2) Закрепить решение текстовых задач и уравнений;
- 3) Отрабатывать навыки быстрого счёта в пределах 9.



№2



No 3

$$\begin{array}{|c|} \hline \square \square \square \square \begin{array}{c} \bullet \bullet \bullet \\ \bullet \bullet \bullet \end{array} - \square \square \square \begin{array}{c} \bullet \\ \bullet \end{array} = \square \begin{array}{c} \bullet \bullet \\ \bullet \bullet \end{array} \\ \hline \end{array}$$



No 4


A subtraction problem using ten frames. The first ten frame contains 7 green squares and 4 black dots. The second ten frame contains 3 green squares and 2 black dots. An equals sign follows.

A ten frame containing 4 green squares and 3 black dots.




№ 5

X =



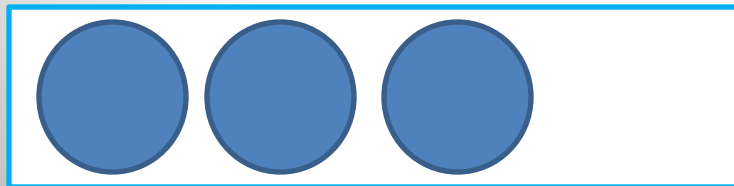
X =



X =



X =



№ 6