

Математика 4 класс

Единицы времени




Шунькина Татьяна Викторовна

учитель начальных классов

ГБОУ школа № 359

г. Санкт-Петербург





Единицы измерения времени:

Тысячелетие

Век

Год

Месяц



Неделя

Сутки

Час

Минута

Секунда



Задание 1.

Расположите единицы измерения
по возрастанию:

МЕСЯЦ **ВЕК** **СУТКИ** **ГОД** **НЕДЕЛЯ**



ВЕК

ГОД

МЕСЯЦ

НЕДЕЛЯ



СУТКИ




Задание 2.

Соедини правильно величины.



- 1 век
 - 1 год
 - 1 сут
 - 1 ч
 - 1 мин
 - 1 неделя
 - 1 месяц
- 60 с
 - 60 мин
 - 7 сут
 - 24 ч
 - 30 сут или 31 сут (в феврале 28 или 29)
 - 100 лет
 - 365 или 366 сут
 - 12 мес






Задание 3. Вырази.

в сутках: 48 ч
в часах: 120 мин
в месяцах: 8 лет и 4 мес
в годах: 72 мес
в секундах: 5 мин
в минутах: 600 с



Проверь себя:



$$48 : 24 = 2$$

$$48 \text{ ч} = 2 \text{ сут}$$



$$120 : 60 = 2$$

$$120 \text{ мин} = 2 \text{ ч}$$

$$8 \times 12 + 4 = 100$$

$$8 \text{ лет } 4 \text{ мес} = 100 \text{ лет}$$

$$72 : 12 = 6$$



$$72 \text{ мес} = 6 \text{ лет}$$

$$5 \times 60 = 300$$

$$5 \text{ мин} = 300 \text{ с}$$

$$600 : 60 = 10$$

$$600 \text{ с} = 10 \text{ мин}$$






Задание 4.
Сравни величины.

6 мин 3 с > 362 с

1 ч 12 мин < 82 мин

1 сут 12 ч = 36 ч



ЕДИНИЦЫ ВРЕМЕНИ:

1 век = 100 лет

1 год = 365 или 366 сут = 12 мес




1 сут = 24 ч


1 ч = 60 мин

1 мин = 60 с

1 неделя = 7 сут

1 месяц = 30 сут или 31 сут
(в феврале 28 или 29)






Урок полезен,
всё понятно.

Лишь кое-что
чуть-чуть неясно.

Ещё придётся
потрудиться.

Да, трудно
всё-таки учиться!








Домашнее задание:

1) № 363,366 из учебника.

2) Составь 3 выражения с единицами времени для соседа по парте (задание на карточке).

3) № 337, составь аналогичную задачу, представив ей план любого своего дня.





спасибо за урок!
МОЛОДЦЫ!!!