


Урок математики в 3 классе



Прочитайте

3 м 20 см 12 дм 40 кг

200 г 19 ч 40 мин 10 ч



200 г 19 ч 40 мин 10 ч




***Единицы времени,
соотношения между ними.***






Расположите единицы времени:
1 вариант – начиная с наибольшей
2 вариант – начиная с наименьшей

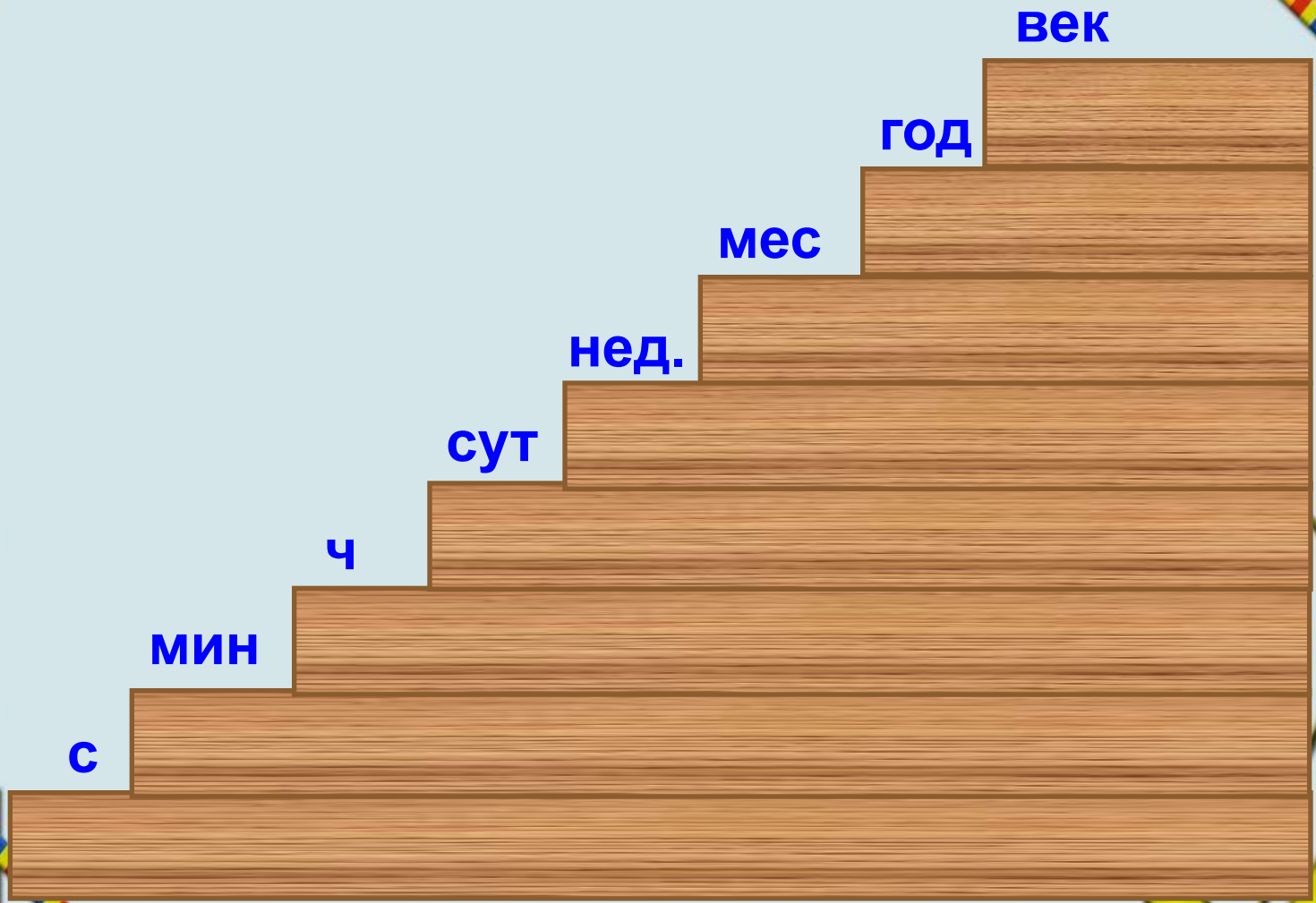


Секунда **месяц** **век**

Сутки **год** **час**

минута **неделя**





Вырази:

1) в сутках: 48ч, 96ч;

2) в часах: 2 сут., 120 мин;

3) в секундах: 5 мин, 15 мин;

4) в минутах: 600с, 5ч.



Проверим:

$$48\text{ч} = 2\text{ сут}$$

$$96\text{ч} = 4\text{ сут}$$

$$2\text{ сут.} = 48\text{ ч}$$


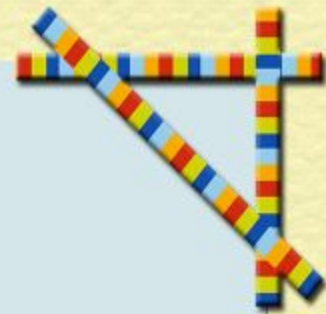
$$120\text{ мин} = 2\text{ ч}$$

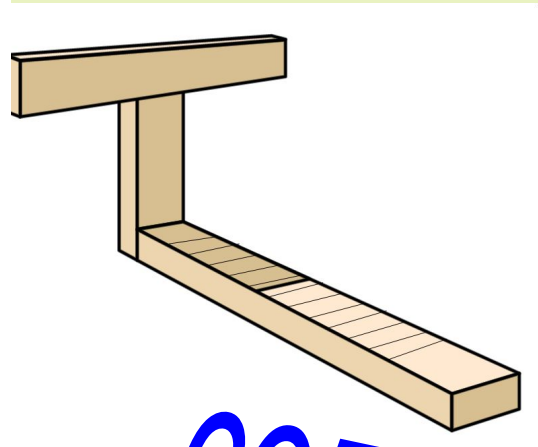
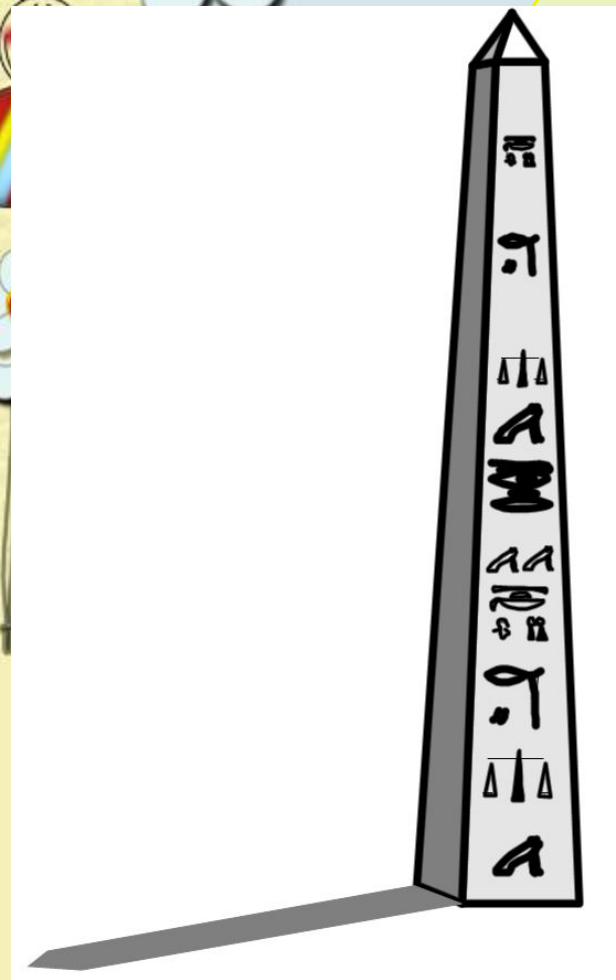

$$5\text{ мин.} = 300\text{с}$$

$$15\text{мин.} = 900\text{ с}$$

$$600\text{ с} = 10\text{ мин}$$





$$5\text{ч} = 300\text{ мин}$$






СОЛНЕЧНЫЕ ЧАСЫ







40×6

20×5

11×6

$900 : 100$



50×2

15×2

32×3

33×3

30×10

300×3

14×2

22×4

200×1

$800 : 200$

13×6


200×4


10×100

$900 : 300$


20×10

12×2





умываюсь



завтракаю




работаю на уроке



иду домой после уроков



играю на улице



делаю
домашнее
задание



В выходной день Дима 35 минут играл в компьютерные игры, а играл на улице в 4 раза больше. Сколько всего времени Дима играл в выходной день?



- 1) $35 \cdot 4 = 140$ (мин)
2) $140 + 35 = 175$ (мин)
 175 мин = 2 ч 55 мин





Расшифруйте пословицы и поговорки

100 лет живи, **100 лет** учись.

Обещанного **36 месяцев** ждут.

Делу время, а потехе **60 минут**.

7 дней **12 месяцев** кормит



Спасибо за урок!

