


2 класс

Математика

Учитель:

Корнилова Н.А.





Единицы времени

1 век – 100 лет

1 год – 12 месяцев

***1 месяц – 30 или 31 день, а в феврале
28-29 дней***

1 сут. – 24 часа

1 час – 60 минут

1 минута – 60 секунд



Задание 1



Незнайка сочинял стихи о
воих друзьях **5 часов и 17 минут.**
Сколько минут он занимался
этой трудной работой?

317 минут



Задание 2

Девочка Элли,
храбрый Лев,
железный Дровосек и
пёсик Тотошка летели
на воздушном шаре

*1 сутки и ещё 15
часов.*

Сколько времени они
затратили на полёт?

39 часов



Задание 3

Кот Леопольд терпел обидные
выходки мышей **1** месяц сентябрь, **2**
недели и **3** дня.

Через сколько дней терпение кота
лопнуло?

Через **47** дней



Задание 4.



Винни–Пух был приглашён в гости к ослику к 4 часам дня. Он вышел из дома в 3 часа , прихватив с собой горшочек мёда. До домика Пятачка он добирался 15 минут, $\frac{1}{6}$ часа уплетал вкуснейший обед, 10 минут рассматривал пустой горшочек, ещё 12 минут советовался с мудрой Совой и 10 минут брёл с друзьями к жилищу Ослика.



Не опоздали ли герои на праздничный обед?


Не опоздали ли герои на праздничный обед?



15 мин.



$1/6$ часа




10 мин.



12 мин.

10 мин..



$1/6$ часа = 10 минут

$$15 + 10 + 10 + 12 + 10 = 57 \text{ (минут)}$$



Задание 5.

24 АПРЕЛЯ

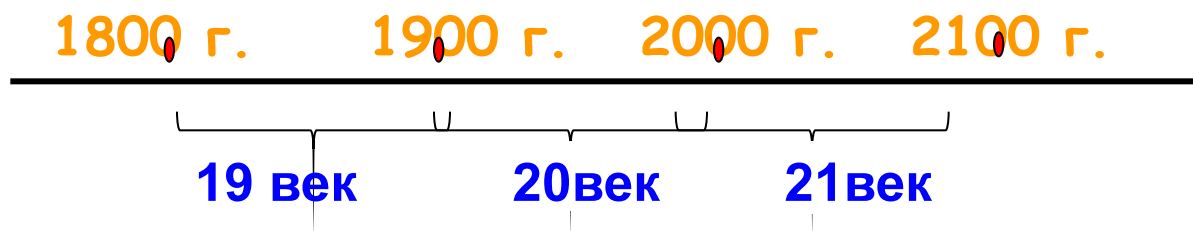
2015 ГОД

21 ВЕК

21 век = 2100 лет




Задание 6.



- Какой век закончится 31 декабря 1900 года?
- Какой век закончится 31 декабря 2000 года?
- Какой век начался 1 января 2001 года?



Расшифруйте пословицы и поговорки.



- 100 лет живи, 100 лет учись.
- Обещанного 36 месяцев ждут.
- Делу время, а потехе 60 минут.
- 7 дней 12 месяцев кормит.



Подумай и реши.

- Дима зашел в ванную комнату в 6 часов 55 минут, а вышел из ванной через 7 минут. В какое время Дима вышел из ванной?
- Дима проснулся в 6 ч 45 мин., за 20 мин. Сделал зарядку, умылся и оделся, после того он сел завтракать. Когда мальчик сел завтракать? Сколько минут продолжался завтрак, если закончился в 7 ч 20 мин?
- В выходной день Дима 35 мин. Играл в компьютерные игры, а играл на улице в 4 раза больше. Сколько всего времени Дима играл в выходной день?



МОЛОДЦЫ !



Спасибо

за урок !

