

Математику, друзья,  
Не любить никак нельзя.  
Очень строгая наука,  
Очень точная наука,  
Интересная наука -  
Это математика!

Минутка час бережёт.

Делу время – потехе час.

Век живи – век учись.

Два часа просыпался,

Два часа умывался,

Один час утирался,

Сутки одевался.



Поздно поднялся - день  
потерял.

В молодости не научился – жизнь  
потерял.



Цель урока:

Закрепить ранее изученный материал по математике, расширить знания детей о времени, воспитать бережное отношение ко времени



# Задачи


1. Закрепление вычислительных навыков, знания таблицы умножения, умение решать задачи, используя действие умножения
2. Формирование представления о времени и о единицах его измерения, систематизировать знания единичных отношений между мерами времени
3. Развитие логического мышления, внимания, общей культуры



Напишите число, которое  
находится между числами 879  
и 881.



К 8 сотням прибавьте 4  
единицы.



**НАПИШИТЕ ЧИСЛО, В  
КОТОРОМ 6 ДЕСЯТКОВ И  
3 ЕДИНИЦЫ.**





Число 140 увеличьте на 7.



Делимое 72, делитель 8,  
найдите частное.



Первое слагаемое 780, второе  
слагаемое 2. Чему равна  
сумма этих чисел?



Чему равно делимое, если делитель равен 7, а частное - 8.

Проверяем:

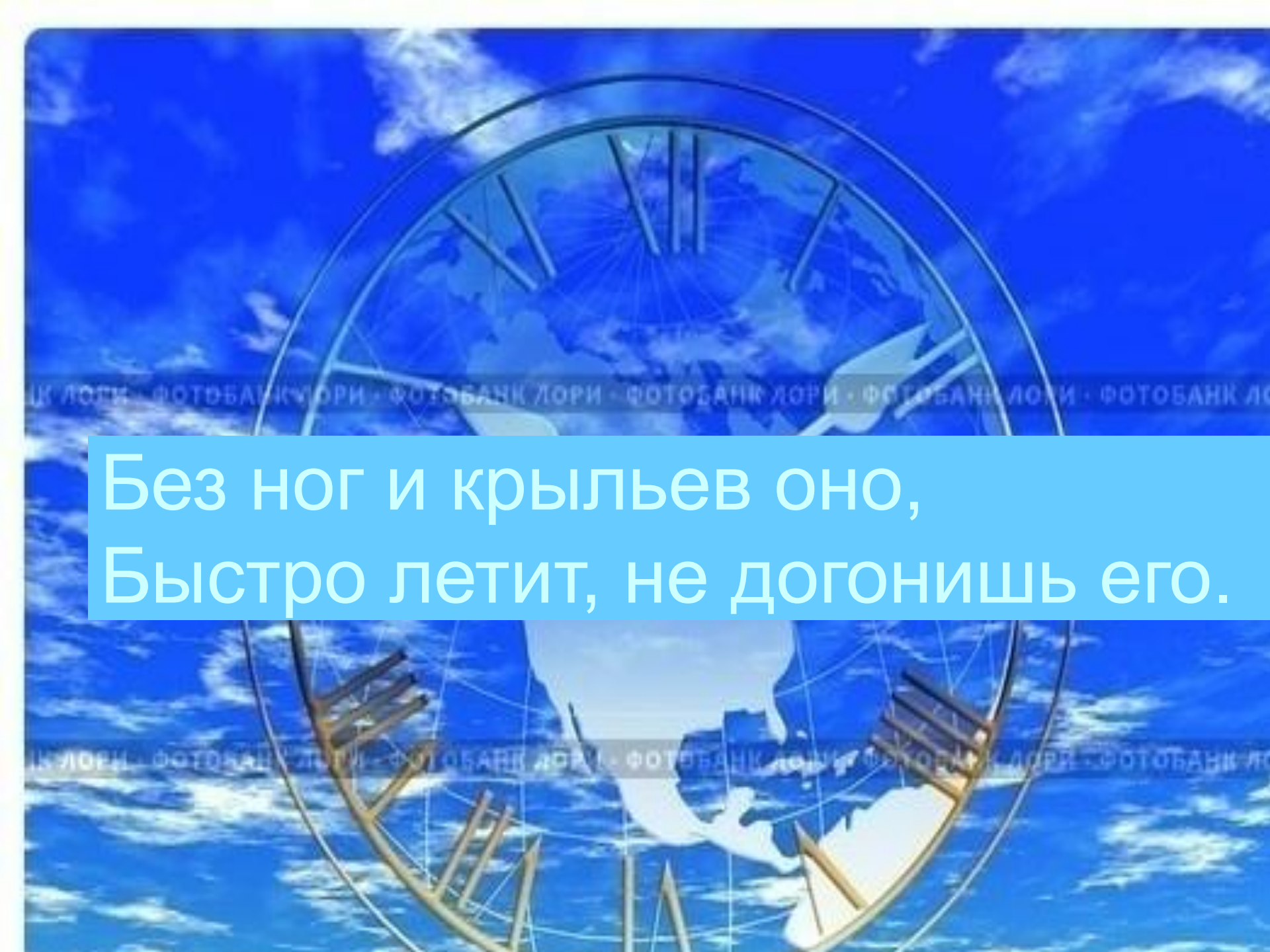
880, 804, 63, 147, 9, 782, 56

Расположите числа в порядке  
возрастания

880, 804, 63, 147, 9, 782, 56

Проверяем:

9, 56, 63, 147. 782. 804, 880.


The image features a blue-tinted background with a globe and a clock face. The globe is centered, showing the continents of North and South America. Overlaid on the globe is a clock face with a white dial and black hands. The clock hands are positioned as if they are moving quickly, suggesting speed and time. The overall composition is circular, with the globe and clock face filling most of the frame. The text is overlaid on a light blue rectangular background in the center of the image.

Без ног и крыльев оно,  
Быстро летит, не догонишь его.



*Дети сами определяют время по картинкам!*

# И УЧИТЬСЯ ИГРАЯ



*Ура  
гусь гомель*



Секунда

Минута


Час

Сутки

Неделя

Месяц

Год



Время

© ElenArt / Фотобанк Лори



lori.ru/2566




1  
2  
5  
30

Время

© ElenArt / Фотобанк Лори

ФОТОБАНК ЛОРИ

lori.ru/256666



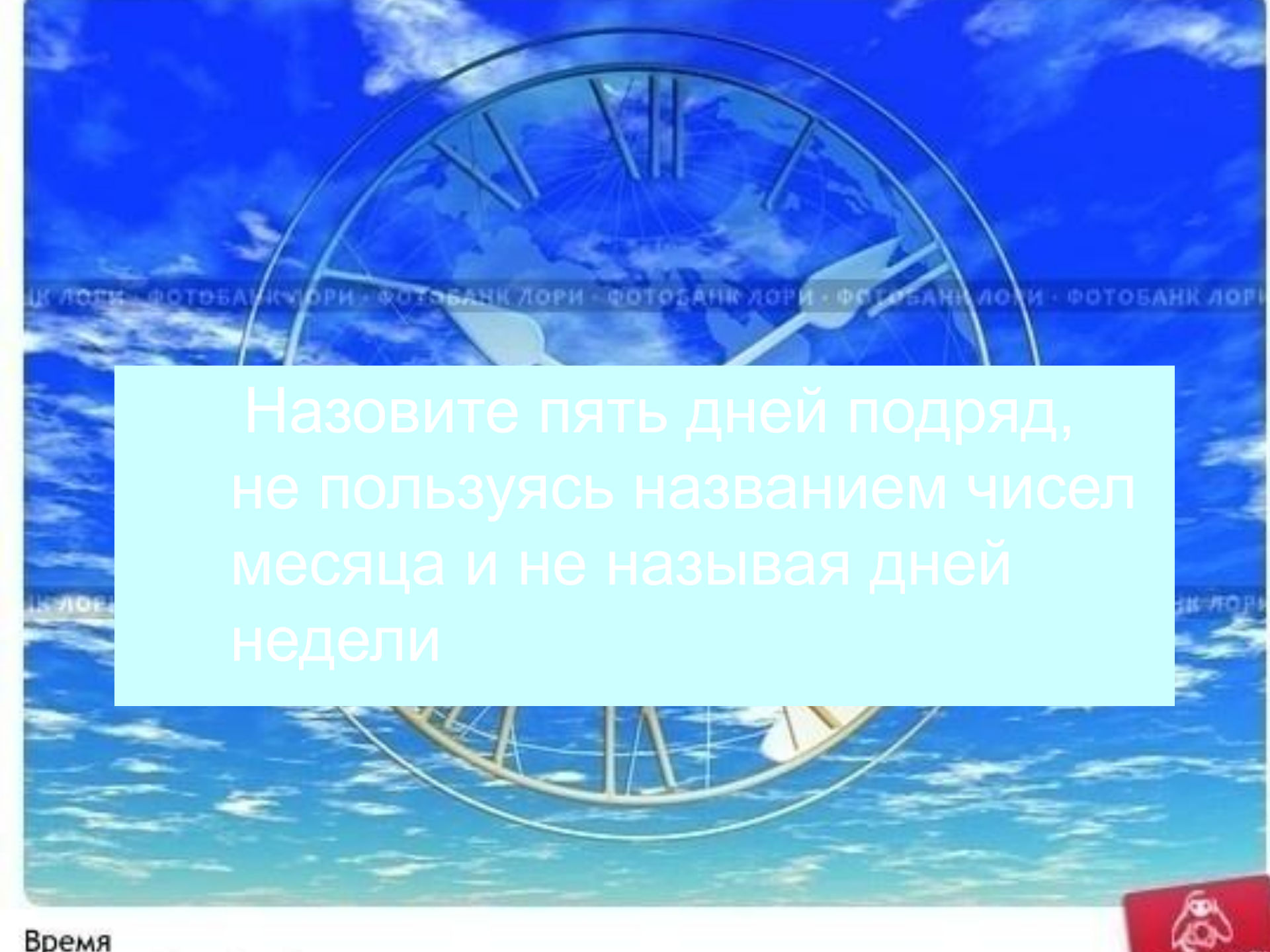
Одни сутки  
Двое суток  
Пять суток  
Тридцать суток



$5 * 5$	$5 * 1$
$8 * 7$	$3 * 9$
$7 * 9$	$2 * 7$
$5 * 3$	$3 * 5$
$7 * 1$	$2 * 5$
$5 * 9$	$5 * 4$
$3 * 1$	$9 * 5$
$2 * 3$	$1 * 5$
$4 * 5$	$8 * 3$

1	2	3	4	5	6	7	8	9
2								
3								
4								
5								
6								
7								
8								
9								

1	2	3	4	■	6	7	8	9
2		■				■		
■								■
4								
■								■
6								
■								■
8		■				■		
9				■				



Назовите пять дней подряд,  
не пользуясь названием чисел  
месяца и не называя дней  
недели





Позавчера

Вчера

Сегодня

Завтра

Послезавтра



# Физкультминутка

Тик – так! Тик – так!

Ходят часики вот так!

Влево – шаг! Вправо – шаг!

Тик - так! Тик – так!



Поставь вместо звёздочек знаки сравнения так, чтобы получились верные равенства.

3 недели \* 1 месяц

2 месяца \* 10 недель

4 недели \* 1 месяц

30 дней \* 4 недели

9 недель \* 64 дня

8 недель \* 2 месяца

# Задача.

Ежедневно второклассник читал 8 страниц. Сколько страниц он прочитал за 5 дней?

# Задача.

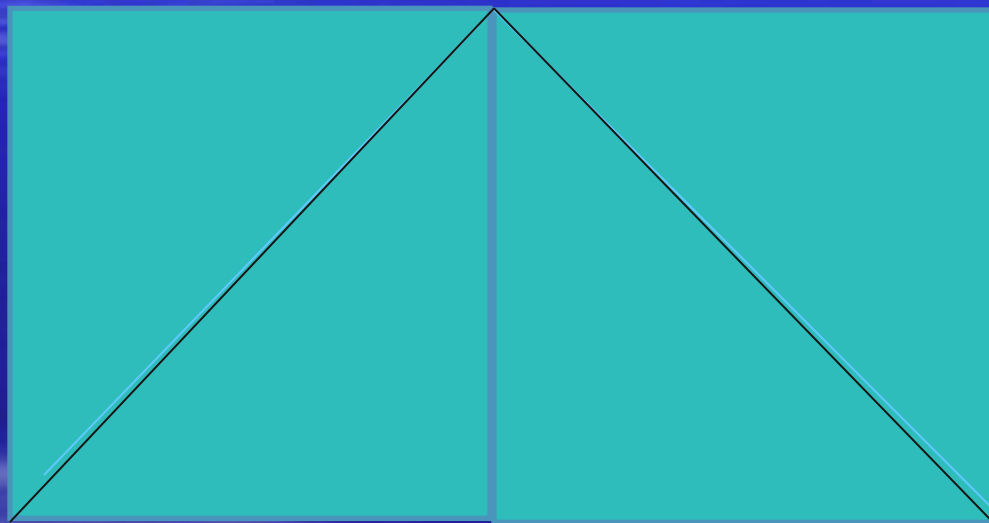
Ваня проснулся, когда часы показывали **7 часов 10 минут** утра. Ему понадобилось: **12 минут**, чтобы умыться, **9 минут**, чтобы съесть завтрак, **6 минут** на уборку комнаты, **25 минут** на упражнения на фортепьяно, **20 минут** на дорогу в школу.

Сколько свободного времени осталось у Вани

перед уроком, если уроки начинаются


в **8 часов 30 минут** утра?

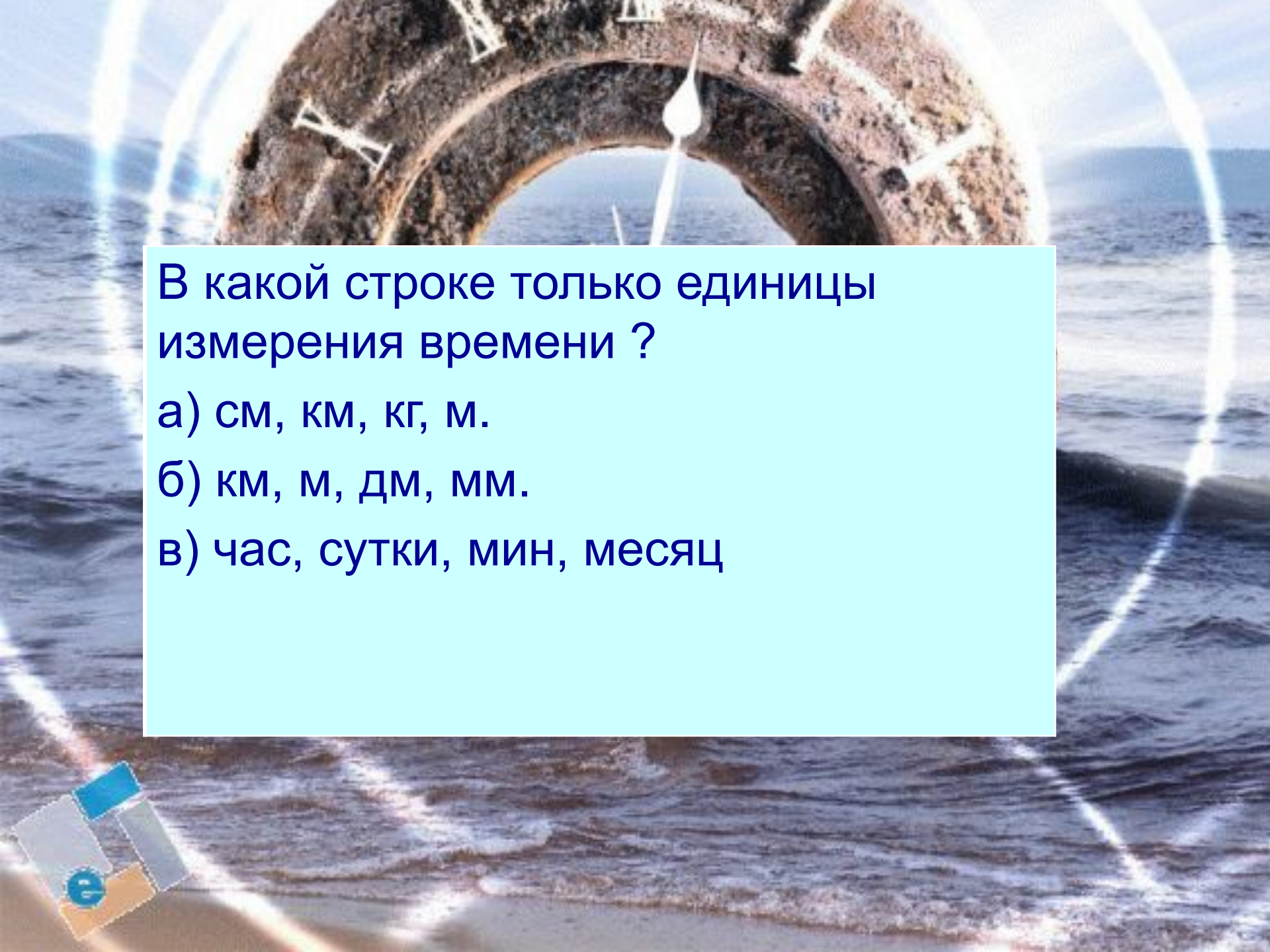
Какие фигуры вы видите на этом рисунке?  
Сколько их?



Начертите квадрат со стороной 4 см. Проведите линию так, чтобы получились четырёхугольник и треугольник.







В какой строке только единицы измерения времени ?

а) см, км, кг, м.

б) км, м, дм, мм.

в) час, сутки, мин, месяц





Закончите фразы:

В году ... месяцев.

В году ... дней.

В году ... зимних месяца: ..., ..., ... .

В году ... весенних месяца: ..., ..., ... .

В году ... летних месяца: ..., ..., ... .

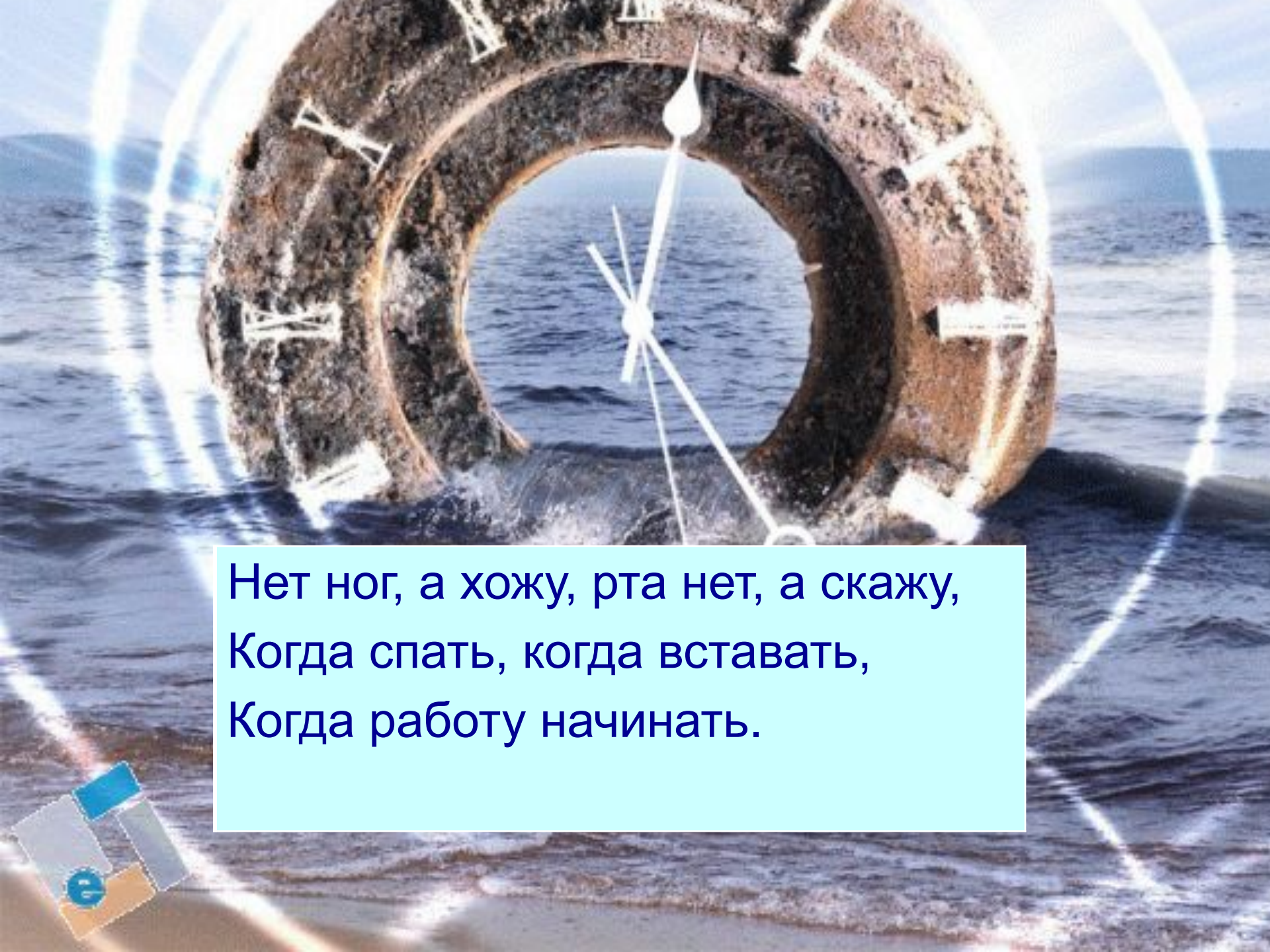
В году ... осенних месяца: ..., ..., ... .

... год кончает, а ... начинается.

В месяце ... недель.

В неделе ... дней.

Самый короткий месяц в году - ... .

A large, weathered, dark brown lifebuoy floats in the ocean. A white clock face is superimposed over the center of the lifebuoy. The clock has white hands and Roman numerals. The background shows the blue sea and a distant horizon under a clear sky. A bright, glowing circular light effect surrounds the lifebuoy.

Нет ног, а хожу, рта нет, а скажу,  
Когда спать, когда вставать,  
Когда работу начинать.






# Первые часы



■ Песочные часы



Водяные часы



Солнечные часы










 **NICESOFT.RU**  
прекрасный софт



Оцените изящество чудной задачи –  
сколько времени на этих часах?





## Отгадай загадки:

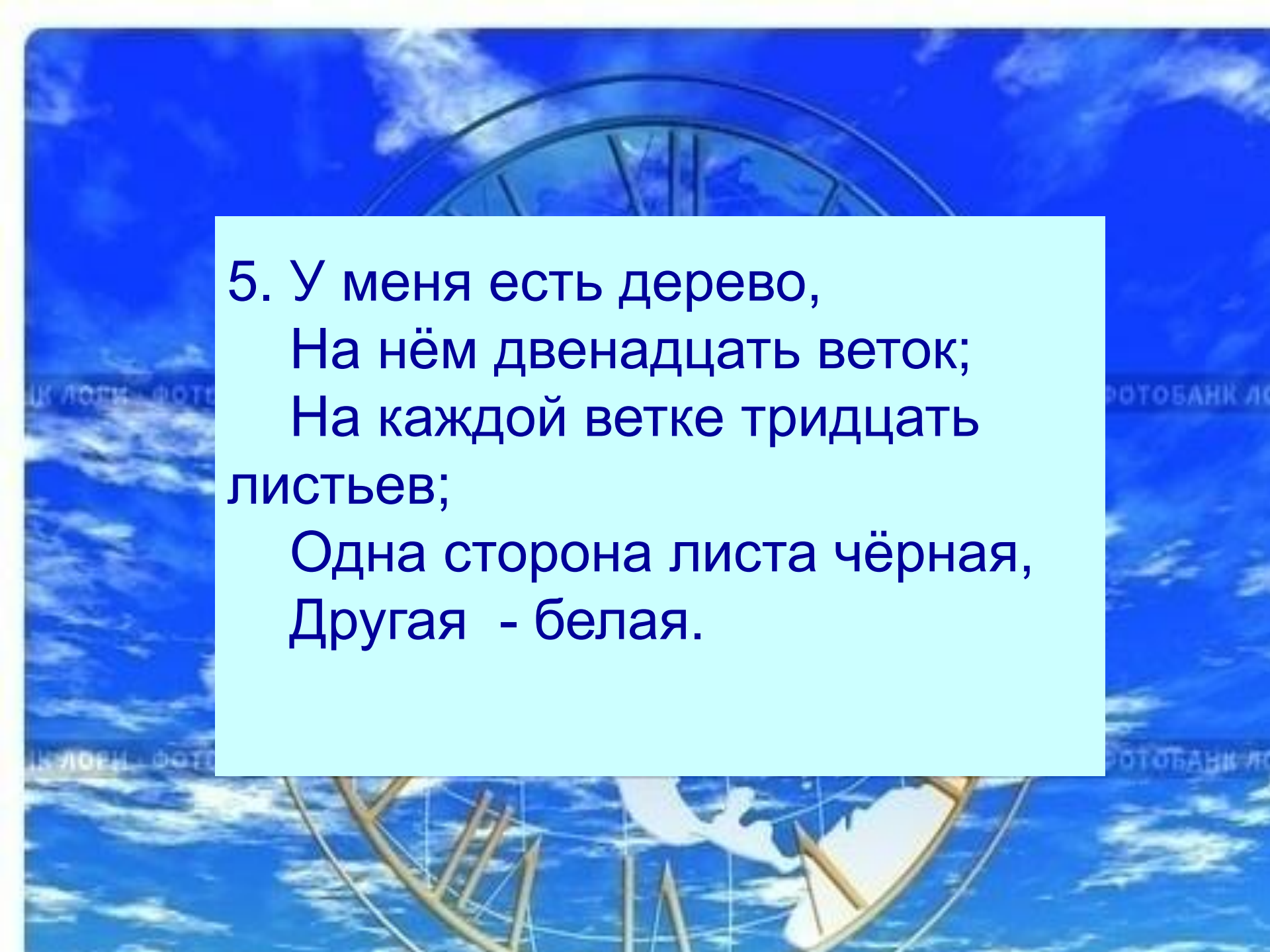
1. Что возвратить нельзя?

2. Что может в одно и то же время: стоять и ходить; висеть и стоять, ходить и лежать?

3. Две сестрицы друг за другом  
Пробегают круг за кругом:  
Коротышка – только раз,  
Та, что выше – каждый час.



4. Выходили двенадцать молодцев,  
Выносили пятьдесят два сокола,  
Выпускали 365 лебедей.



5. У меня есть дерево,  
На нём двенадцать веток;  
На каждой ветке тридцать  
листьев;  
Одна сторона листа чёрная,  
Другая - белая.

A circular wooden clock face with numbers 1 through 12. The numbers are in various colors: 1 (blue), 2 (orange), 3 (red), 4 (blue), 5 (red), 6 (red), 7 (orange), 8 (blue), 9 (red), 10 (blue), 11 (green), and 12 (red). In the center is a colorful clown with a yellow face, red nose, and a blue hat with a red bow. The clown is holding a red and white polka-dot balloon. There are also two blue elephants, one on the left and one on the right, and several yellow and red stars scattered around the clown. The text "BETTER CLOWN" is written in a semi-circle on the left, and "EDUAR" is written on the right. A light blue rectangular box is overlaid on the bottom right of the clock face.

Спасибо всем!

