


Единицы времени

Век



Расположите единицы измерения
Найдите лишнюю единицу измерения
по возрастанию



миллиметр

дециметр

километр

квадратный метр

км

метр


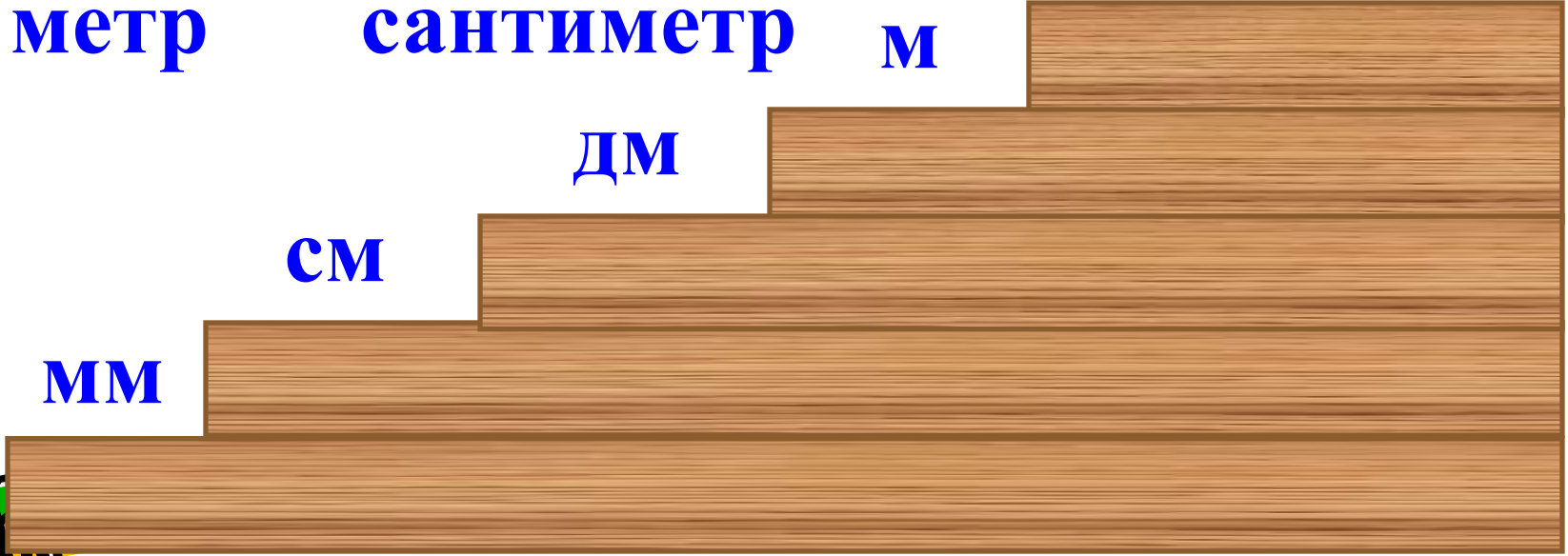
сантиметр

м

дм

см

мм



Расположите единицы измерения
Найдите лишнюю единицу измерения
по убыванию

грамм

килограмм

километр

центнер

Т Тонна

Ц

КГ

Г



Расположите единицы измерения по возрастанию Найдите лишнюю единицу измерения



секунда

час

год

литр

г

месяц


минута

мес

ч

мин

сек



Единицы времени

- 1 год = 365 дней (366 дней)
- 1 месяц = 30 дней или 31 день
(в феврале 28 или 29 дней)
- 1 неделя = 7 суток
- 1 сутки = 24 часа
- 1 час = 60 минут
- 1 минута = 60 секунд



Единицы времени

- Секунда
- Минута
- Час
- Сутки
- Неделя
- Месяц
- Год
- Век



16 ноября


2017 ГОД

21 ВЕК


21 век = **2100** лет



Для чего нужны единицы времени.



умываетесь










завтракаете



работаете на уроке





Задание 1

Незнайка сочинял стихи о своих друзьях **5 минут и 17 секунд**. Сколько секунд он занимался этой трудной работой?

317 секунд



Задание 2



Винни–Пух был приглашён в гости к ослику к 4 часам дня. Он вышел из дома в 3 часа , прихватив с собой горшочек мёда. До домика Пятачка он добирался 15 минут, $\frac{1}{6}$ часа уплетал вкуснейший обед, 10 минут рассматривал пустой горшочек, ещё 12 минут советовался с мудрой Совой и 10 минут брёл с друзьями к жилищу Ослика.

Не опоздали ли герои на праздничный обед?



Не опоздали ли герои на праздничный обед?



15 мин.



$1/6$ часа




10 мин.




12 мин.

10 мин..



$1/6$ часа = 10 минут

$$15 + 10 + 10 + 12 + 10 = 57 \text{ (минут)}$$



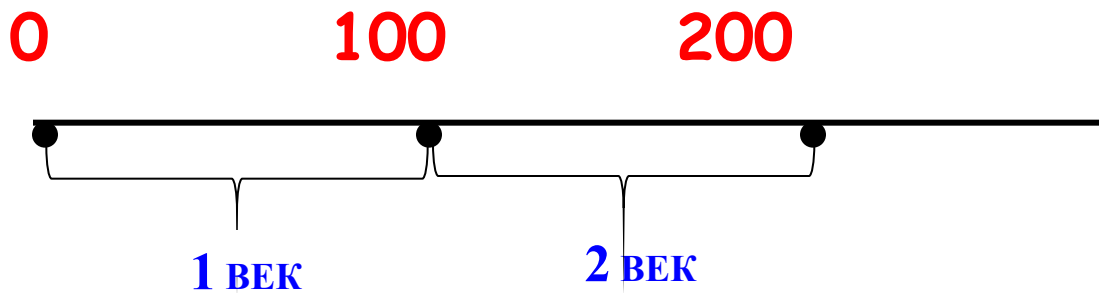
ЕДИНИЦЫ ВРЕМЕНИ



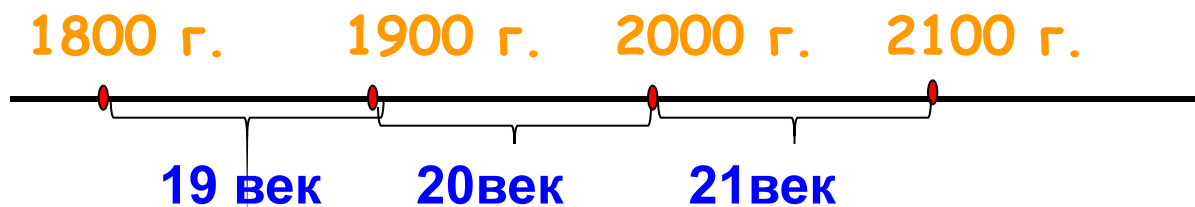
1 век = 100 лет



ЗАДАНИЕ 1



ЗАДАНИЕ 2

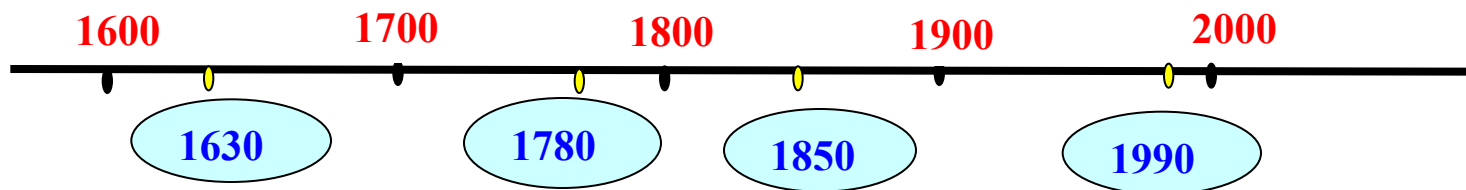


- Какой век закончится 31 декабря 1900 года?
- Какой век закончится 31 декабря 2000 года?
- Какой век начался 1 января 2001 года?



ЗАДАНИЕ 3

Назовите век для каждого
выделенного года.




Расшифруйте пословицы и поговорки



- 100 лет живи, 100 лет учись
- Век живи, век учись.
- Делу время, а потехе 60 минут.
- Делу время, а потехе час.



Из «Книги рекордов Гиннесса»



7 180 кг 3 г яблок было собрано одним человеком за **480 мин**
или ... **8 ч**

Рекорд по наклеиванию почтовых марок: 450 почтовых марок
за **1/15 ч** или ... **4 мин**

Самый быстрый иллюзионист сумел показать 225 различных
фокусов за **120 с** или ... **2 мин**



ВЕК

1 век = 100 лет



МОЛОДЦЫ !



Спасибо

за урок !

