



Урок математики во 2 «Г» классе



Учитель: Данилова И.И.



Математику, друзья,
Не любить никак нельзя.
Очень строгая наука,
Очень точная наука,
Интересная наука -
Это математика!



Минутка час бережёт.

Делу время – потехе час.


Век живи – век учись.

Два часа просыпался,

Два часа умывался,

Один час утирался,

Сутки одевался.

A blue-toned image featuring a globe with a clock face overlay. The clock hands are positioned at approximately 10:10. The globe shows the continents of North and South America. The background is a bright blue sky with white clouds. A semi-transparent blue banner is overlaid across the center of the image, containing white text.

Без ног и крыльев оно,
Быстро летит, не догонишь его.

Цель урока:

Закрепить ранее изученный материал по математике, расширить знания о времени, воспитать бережное отношение ко времени



14 мая.

Классная работа.



Напишите число, которое
находится между числами 879
и 881.



К 8 сотням прибавьте 4
единицы.



**НАПИШИТЕ ЧИСЛО, В
КОТОРОМ 6 ДЕСЯТКОВ И
3 ЕДИНИЦЫ.**



Число 140 увеличьте на 7.



Первое слагаемое 780, второе
слагаемое 2. Чему равна
сумма этих чисел?



Чему равно произведение, если первый множитель равен 7, а второй множитель - 8.

Проверяем:

880, 804, 63, 147, 782, 56

Проверяем:

56, 63, 147, 782, 804, 880.

Расположите единицы измерения по возрастанию:

метр

дециметр

километр

миллиметр

сантиметр


км

мм

см

дм


м



Длина

Детишки преодолевают время по часам!

И УЧИТЬСЯ И ГРАЯ



*Ура
гаш гомбс*



Секунда(с)

Минута(мин)

Час(ч)

Сутки(с)

Неделя(н)

Месяц(мес.)

Год(г)



Время

© ElenArt / Фотобанк Лори



lori.ru/2566

Расположите единицы измерения по возрастанию:

месяц

неделя

год

день

век

век

год

месяц

неделя

день





Физкультминутка

Тик – так! Тик – так!

Ходят часики вот так!

Влево – шаг! Вправо – шаг!

Тик - так! Тик – так!



Поставь вместо звёздочек числа,
чтобы получились верные равенства.

$$3 \text{ нед.} = * \text{ Д}$$

$$2 \text{ мин} = * \text{ С}$$

$$2 \text{ ч} = * \text{ МИН}$$

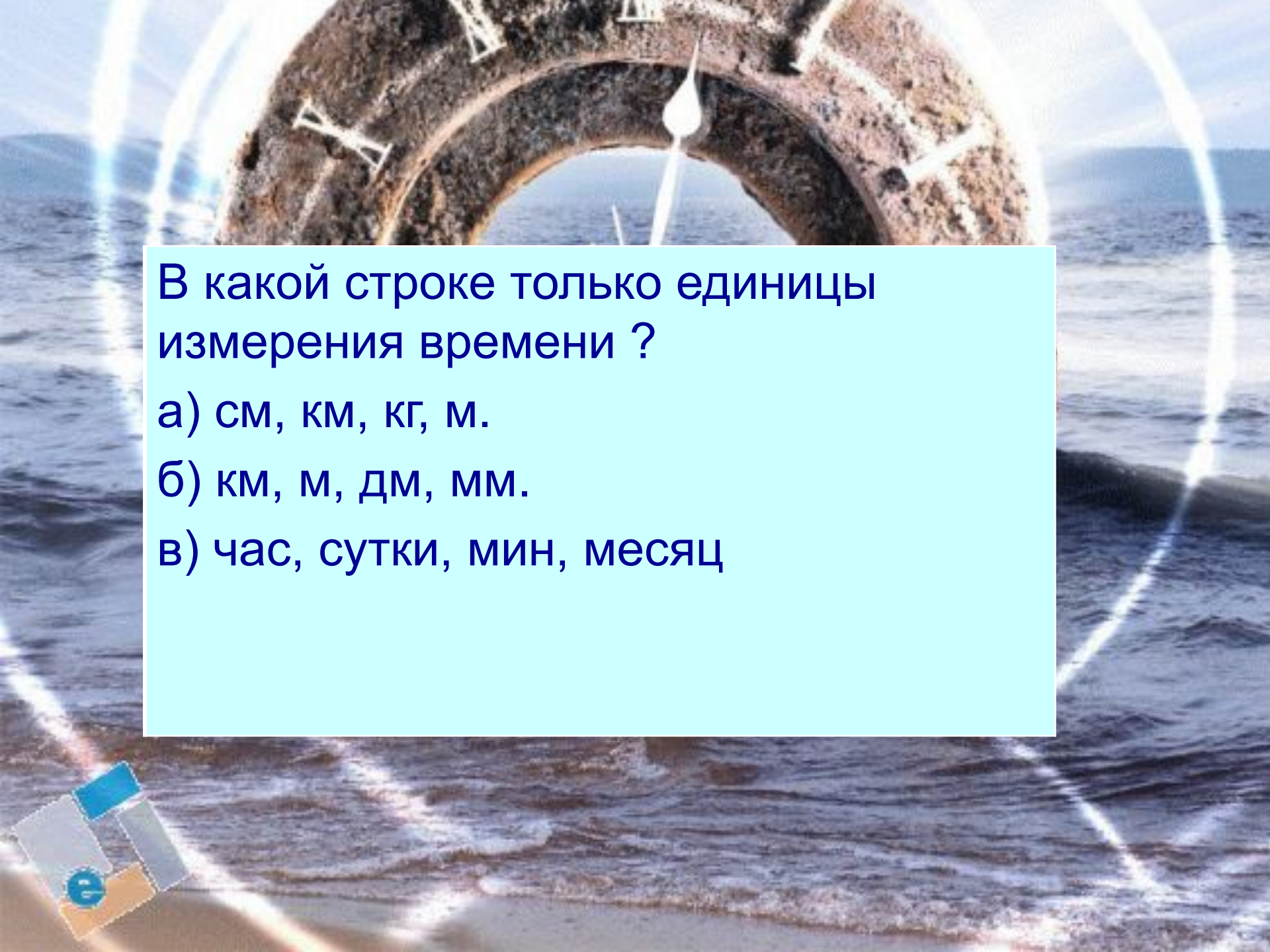
$$3 \text{ мин} = * \text{ С}$$

$$2 \text{ сут.} = * \text{ Ч}$$

$$3 \text{ ч} = * \text{ МИН}$$

Задача.

Ежедневно второклассник читал 8 страниц. Сколько страниц он прочитал за 7 дней?



В какой строке только единицы измерения времени ?

а) см, км, кг, м.

б) км, м, дм, мм.

в) час, сутки, мин, месяц



Закончите фразы:

В году ... месяцев.

В году ... дней.

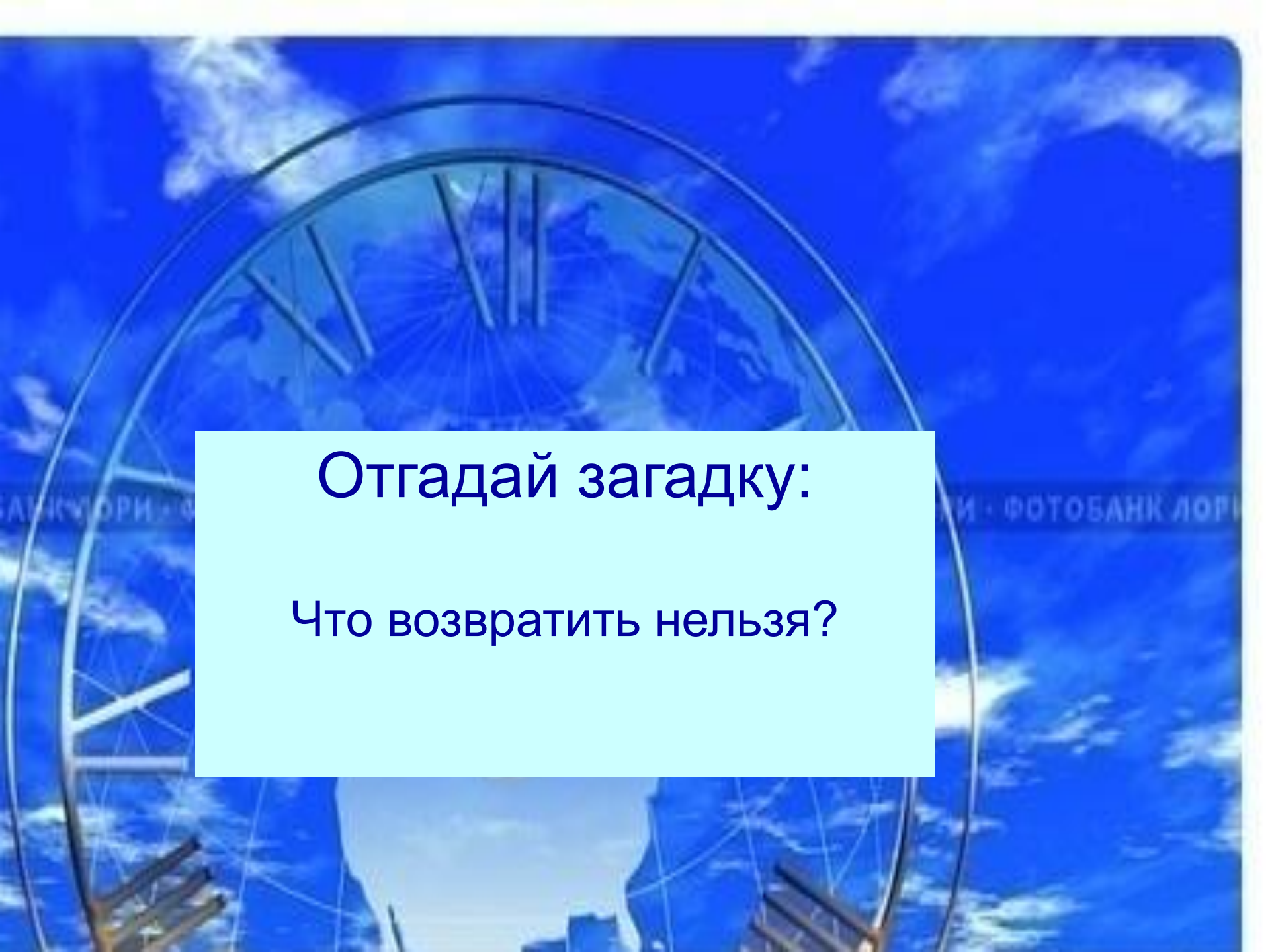
В году ... зимних месяца: ..., ...,

В году ... весенних месяца: ..., ...,

В году ... летних месяца: ..., ...,

В году ... осенних месяца: ..., ...,

В неделе ... дней.



Отгадай загадку:

Что возвратить нельзя?

Домашнее задание

C.159, N 488

A circular wooden clock face with numbers 1 through 12. The numbers are in various colors: 1 (blue), 2 (orange), 3 (red), 4 (blue), 5 (red), 6 (red), 7 (orange), 8 (blue), 9 (red), 10 (blue), 11 (green), and 12 (red). In the center is a colorful clown with a yellow face, red nose, and a blue hat with a red bow. The clown is holding a red and white polka-dot balloon. There are also two blue elephants, one on the left and one on the right, and several yellow and red stars scattered around the clown. The text "BETTER CLOWN" is written in a semi-circle on the left, and "EDUAR" is written on the right. A light blue rectangular box is overlaid on the bottom right of the clock face.

Спасибо всем!

