

Математическая игра
в старшей группе

«Как подружилась кошечка с мышатами»

Формирование элементарных математических
представлений

Образование числа «8»

Воспитатель
Меладзе О.В.
МБДОУ детский сад №131
г.о. Самара

Жили – были в маленьком домишке мышата – шалунишки.

Сколько их было? Мы не знаем.


Но всех их сейчас сосчитаем!

Хлопни в ладоши столько раз, сколько написано на квадрате.





Постучи в окошко и сосчитай мышат






7

+

=

8



3

2



1



**А неподалёку в деревне жила кошка.
Подкралась она к нашим мышатам, но
они её заметили и спрятались**



Где спрятались мышата от кошки?



Сколько мышат спрятались за деревьями?
А сколько за домиком?



3

6



1

2

4



А кошечка была очень добрая и позвала
играть мышат




Помоги кошечке сосчитать мышат

6

+

2

=




8



7



6



Помоги кошечке определить, на каком по счёту месте находится фигура?

3

1

4

7

5

8

6

2



Ты подружил мышат и кошку,
Ты, конечно,



мо-ло-дец!

