

МАТЕМАТИ



2

класс

Следующая
я страница

Аннотац

Учебник «Математика. **4** класс» (в двух частях) разработан в соответствии с ФГОС НОО и является основной частью завершённой предметной линии учебников «Математика».

Материал учебника способствует формированию у учащихся системы начальных математических знаний и умений их применять для решения учебно-познавательных и практических задач. Содержание и структура учебника направлены на достижения учащимися личностями, метапредметных и предметных результатов отраженных в ФГОС НОО.

Следующая
я страница

Содержан

ио

Миллиметр	
<u>Теоретическая часть</u>	4
<u>Практическая часть</u>	5-6
<u>Вопросы для самопроверки</u>	7
<u>Контрольная работа</u>	8-9



Теоретическая

Следующая страница

часть




Узнаем новую единицу длины и продолжим учиться выполнять измерения.

Ты уже знаешь такие единицы измерения длины: дециметр, сантиметр.

Более мелкая единица длины: **миллиметр**.

В одном сантиметре **10 миллиметров**.



содержание

Практическая


Следующая страница

часть

1 Рассмотрите и покажите на линейке 1 дм, 1 см, 1 мм, 5 мм.

В миллиметрах можно

измерить, например, толщину карандаша, книги, стекла и др.



2 С помощью линейки узнай длину каждого отрезка в сантиметрах и миллиметрах.



Вырази их длину в миллиметрах.

3 1 см 9 мм

1 см 8 мм 18 мм

20 мм 2 см

2 см 1 мм 3 см

4 Высота ёлочки весной была 7 дм. Какой стала высота ёлочки к осени, если за лето она выросла на 20 см.



5 8 дес.- 6 дес. 5дм – 20см
8дм - 6 дм 6 см – 40мм

6 13 - 6 + 5 11 - 7 + 9 80 - 20 + 10
12 - 9 + 8 7 + 7 - 8 90 - 30 - 40

? Начерти отрезок длиной 30 мм.

Вопросы для самопроверки

Следующая страница

- 1 Сколько десятков и единиц в числе 28? 46? 99? 80?
- 2 Сколько миллиметров в 2см? в 4см 2мм?
- 3 Сколько сантиметров в 30мм? в 10дм?
- 4 Вырази в миллиметрах: 8см 5мм, 3см 2мм, 1 дм.

содержание

Контрольная работа

Следующая
страница

1 Расставь знаки: $>$; $<$; $=$


9 мм 1 см

1 дм 10 см

1 см 10 мм

1 дм 10 мм

2 Измерь длины отрезков и запиши их в мм



- 3 Первый электрик отрезал 30 см провода, а второй на 15 см больше. Сколько всего см отрезали электрики?



- 4 Начерти отрезки длиной: 40 мм; 2 см 5 мм; 35 мм; 4 см 20 мм.

- 5 Ломаная состоит из двух звеньев. Длина первого звена 1 дм, длин второго – на 3 см меньше. Начерти эту ломаную. Узнай её длину.