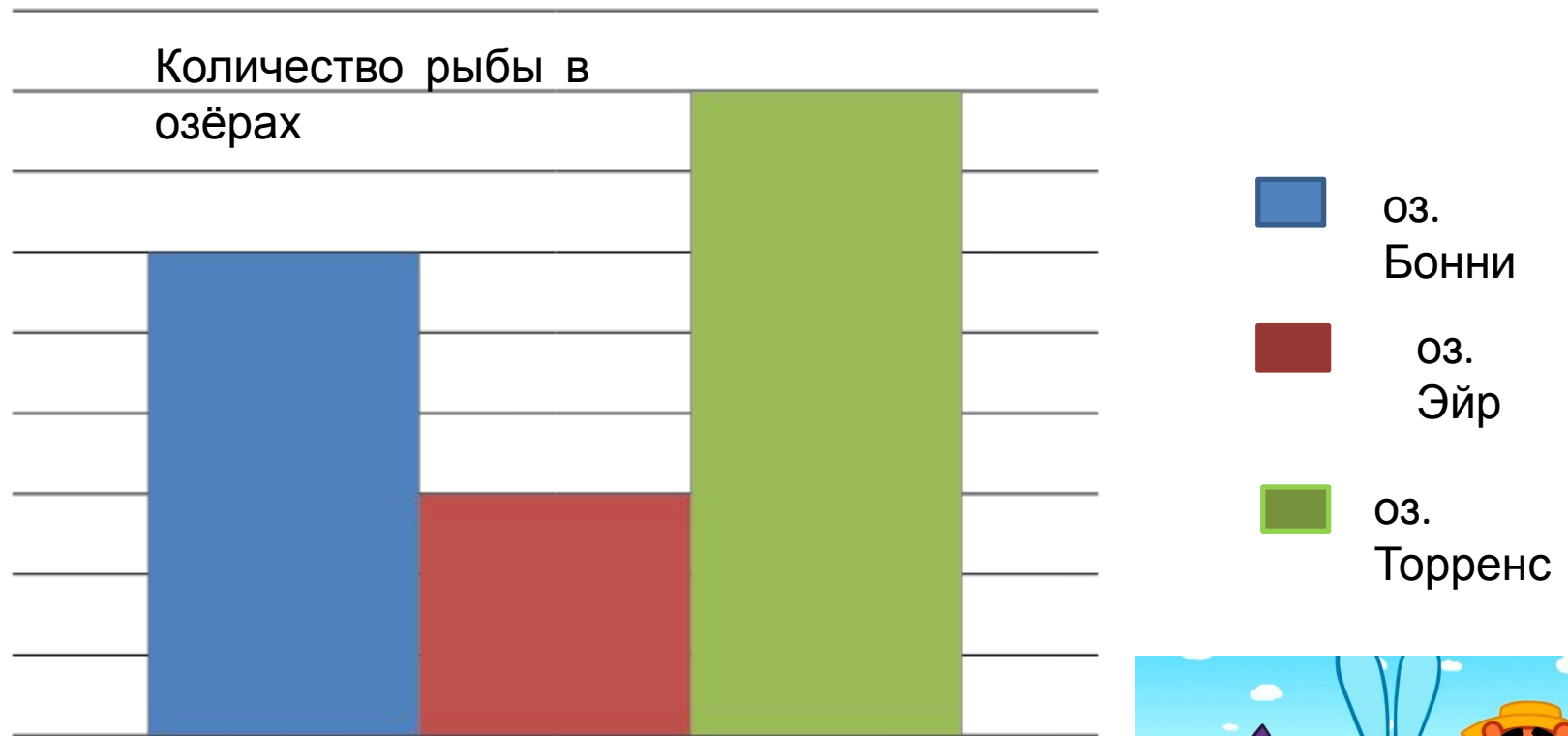



Триз (эму)




На какое озеро пойти друзьям, чтобы наловить побольше рыбы ?





Расстояние от моего дома до
дома
Кроша - 3 км. Расстояние от дома
Кроша до леса в два раза
больше.
Расстояния от леса до озера и
от
дома Кроша до леса одинаковы.
Сколько же я км прошагала от
своего дома до озера?





Сопоставьте-ка величины и единицы их измерения.

1)длина

2)время

3)масса

4)

температура

А)

минута

Б)градус

В)метр

Г)грамм

Помогите мне понять диаграмму!
Какие из высказываний правильные?



Предметы первой необходимости

А) Продукты питания и предметы первой необходимости должны вместе занимать половину рюкзака, а остальное место – для смен-


Б) Сменная одежда должна занимать половину рюкзака, а остальное

место – для продуктов питания и предметов первой

н В) Сменная одежда и продукты питания должны занимать

одинаковое место.

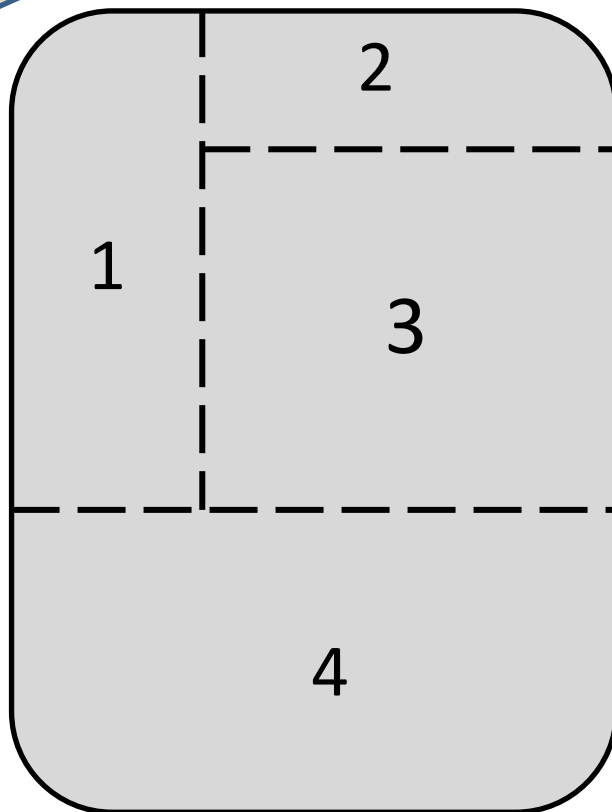
Помогите мне
разместить
вещи в рюкзаке!



А)
)



Контейнер для
еды



Б)



Аптечка

В)



Термос

Г)
)



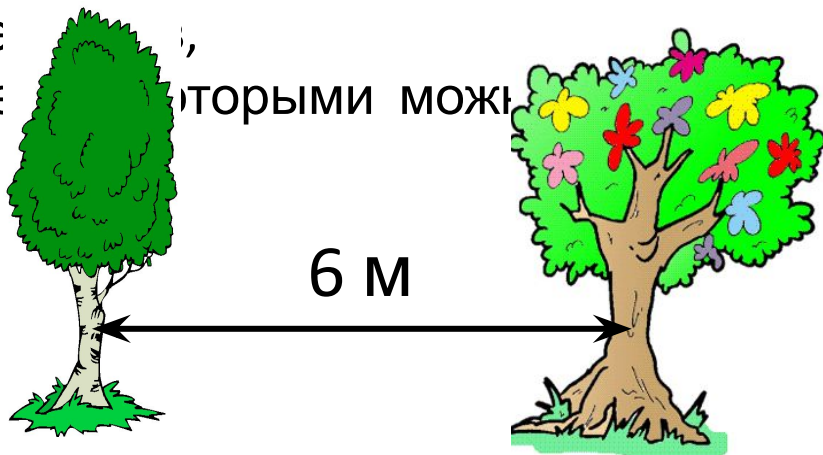
Сменная
одежда

Длина самого гамака – 2 метра.
С обеих сторон гамака есть по верёвке.
С помощью этих верёвок он
привязывается
к деревьям. Длина каждой верёвки – ещё
2 метра. Помогите Ёжику найти пару

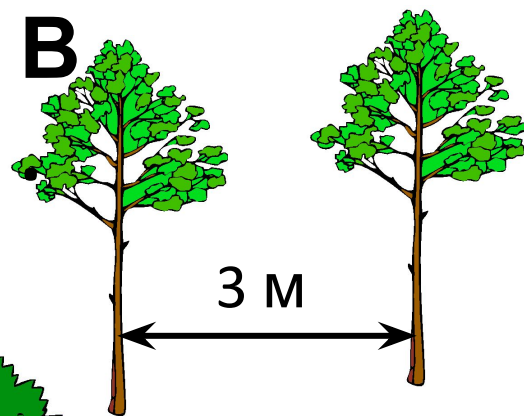


де
ме
торыми мож
гамак!

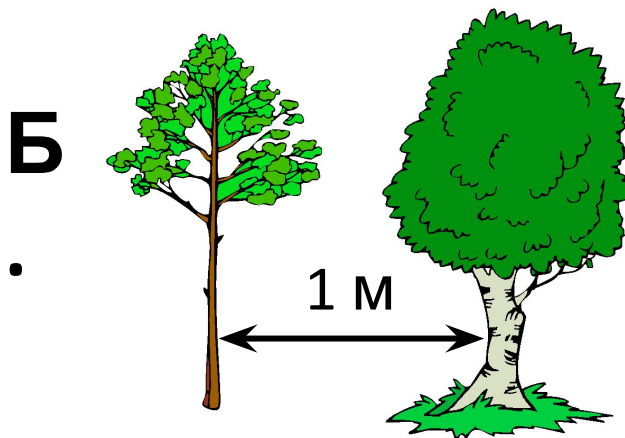
А



В



Б



Смешарики разбили на берегу озера лагерь. План лагеря на рисунке.

Копатыч сказал : « Обеденная зона получилась слишком большой!

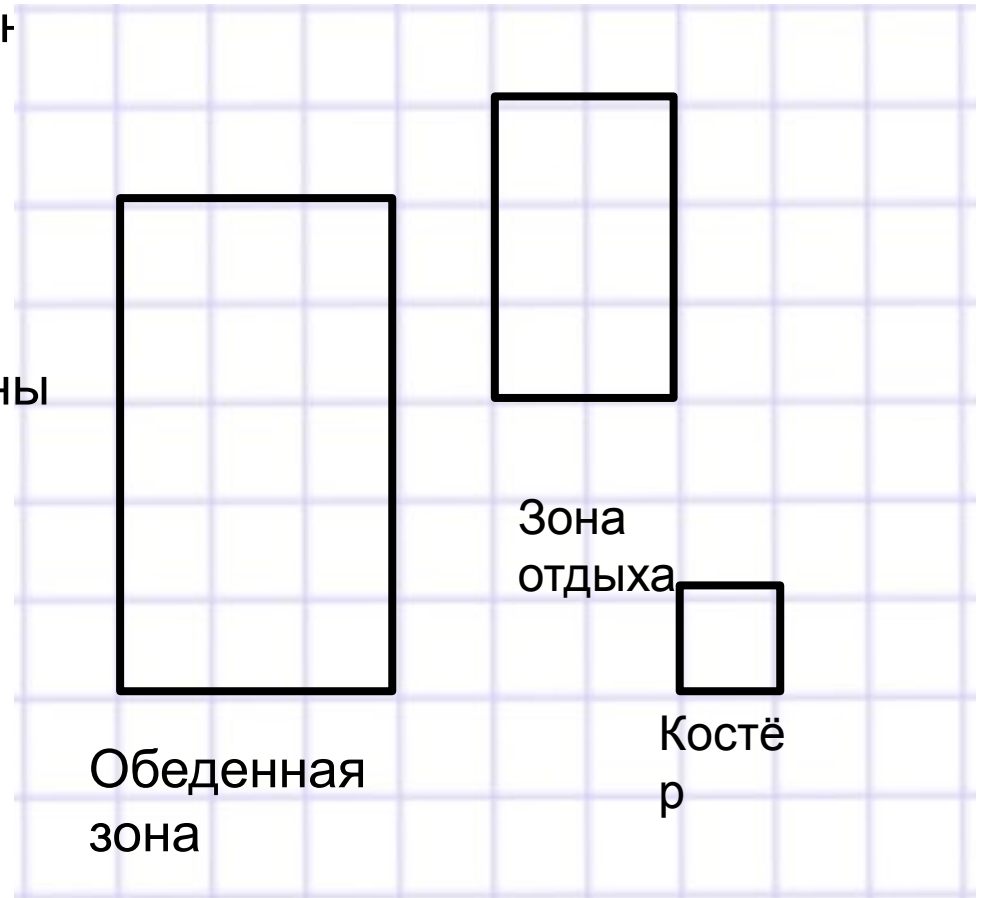
В ней поместятся две зоны

А. ДА, более того – в обеденной зоне поместятся даже три зоны

отдыха.

Б. НЕТ; обеденная зона не такая большая, чтобы вместить две зоны отдыха.

В. ДА, более того – в обеденной зоне поместятся две с половиной зоны отдыха.



Совунья велела вернуться домой к ужину.
Ужин начинается в 20.00. Дорога до дома
Совуны
займёт 3 часа 30 минут. Когда нужно выйти в
обрат

