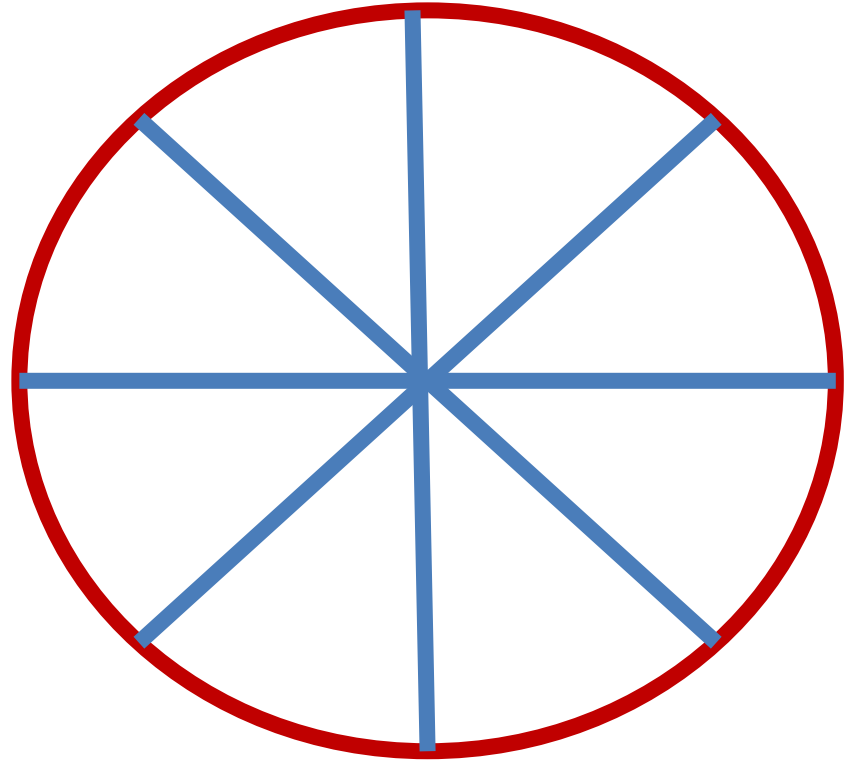

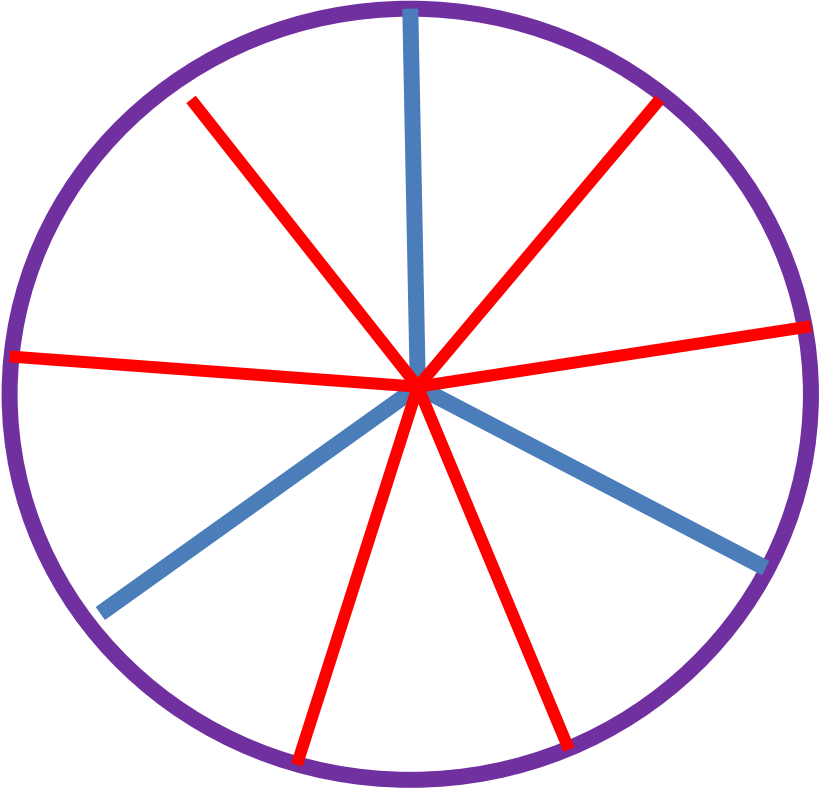



Сравним

$1/2$ и $4/8$ $2/3$ и $2/9$

$1/7$ и $1/9$ 1 и $10/10$





Геометрия

Сторона клумбы квадратной формы равна 8 м, $\frac{7}{16}$ всей площади клумбы засажено ромашками, а остальная площадь засажена незабудками. Какая площадь клумбы засажена незабудками?

- **В альбомах было 1800 рисунков. Слава из альбомов подарил $\frac{2}{6}$ части своих рисунков. Сколько рисунков осталось в альбомах?**

УСТНО

$\frac{3}{5}$ метра

? г – $\frac{2}{5}$ кг

$\frac{3}{5}$ от 400

$\frac{7}{8}$ от 3 суток

**На горе катается 72
человека. На лыжах
катается $\frac{5}{6}$ всех людей, а
остальные – на санках.
Сколько людей катается
на лыжах и на санках
отдельно?**

Было - 96 м ткани

Для дет. сада – $\frac{3}{8}$ от

Для яслей – $\frac{5}{12}$ от

Осталось - ? м ткани

