


И.А. Помораева, В.А. Позина стр.85
ФЭМП январь №1
подготовительная группа

**Условие
задачи**



**Вопрос
задачи**


Условие
задачи



Вопрос
задачи ?

Сколько всего
квадратов?

Условие
задачи




Решение
задачи

Вопрос
задачи



Сколько всего
квадратов?

Условие
задачи



Решение
задачи


$$2 + 1 =$$

Вопрос
задачи



Сколько всего
квадратов?

Условие
задачи



Решение
задачи

$$2 + 1 = 3$$


Вопрос
задачи



Сколько всего
квадратов?

Ответ
задачи

Условие
задачи



Решение
задачи

$$2 + 1 = 3$$

Вопрос
задачи



Сколько всего
квадратов?

Ответ
задачи

Всего у Маши и Саши 3
квадрата

