


Тест по математике 2 класс

ТЕМА: «ГЕОМЕТРИЧЕСКИЕ ФИГУРЫ»



Комментарий

СЕГОДНЯ МЫ С ВАМИ ПОВТОРИМ
ГЕОМЕТРИЧЕСКИЕ ФИГУРЫ. И ПРЕЖДЕ
ЧЕМ НАЧАТЬ ТЕСТ Я НАПОМНЮ ВАМ
НЕКОТОРЫЕ МОМЕНТЫ.

1. У КВАДРАТА ВСЕ СТОРОНЫ РАВНЫ
2. У ТРЕУГОЛЬНИКА 3 СТОРОНЫ И 3 УГЛА
3. У МНОГОУГОЛЬНИКА МНОГО СТОРОН
И МНОГО И МНОГО УГЛОВ


ДУМАЮ ОСТАЛЬНОЕ ВЫ ВСПОМНИТЕ
САМИ!!

Удачи ВАМ!!!




Выберите пятиугольник


А.



В.



С.



РОМБ

ПОПРОБУЙ ЕЩЕ
РАЗ□





КРУГ

ПОПРОБУЙ ЕЩЕ РАЗ □






Пятиугольник


МОЛОДЕЦ!!!



СОСТАВЛЕНА ИЗ КРИВЫХ ЛИНИЙ?




В ЭТОЙ ФИГУРЕ ЕСТЬ ОДНА
ПРЯМАЯ ЛИНИЯ



Попробуй еще
раз



В ЭТОЙ ФИГУРЕ НЕТ КРИВЫХ ЛИНИЙ



Попробуй еще
раз



В ДАННОЙ ФИГУРЕ ВСЕ ЛИНИИ
КРИВЫЕ

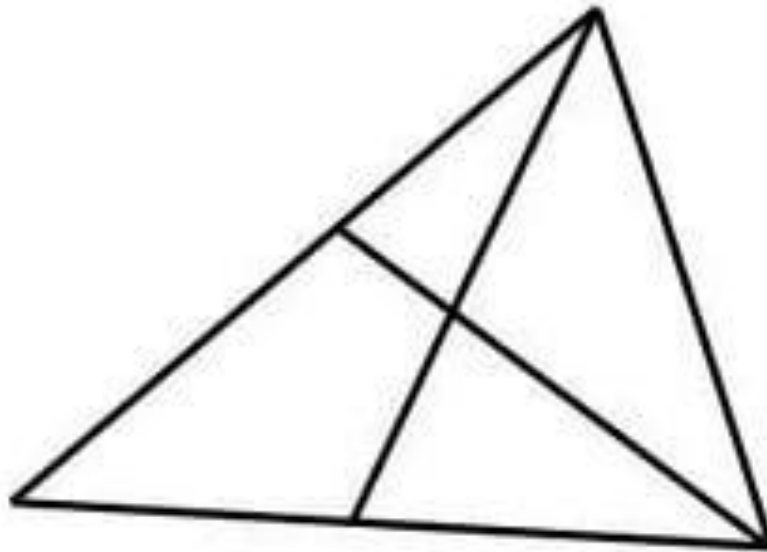


МОЛОДЕЦ!!!




СКОЛЬКО ТРЕУГОЛЬНИКОВ
ИЗОБРАЖЕНО НА РИСУНКЕ?



- 3
- 7
- 5




На рисунке изображено треугольника









З



Попробуй еще
раз






В РИСУНКЕ ИЗОБРАЖЕНО ТРЕУГОЛЬНИКОВ





Попробуй еще
раз


НА РИСУНКЕ ИЗОБРАЖЕНО ТРЕУГОЛЬНИКОВ



5



МОЛОДЕЦ!!!



ЗАКЛЮЧЕНИЕ

Надеюсь вам понравился это тест. И вы все прошли его на отлично, ведь это было легко.

