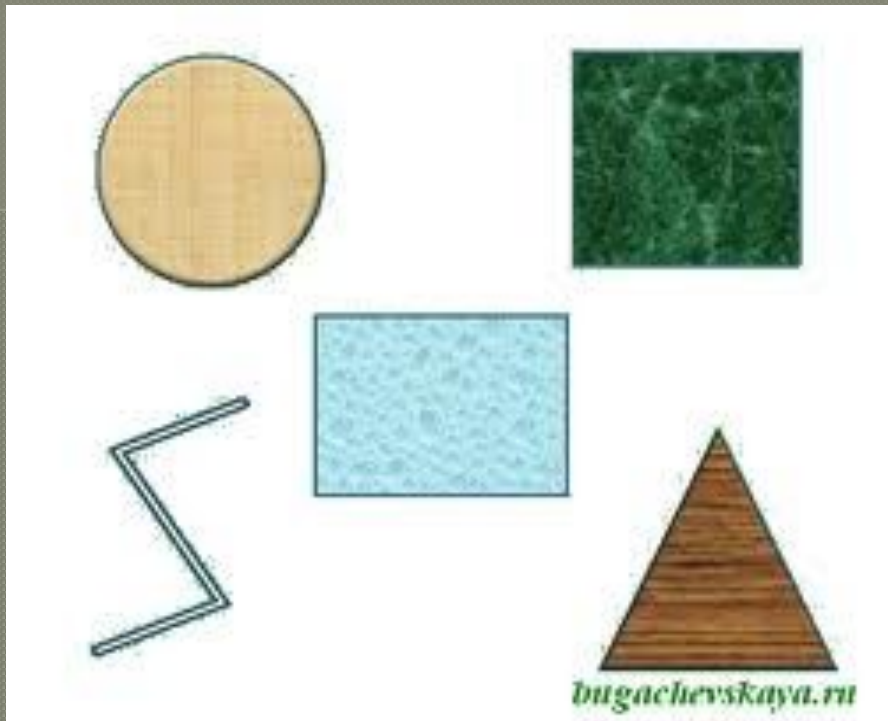


ГЕОМЕТРИЧЕСКИЕ ФИГУРЫ




Составила: Кожевникова О.
С.

Учитель начальных классов.

МАТЕМАТИКА- ВАЖНАЯ НАУКА

- «Чтоб водить корабли,
- Чтобы в небо взлететь,
- Надо многое знать,
- Надо много уметь.
- И при этом, вы заметьте-ка,
- Капитанам помогает
- Ма-те-ма-ти-ка».

ЗАГАДКА:



- У меня три стороны, три угла и три вершины.
Знает каждый школьник, это...
/ Треугольник /


ЗАГАДКА:

- У меня все углы прямые
И всего угла четыре,
Ну а по две стороны
Противоположны и равны.
Этот четырёхугольник, назовём ...
/Прямоугольник/



ЗАГАДКА:

- Он давно знакомый мой.
Каждый угол в нём - прямой.
Все четыре стороны
Одинаковой длины. Вам его
представить ра
А зовут его ...



квадрат

СРАВНИ ФИГУРЫ:


- У каких фигур есть общие свойства?

- */У прямоугольника и квадрата. У них по 4 угла и 4 стороны. Это четырёхугольники./*


- А чем они отличаются?

- */У квадрата все стороны одинаковой длины. А у прямоугольника равны только противоположные стороны./*

Названия геометрических фигур




квадрат




треугольник



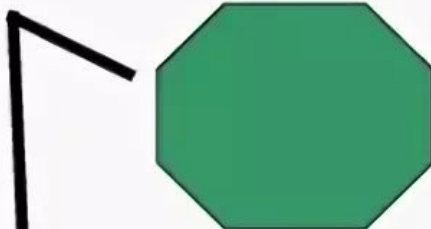
отрезок



четырёхугольник



круг



многоугольник



ломаная

Геометрические фигуры



Точка



Прямая




Отрезок



Луч



Угол



Треугольник



Прямоугольник

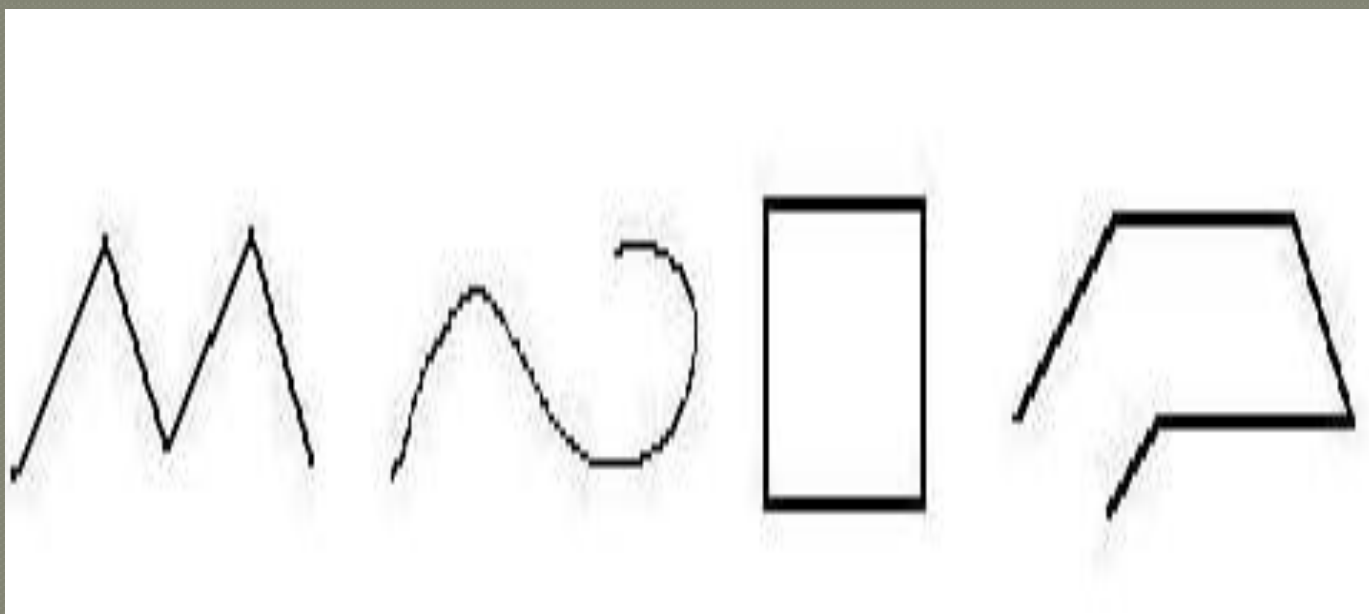


Окружность

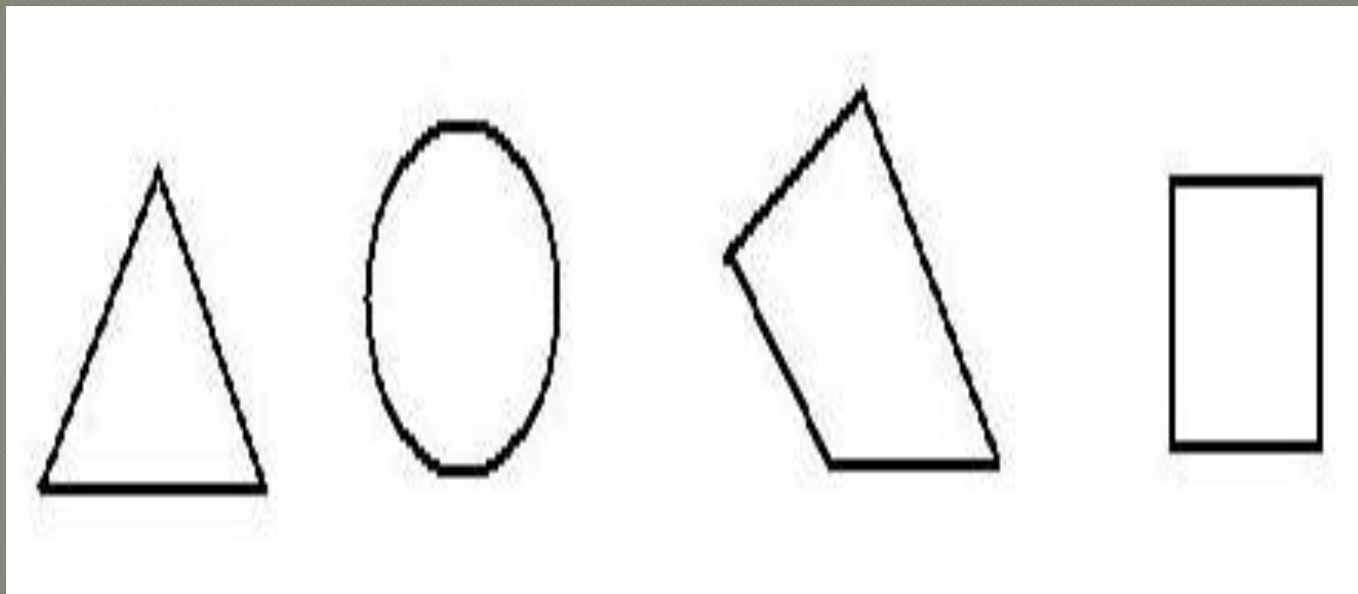


Круг

КАКИЕ ЭТО ЛИНИИ?



КАКАЯ ФИГУРА ЛИШНЯЯ?
ПОЧЕМУ?



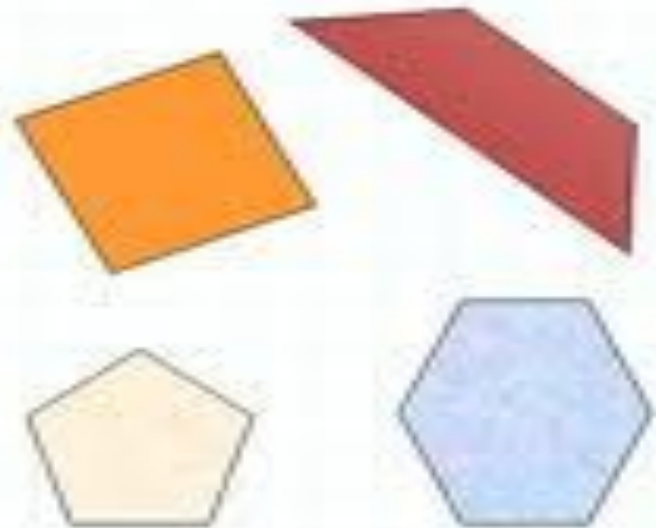
ПОДУМАЙ:

6. Как можно назвать одним словом все фигуры, изображенные на рисунке?

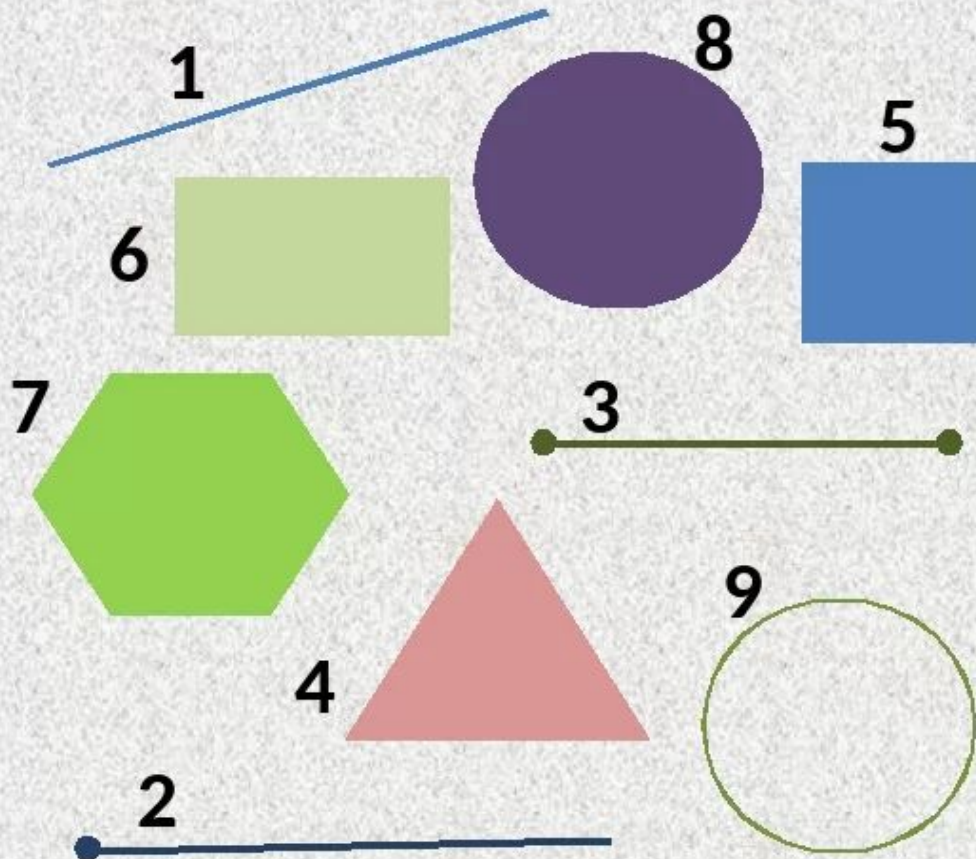
четырехугольники

пятиугольники

многоугольники



Найди соответствие фигуры и её названия:



1. Прямая
2. Луч
3. Отрезок
4. Треугольник
5. Квадрат
6. Прямоугольник
7. Шестиугольник
8. Круг
9. Окружность