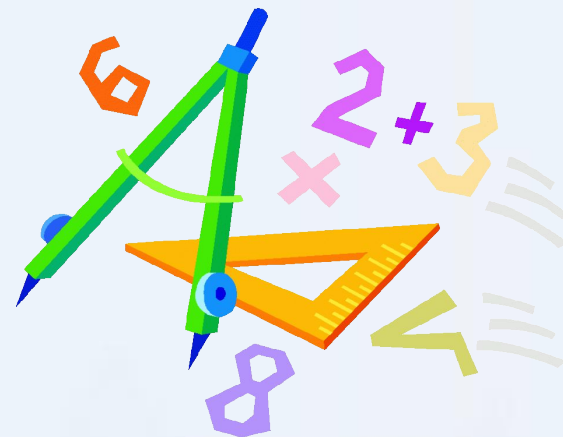




3 класс. УМК Планета знаний

# Геометрические фигуры: треугольник




Учитель: Клавцен О.Б.

Какая фигура  
лишняя?



# Геометрические фигуры: треугольник

- ◆ Почему эту геометрическую фигуру называют треугольником?
- ◆ Какие виды треугольников вам известны?
- ◆ Что вокруг нас может быть треугольным?



Прямоугольный  
треугольник




Остроугольный  
треугольник



Равнобедренный  
треугольник




Тупоугольный  
треугольник




Равносторонний  
треугольник

# Найди


Прямоугольные треугольники




и



г



а

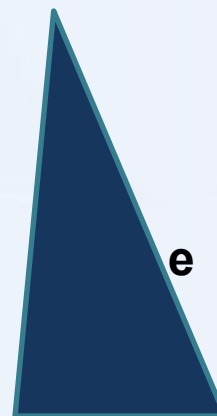


ж

Равнобедренные  
треугольники




б

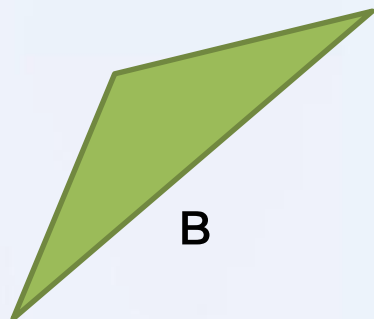


е

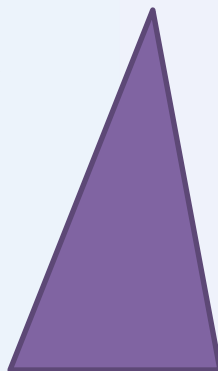
Остроугольные треугольники



д




в



к

Равносторонние  
треугольники



з

Тупоугольные треугольники

Какие треугольники получатся, если соединить отрезки? Начерти треугольники в тетрадь.

