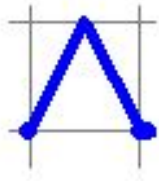


# Графический диктант: Формулы

Математика.

5 класе



Нет



Да


Приготовьтесь!

	1	2	3	4	5	6	



1)


*Площадь прямоугольника  
со сторонами 12 и 8 см  
равна  $40\text{см}^2$ .*





2)

*Периметр квадрата со  
стороной 15 см равен 60 см.*






3)

*Площадь квадрата*


*со стороной 5 см равна  $25 \text{ см}^2$ .*





4)

*Формула периметра прямоугольника :*


$$S = ab?$$




5)

*Пройденный путь вычисляется*

*по формуле:*

$$S = v \cdot t$$




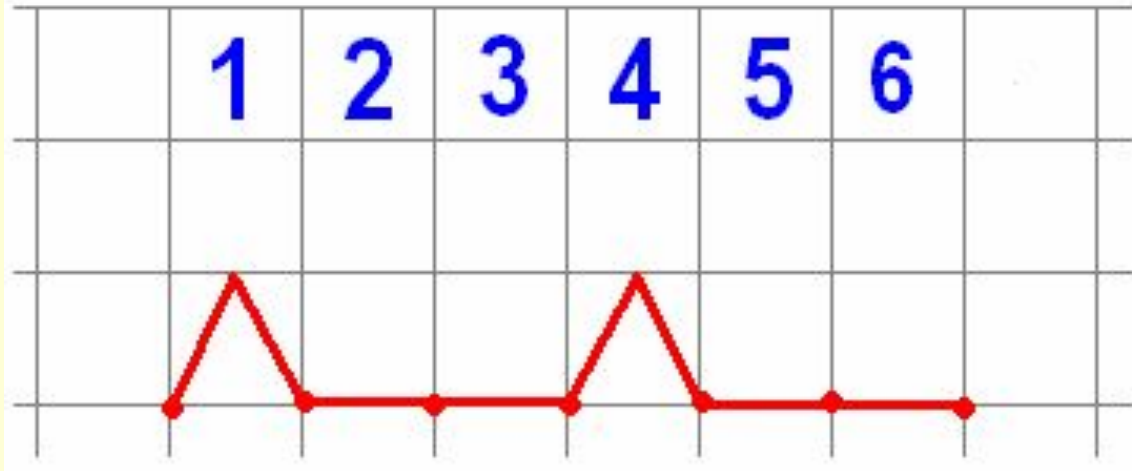
6)

$$5^2 + 10 = 35 \text{ ?}$$





# ОТВЕТЫ



Поставь себе оценку!

6 правильных ответов - «5»;

5 правильных ответов - «4»;

4 правильных ответа - «3».