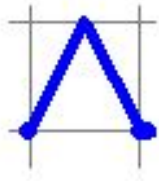


Графический диктант: Формулы

Математика.

5 класс




Нет



Да


Приготовьтесь!

	1	2	3	4	5	6	



1)


*Площадь прямоугольника
со сторонами 12 и 8 см
равна 40см^2 .*





2)

*Периметр квадрата со
стороной 15 см равен 60 см.*






3)

Площадь квадрата


со стороной 5 см равна 25 см^2 .





4)


Формула периметра прямоугольника :

$$S = ab?$$




5)

*Пройденный путь вычисляется
по формуле:*

$$S = v \cdot t$$


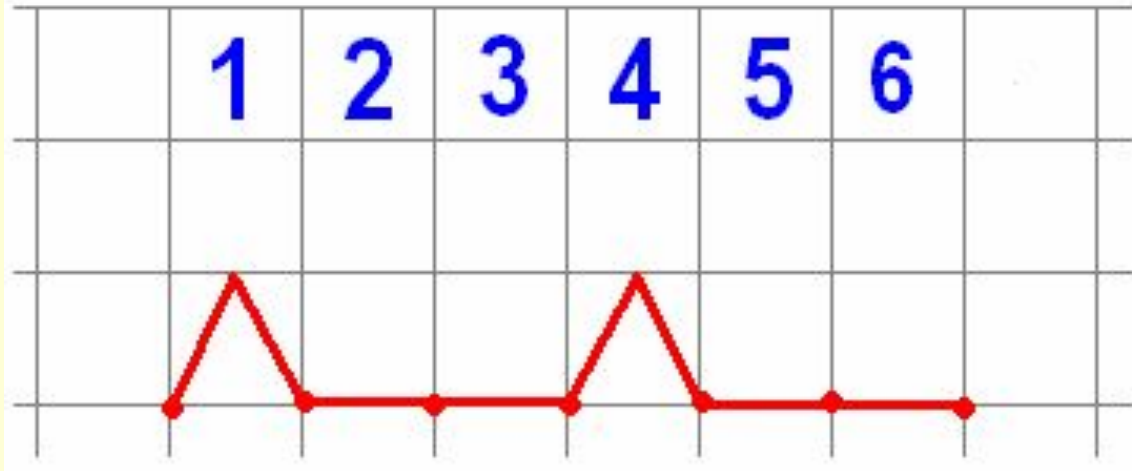


6)

$$5^2 + 10 = 35 \text{ ?}$$



ОТВЕТЫ



Поставь себе оценку!

6 правильных ответов - «5»;

5 правильных ответов - «4»;

4 правильных ответа - «3».