

ИГРА «ЭРУДИТ»





Логические
задачи

100

200

300

400

500

Ребусы

100

200

300

400

500

Продолжи
ряд чисел

100

200

300

400

500

Шутки со
спичками

100

200

300

400

500



Дале
е

Логическая задача

*Два сына, два отца
съели 3 яйца.
По сколько яиц съел
каждый?*



Отве
т

Ответ

Каждый съел по одному яйцу. Всего было 3 человека: дедушка, сын и внук.



Дале
е

Логическая задача

На лужайке сидели 7 воробьёв, к ним прилетели ещё 4. Кот подкрался и схватил одного. Сколько воробьёв осталось на лужайке?



Отве
т

Ответ

*Воробьи испугались
кота и все улетели!*



Дале
е

Логическая задача

В корзине 7 яблок. Как поделить их между семью девочками, чтобы одно яблоко осталось в корзине?



Отве
т

Ответ

*Одной девочке надо
дать яблоко вместе с
корзиной.*



Дале
е

Логическая задача

*Сколько концов у
пяти с половиной
палок?*



Отве
т

Ответ: 12



Дале
е

Логическая задача

*Мальчик написал на листке
число 86 и говорит
товарищу:*

*- Не производя никакой
записи и вычислений
увеличь это число
Как он это сделал?*

86

Отве
т

Ответ


*Перевернул листок и
получилось 98.*



86

Дале
е

Ребус



Число

Дале
е

Ребус

2, 3, 4



9



Линейка

Дале
е

Ребус



Угол

Дале
е

Ребус



Квадрат

Дале
е

Ребус

3, 2, 1



Циркуль



Дале
е

Продолжи ряд чисел

1, 3, 5, 7, 9, 11, 13, 15

Закономерность: нечетные
числа



Дале
е

Продолжи ряд чисел

29,, 25,, 21,, 17,, 13,, 9, 5

Закономерность: каждое
последующее число
меньше предыдущего на 4



Дале
е

Продолжи ряд чисел

.1,,2,4,,7,,11,116,22229,,33746

46

Закономерность: каждое последующее число больше предыдущего на 1, 2, 3, 4 и т.

Д.

Дале
е



Продолжи ряд чисел

Запишите 4 последующих
числа:

25, 24, 21, 12, 0, 1, 6, 1, 3, 1, 6, 2, 9, 8

Закономерность: каждое
следующее число меньше
предыдущего на 1, затем на 3,
затем снова на 1, снова на 3 и т.д.

Дале
е

Продолжи ряд чисел

Запишите 4 последующих
числа:

9, 10, 11, 12, 15, 21, 30, 45, 54

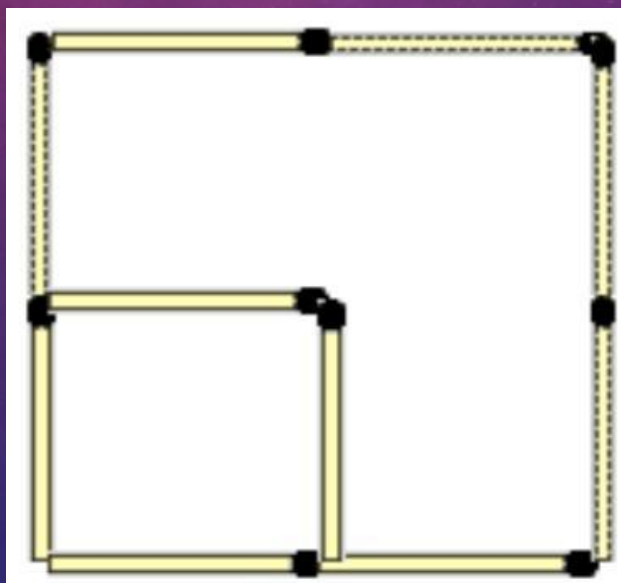
Закономерность: каждое
последующее число больше
предыдущего на 1, 2, 3, 4 и т.

Д.

Дале
е

Шутки со спичками

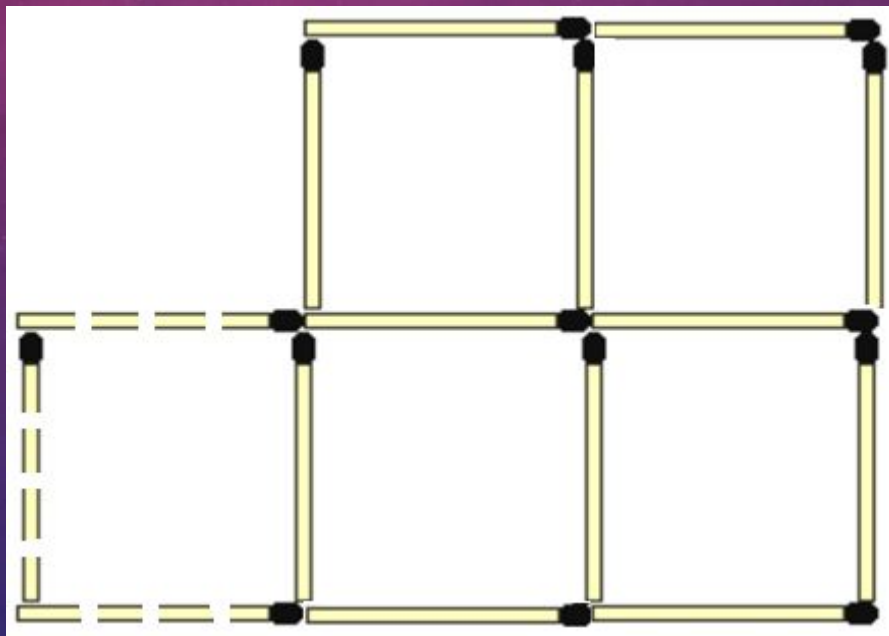
Убери 2 спички, чтобы
получилось 2 квадрата.



Дале
е

Шутки со спичками

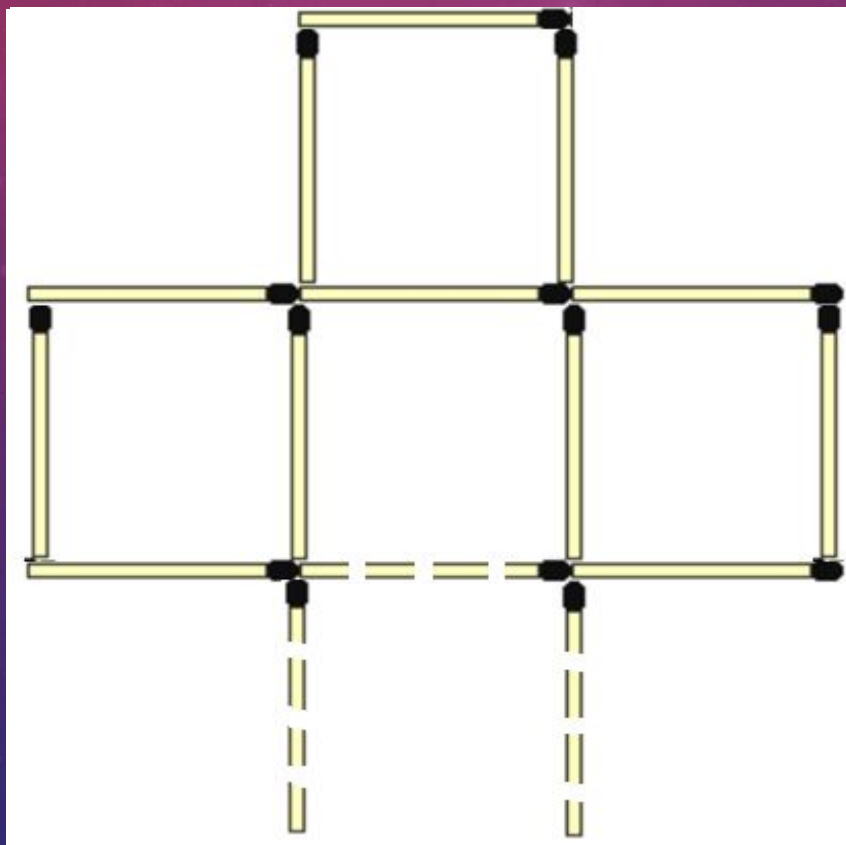
Переложи 3 спички так, чтобы
получилось 4 одинаковых квадрата.



Дале
е

Шутки со спичками

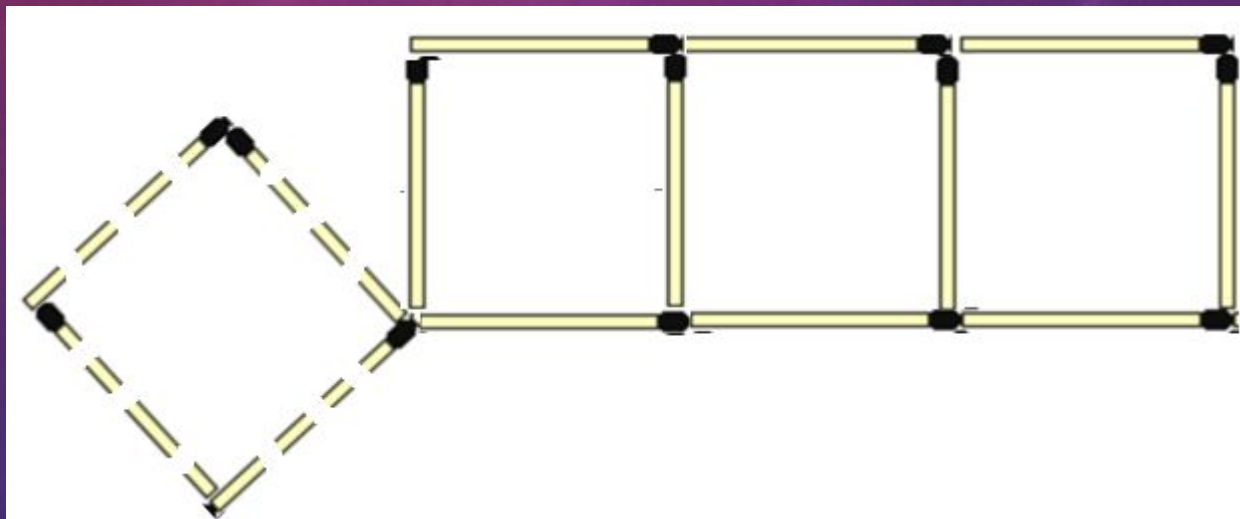
Переложи 3 спички так, чтобы
получилось 3 одинаковых квадрата.



Дале
е

Шутки со спичками

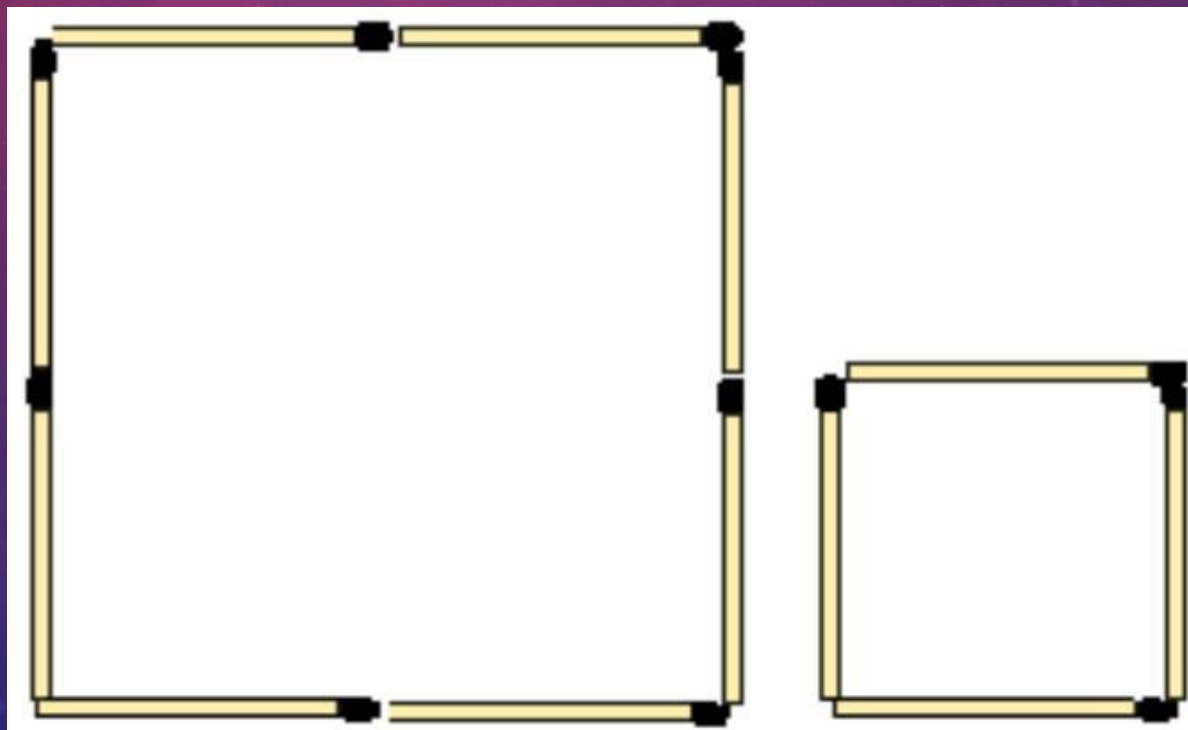
Переложи 4 спички так, чтобы
получилось 3 одинаковых квадрата.



Дале
е

Шутки со спичками

Переложи 4 спички так, чтобы
получилось 2 квадрата.



Дале
е

ИТОГИ

Наша игра подошла к
концу.
Пора подвести итоги!

