A decorative border surrounds the text, featuring various geometric shapes such as stars and circles in shades of blue, green, and purple. The background is a light beige color.

Интерактивная игра «Математическая солянка»

в рамках образовательного проекта
«Увлекательная математика»

Воспитатель I категории:

Торопова Ю. В.

МДОАУ №17

«Математическая солянка»

1 тур

Величина

1

2

3

4

5

Форма


1

2

3

4

5



«Математическая солянка»

2 тур

Время

1

2

3

4

5

Счет

1

2

3

4

5



«Математическая солянка»

3 тур

Логика

1

2

3

4

5

История

1

2

3

4

5



Величина


В мультике
«38 попугаев»
чем измеряли
удава?





Величина

Аукцион



У вас две емкости в одной вода, а другая пустая, лента, линейка, маркер. Разлейте воду так чтоб в обеих емкостях воды было поровну.





Величина

Что произойдет с водой если в нее положить большой тяжелый предмет.





Величина

Вопрос от детей

У Тани, Кати и Оли красный, синий и желтый мячи. У Тани не желтый и не красный, а у Кати красный мяч. Какого цвета мяч у Оли?






Форма

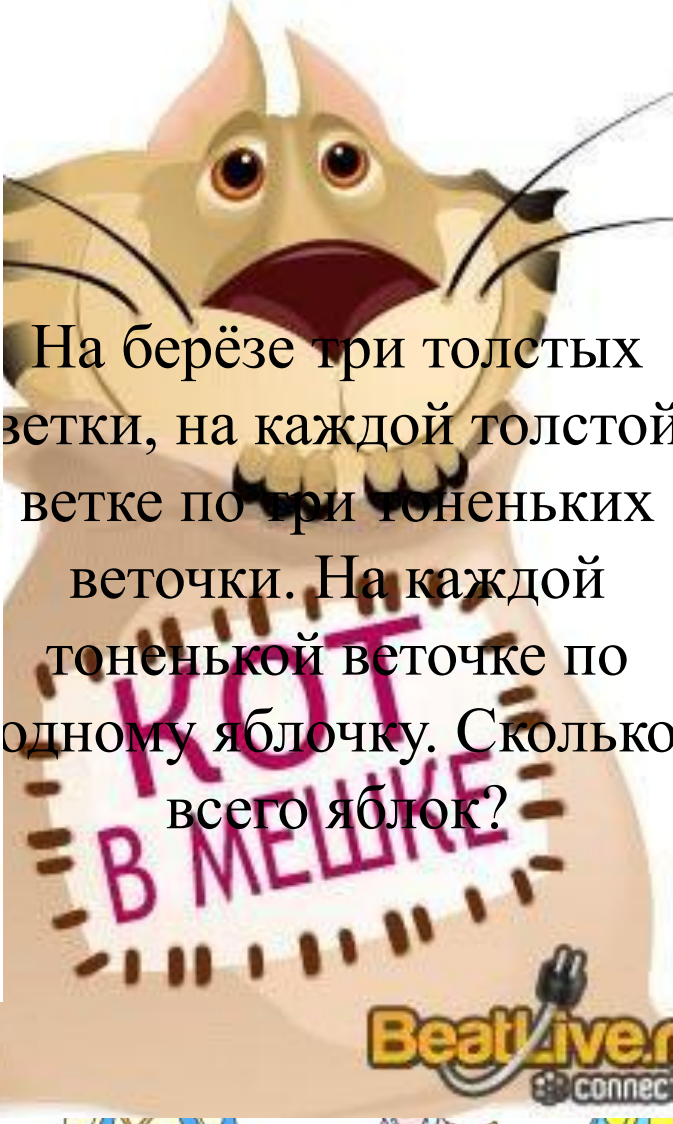
Из за сходства с этой геометрической
фигурой дали название мужскому
головному убору



Форма

Классифицируйте фигуры на группы.
Сколько групп вы выделите?





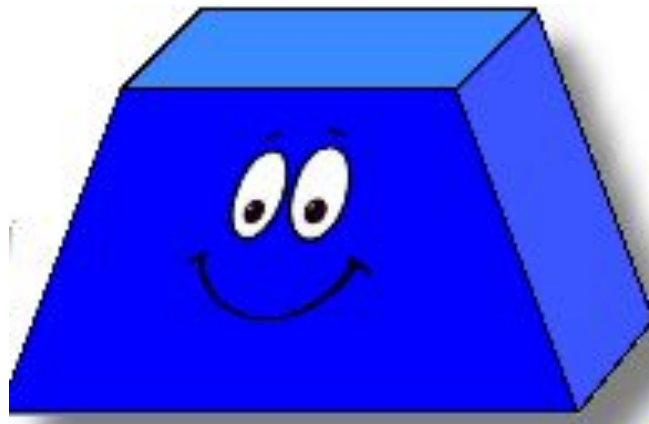
На берёзе три толстых ветки, на каждой толстой ветке по три тоненьких веточки. На каждой тоненькой веточке по одному яблочку. Сколько всего яблок?





Форма

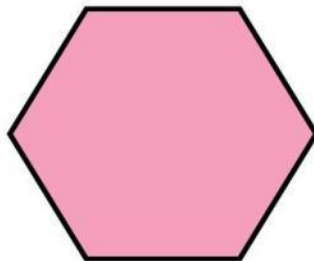
Эта фигура напоминает юбку.



Форма



какие формы
которые сделан





Время

Ског

ели?



SkyClipArt.ru





Время



Время

Вопрос от детей

Что

а мы
м?





Время

Разминка






Время

Самый короткий месяц в году.

ФЕВРАЛЬ



Счет




Счет

Посади я пять хороших




Сколько их не проросло?



Счет



Как-то вечером к медведю
На пирог пришли соседи:
Ёж, барсук, «косой»,
Волк с плутовкою лисой.
А медведь никак не мог
Разделить на всех пирог.
От труда медведь вспотел –
Он считать ведь не умел!
Помоги ему скорей –
Посчитай-ка всех зверей.





Счет


Семь весёлых поросят

У кочерыжки стоят.

Помогите




Счет



Логика

Сколько раз надо надломить шоколадку, чтоб разделить ее на шесть кусочков?




Логика

Если м
пласт

куска
ар, а из
ок
?


```
70MMMMW.
      .Wr . W;
      .B@@@X 0; ;M Za ..,i,W;
      8S .M7 ;ri;Z M ,,:;:XO.
      20,..:i77r@ i777;XMSZ M .:..:i:aO
      .X8, ;r7;;aS ;r;;iaX M M .:..:i7W
      Z2,a2 i7rr7Z2 ;7XX;ZZir;M M ;;;:i17M
      ,7@M8ZZS, ;ZaaZZ8X; 28,..;iMi;ira8,SXX7Z0ii;a0 M ;iir;XM
ra .ii ,x27X;i;ii.iWOXS :0 ,r7;.M.r5Z7r77r5Z7ii78: M ;ii;r77@
rS .iXi Zr ,...;..:r78Mr ;i:SZ:X85777Za;ii0X M,i;r777W
,Z: ir:X@i .S7,;...XWW8220i2a7rrrXaZii17M M,r7XX77;ZZ
.iaa ;X...5M8:..:..:ii,.. :i88ZW;r758Z;i;88 M;XSX7;7rZ2
X7i;X808r;:::..iZBZX ,. ,...;X20BOW2i;7Z0 @XX77rr7rr0r
M ;,;87;..:.. rX@wZ7, . ,;ii,..;ir;0888BX .ZB277;r;777;8X
W ..7 ;a2, ;i,..;..;58wX ,27rrr1;:::..;i7SZw@@BZX;;;i;rr777;8X
7X .2i..;85 .:..:iiiii58Za2ii;rrr;iiii;ii;..:..:;rrrr777r05
5077;:::..78Xi ,;i;iiii;X282i;:rrr;:::;i;iiiiii;r7rrr777r70;
,W7 ,;..;Sza. ,;i;ii;iiX087;ii;7;:::;iiii;rrr7rrrrr7777raa
2i awi: .i;..;8W7i :77;ii;iiiiSaBX.....;27rrrrrrrrr77777X85
Q. i00Si .:..;S288Siir;iiiiii;i;r77i.iX2X;rrrr777777XX0B
Z; :SZ0r, :..:i2aZ5;i;rr;iiii;:i;raaSXXS;rr777777XX7XW
i8. 7r,.a0Z. .:..;i508r;i;:::;iiii;ir7rr7XS7r7X77777XX007X0
,M5r...70B7 ;:::..:a22rrrrr;rr;i;rr;:::;ii757777XX00077MZO
2272X ,:..:ia82axiiiiii;XZ87,...;i;irrrrrriiX57777XXSXX7WrBMMa
Z8 rB; .:..:iaa8i;iiii;:::;r;ri, .aa7rrrXX7r;rXX777XXSX00i8MMMZ7
58: .. Xw8 ,;ir28Xii;iiiiii;:::;22ax7;7rXX7rr;rX27r77XXS2Si ZMM.8B
r8: :... .00X;2r;iiii50r;rr;:::;X77r;rrrrri;rXSX7rr;S2X77XXSwi, .BM aZ
i2MZBM8X.....;..;7i;287;:i;i;:Z8;..;i;ir;r7rrrrrr;rrXSX7;rSa25787iMMM@M aZ
ZMM2 X2i.....;..;7r;XXS22.iiiiii;:::;8xr7XXX77rrrrrrSx77rXX255@ ,MWB@M,Z8
ZZZ@ . MXr;:::..;i;17r;X7XXZ8WX,iiii;:::;i22ax07;irXX25XXrr;:::;722X77XXW,MMMM i0.
Xa ZMMM1 MXrr77;:::;r7ri57XSxaa208r,1:..:ii;:::;rrr;i;:::;i;r7225X77rXXa22XZS BM iSa,r@
M MO8M. M7rr2r;rrrr;rXX7257aZ22S2wZ,....2S;:rXXXXXXXX7r;ix225XX7XS52a rM. 8i8;
,8 ZMB0M M77;757777rXSX7725Xa82XXXXXXBMWMMa5Sxiiii;i;rr777rrr7XS2225XZ2 iMMM8 M2iM
W; MWBWM, MXX7r;XXXX77XXSXXaZXXSXSOMX7 .2SXXXXXXXXMMW0Sr;r7XXXXXXS55aZ,MMWMM2 M
w7 W@rMZ WXX7r7rrr7XS255S22XXSSZ@B @rMBBXXX77XXZ0: 0@QBMM,r0
M, , WM Z2552225555555X5X2BM27 MiMMMMM@aw258@7 .MW08BM@iiz
M, M: BM; :22X55555555XXS22W0Z 87r@BWW8BMM2 7MW0BWB i8
X8:MMMMMMM 78XXSSSSSSSawMS7 Zr7MW0BMM2 ,MMW0WMS Xa
M;M@wMMO SaXXXXZ8Z ,0iZMMM8,MMa50BMO 2X
M.SMWBBWMa a27;XSX ,Z7.B; 05 aMW,r8
WX,aMWBWBMS;22BM@aX 222WMMMMMM;8S r0.
B2iBMWBB@Ma,iZMMaX ,aXMM0Z08;
r0r0MMMMMMM7.i20r
r87;W iX@MMaa
aaBa2XWwB
....
```



Логика


Игра капитанов на планшетах

Пройдите лабиринт с первого
раза и вперед своих соперников



Логика

Двое мальчиков играли в шашки два часа.
Сколько играл каждый из них?



Логика

Вопрос от детей


На столе стояла ваза. В
вазе лежали три
груши, одна мор-
яблоко, апельсин
помидора. Ско-
всего фруктов лежало
в вазе?



История

И

зовали




История

Вопрос от детей




Что тяжелее 1 килограмм ваты или 0.5 килограмма железа?



История



Чем
служили все
ЭТИ
предметы в
древности?




История

Почему рубль называется именно так?



История

Почему копейка называется копейкой?



«Математическая солянка»



ПРОДОЛЖЕНИЕ
СЛЕДУЕТ...