


Игра «Россия в конце XVI-XVIII веках»



1. Смута

**2. Россия в XVII
веке**

**3. Россия при
Петре I**

**4. Дворцовые
перевороты**

5. Екатерина II

6. Культура

1. Смыта

10

20

30

40

50

60



2. Россия в XVII веке

10

20

30

40

50

60



3. Россия при Петре I

10

20

30

40

50

60



4. Дворцовые перевороты

10

20

30

40

50

60



5. Екатерина II

10

20

30

40

50

60



6. Культура

10

20

30

40

50

60



Смута - 10

**Назовите имя последнего
царя из династии
Рюриковичей**



Царь Фёдор Иванович



Смута - 20

О ком идет речь?

...бояре-заговорщики ворвались в Кремль, схватили ЕГО и убили. Труп ЕГО был выставлен на Красной площади на поругание. Через трое суток его сожгли, пеплом зарядили пушки и выстрелили в сторону Польши – страны, откуда ОН пришел...

Джедмитрий I



Смута - 30

*Кому посвящен
памятник?
Назовите фамилии*



Кузьма Минин и Дмитрий Пожарский



Смута - 40

Назовите даты Смутного времени



1598-1613



Смута - 50

Напишите зашифрованное слово



«Семибоярщина»



Смута - 60

Окончанием и началом каких периодов в истории России стал 1613 год?


Окончание – Смуты

Начало – правление династии Романовых



Россия в XVII веке – 10

*По какому принципу
образован ряд:
Никитниковы,
Светешниковы, Шорины,
Филатьевы, Строгановы,
Демидовы*



*Династии промышленников-
предпринимателей*



Россия в XVII веке – 20

Соотнесите сословие с его характеристикой

А. С учетом занимаемой должности получали право на владение большими или меньшими землями с жившими на них крестьянами.

Б. Работали на барщине, платили натуральный и денежный оброк.

В. В состав входили епископы, архиепископы, митрополиты.

Г. Население окраин России, пользовались особыми правами на условиях обязательной службы

Д. Посадское население, ремесленники, купцы, торговцы, жители белых слобод

- 1. Крестьяне**
- 2. Городское население**
- 3. Духовенство**
- 4. Казачество**
- 5. Первое сословие**

1Б, 2Д, 3В, 4Г, 5А



Россия в XVII веке – 30

Увеличение территории страны, усложнение экономической жизни привели к необходимости ввести Среди них был Посольский, Казенный, Разбойный, Ямской и другие.

Назовите что было введено.

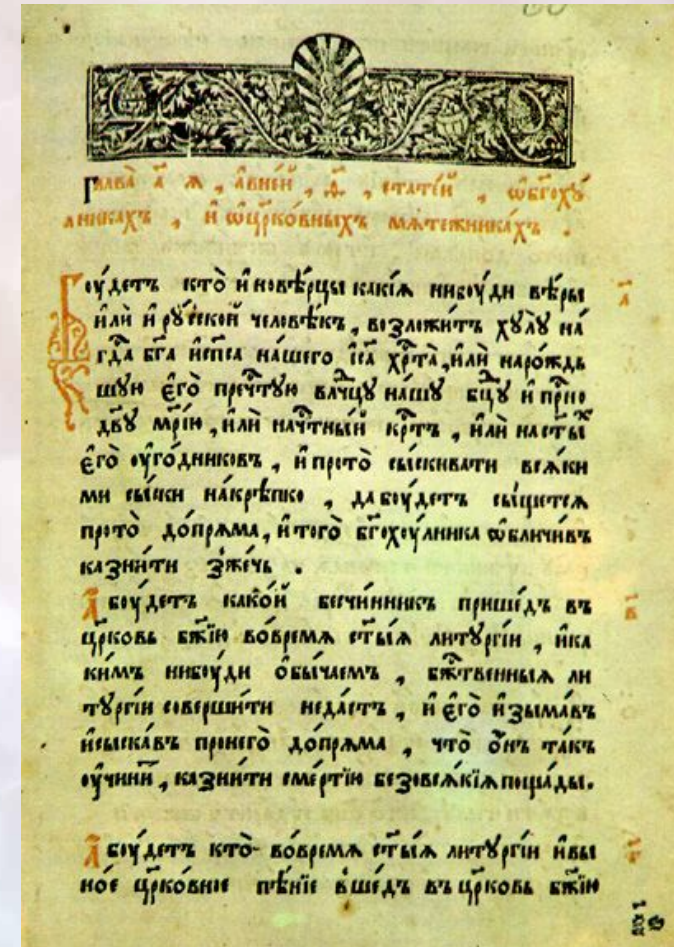
Приказы



Россия в XVII веке – 40

Этот документ – единый свод законов, отразил возросшую роль царя в жизни страны, впервые утвердило право феодала на землю и зависимых крестьян. Документ был принят в 1649 году.

Назовите документ.



Соборное уложение 1649 г.



Россия в XVII веке – 50

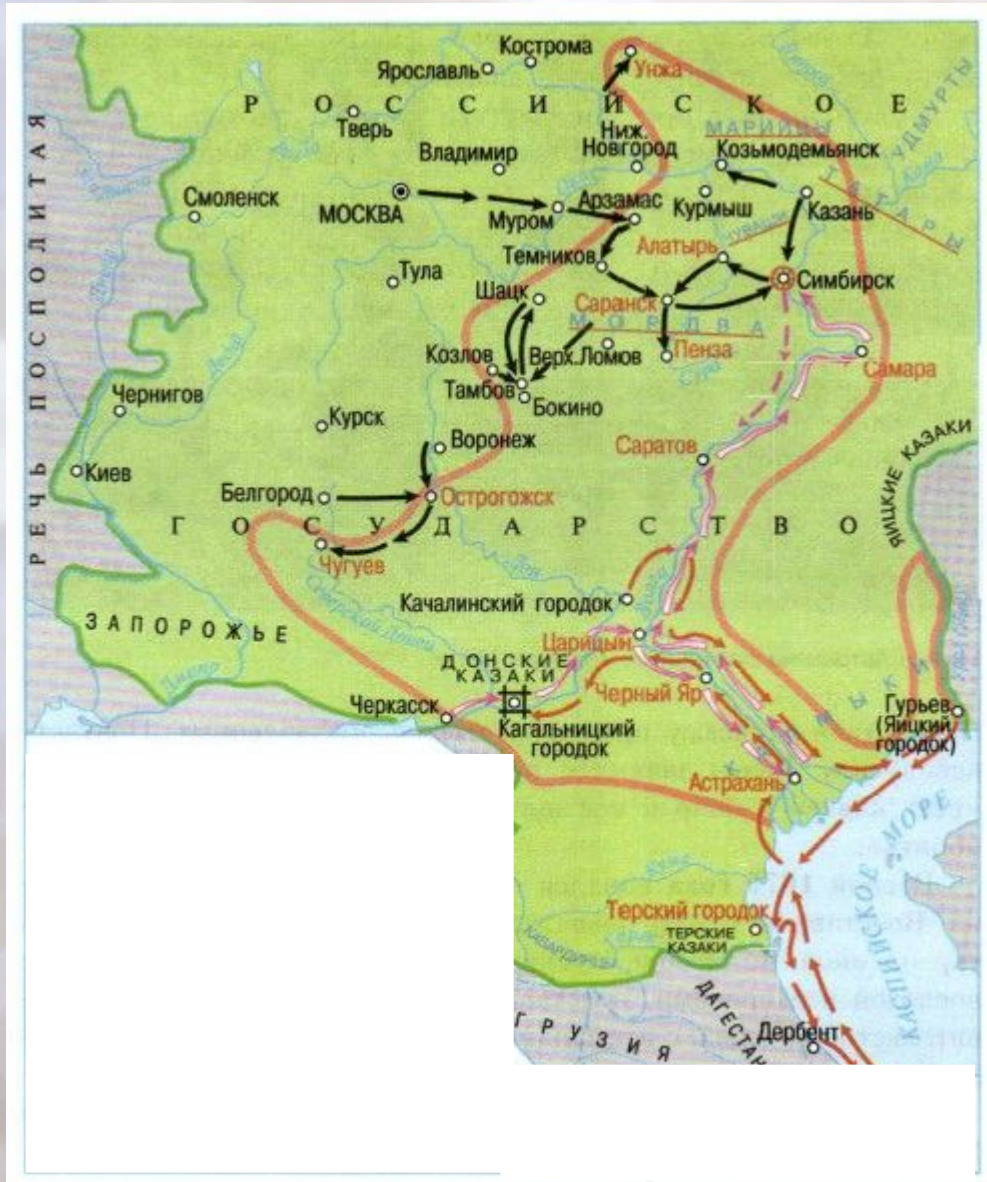


Кто изображен на картине?

**Патриарх
Никон**



Россия в XVII веке – 60



Какое событие отражено на исторической карте?

**Восстание
Степана Разина**



Россия при Петре I - 10



Как называется ЭТА местность?

***Немецкая
слобода***

Во время, когда Петр с матерью Натальей Кирилловной вынужден был жить в Преображенском. Молодой царь частенько бывал в ЭТОЙ местности, где жили иностранцы.



Россия при Петре I - 20

О чем идет речь в документе?

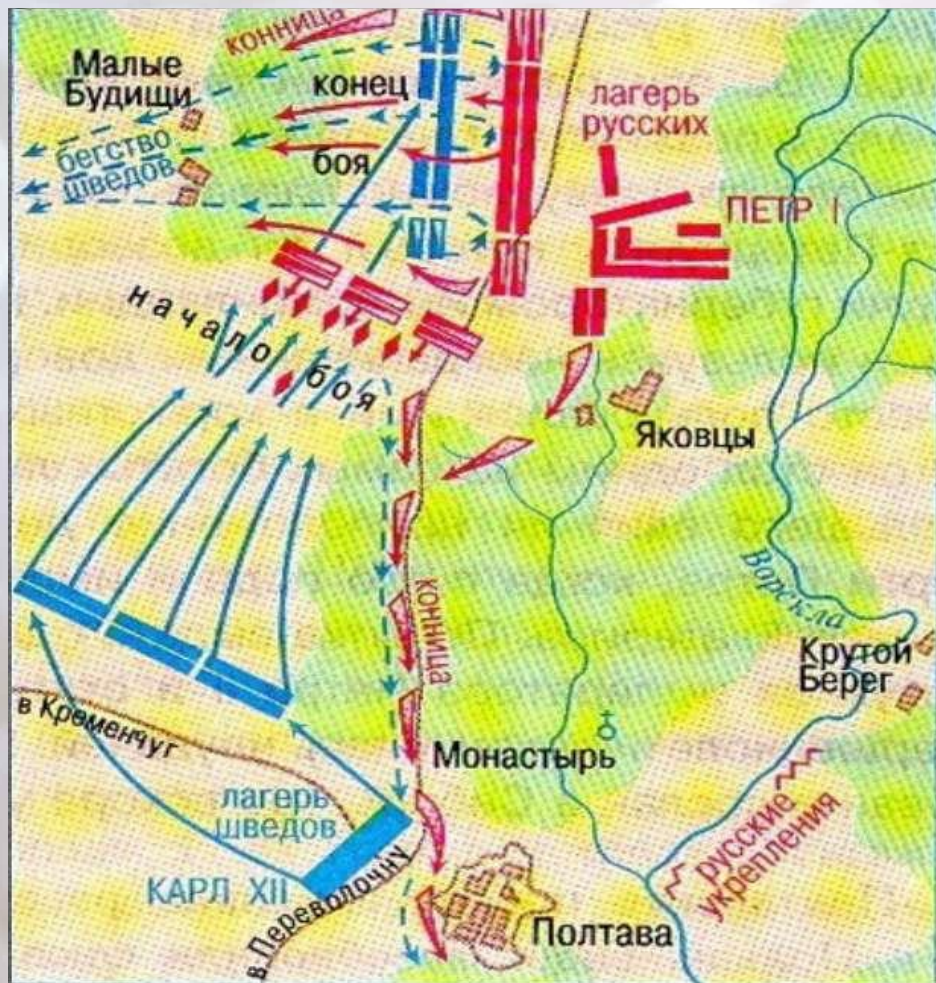
Формальными руководителями (...) были генерал-адмирал Франц Лефорт, боярин Ф. А. Головин и думный дьяк П.Б. Возницын. Однако почти сразу после отправления (...) из Москвы по всей Европе разнеслась весть о том, что в его составе едет инкогнито сам царь Петр. Это казалось невероятным хотя бы потому, что русские цари до этого покидали пределы своих владений разве что во главе собственного войска... Однако присутствие самого монарха инкогнито (...) было изобретением Петра. Уже одно это должно было привлечь (...) особый интерес

Великое посольство



Россия при Петре I - 30

*Какое событие отражено на карта-схеме?
Напишите дату.*



**Полтавская
битва
1709 г.**



Россия при Петре I - 40

Назовите имя исторического деятеля, определите верно его портрет:



A.

Б.



*Выходец из крестьянской семьи...
Природная смекалка, усердие,
храбрость на поле боя, личная
преданность царю сделали ЕГО
незаменимым для царя...*



В.

**Б. Александр
Меньшиков**



Россия при Петре I - 50

*Какое важное событие отражено в картине?
Назовите дату события*

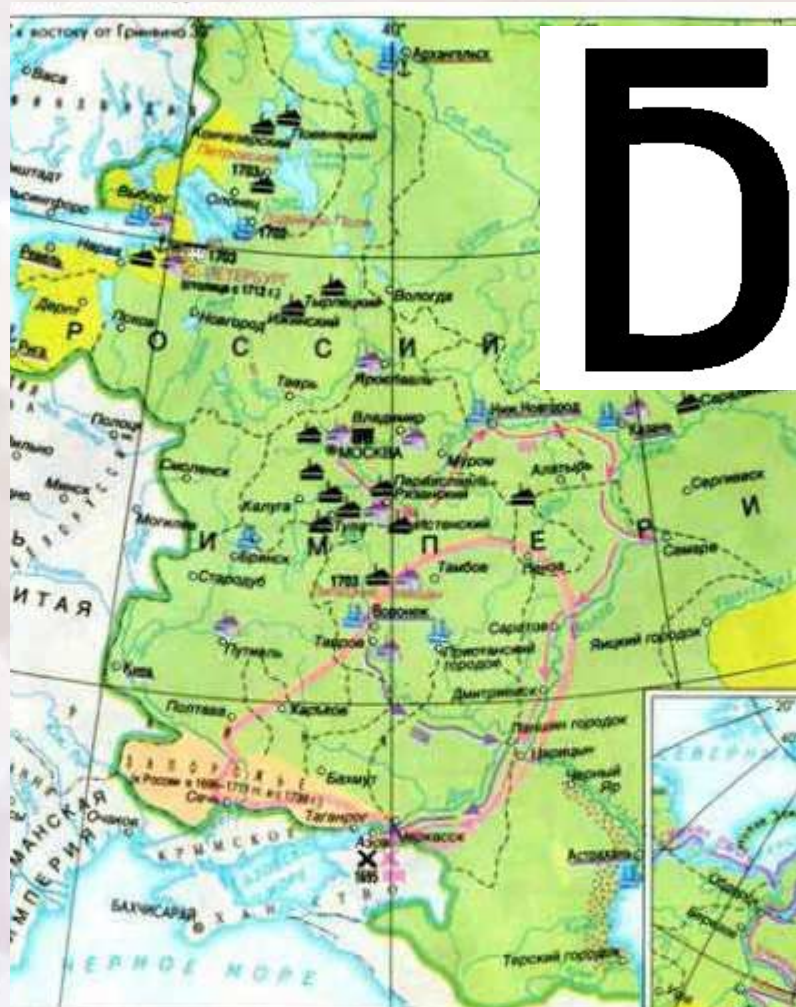


**Основание
Санкт-Петербурга
1703 г.**



Россия при Петре I - 60

**Какое событие
отражено на
карте жирной
красной
линией.
Фамилия
одного из
участников
события
зашифрована в
ребусе.**



**Б
Л
А
Д
И
Ц**

Назовите событие

**Восстание
Булавина**



Дворцовые перевороты - 10

Как называли придворного, пользующегося особой благосклонностью монарха, получающего от него различные привилегии и оказывающего влияние на внутреннюю и внешнюю политику?

Фаворит



Дворцовые перевороты - 20

Эта императрица была приглашена на российский престол по кондициям (условиям), однако власть «верховников» была недолгой, а новая императрица публично разорвала кондиции.

Назовите имя императрицы



Анна Иоановна



Дворцовые перевороты - 30

Расставьте в хронологической последовательности имена императоров российского престола:

Петр I
Елизавета Петровна
Петр II
Иван VI Антонович
Анна Иоановна
Екатерина I
Петр III
Екатерина II

Петр I
Екатерина I
Петр II
Анна Иоановна
Иван VI Антонович
Елизавета Петровна
Петр III
Екатерина II



Дворцовые перевороты - 40

О какой войне идет речь в солдатской песне:

**Что-то стоял прусской король на крутой горе,
Что-то смотрел-то – глядел на Берлин-город!
«Охти! Батюшко укрепушко, Берлин-город!
Ты кому же, моя укрепушка, достанешься?
Доставалась моя укрепушка царю белому,
А еще генералу Краснощекому!»**

**Семилетняя война
1756-1762**



Дворцовые перевороты - 50

Расшифруйте понятие



Гвардия



Дворцовые перевороты - 60

*Назовите даты периода дворцовых
переворотов*

1725-1762



Екатерина II – 10



«...И повесил щит свой на воротах в знак победы, и пошел от Царьграда...»

Назовите имя князя и дату события

Князь Олег

Вещий

907 г.



Екатерина II – 20



**Какое событие отражено
на картине?
Назовите дату.**

**Крещение Руси
988 г.**



Екатерина II – 30

Какой процесс отражен на карте?

**Феодальная
раздробленность на
Руси**



Екатерина II – 40



**Куликовская битва
1380 г.**

**А. Разорение Рязани
Батыем**



Б. Ледовое побоище



В. Куликовская битва



Г. Невская битва

**Выберите лишнее,
напишите дату.**



Екатерина II – 50

**Валентин Рич пишет:
«Несложный расчет
показывает, что в Древней
Руси одно ЭТО животное
можно было обменять на
трех сивок-бурок, или на
четырех буренок, или на
30 (целое стадо!) овец, или
на 60 поросят»**

**Какое это
животное?**



Кошка



Екатерина II – 60

Еще в Правде Ярослава указывалось, что за повреждение ЭТОГО в драке с виновного в пользу пострадавшего взыскивалось 12 гривен. Между тем сегодня многие мужчины старательно уничтожают ЭТО, изо дня в день совершая некоторые действия.

Что ЭТО?

Статья 7. «А за усы 12 гривен, за бороду 12 гривен»...



Культура - 10

И сказал князь великий

“Брат, князь Владимир Андреевич, пойдём туда, прославим жизнь свою, удивим земли, чтобы старые рассказывали, а молодые помнили! Испытаем храбрецов своих и реку Дон кровью наполним за землю Русскую и за веру христианскую!”

И сказал всем князь великий “Братья и князья русские, гнездо мы великого князя Владимира Киевского! Не рождены мы на обиду ни соколу, ни ястребу, ни кречету, ни черному ворону, ни поганому этому Мамаю!”

**Имя какого
князя
пропущено в
документе?**

**Дмитрий
Иванович
Донской**



Культура - 20

**При ЭТОМ великом князе
появляются новые символы
государственной власти:**

- **Великокняжеская печать с двуглавым орлом**
- **Великого князя стали называть «Государем всея Руси»**
- **Сложный придворный церемониал**
- **Шапка Мономаха**
- **Скипетр и держава**
- **В дипломатической переписке иногда ЕГО величали царем**

О ком идет речь?



Иван III



Культура - 30

Как называется документ?

Общерусский свод законов, утверждавший распространение власти великого князя на всей территории государства, ликвидировав местные законодательства отдельных земель. Был принят в 1497 г.

Судебник 1497 г.



Культура - 40




Как называется явление в истории России, связанное с данным изображением?

Опричнина



Культура - 50



*Назовите даты
периода, конец
которому
положили
запечатленные в
скульптуре люди.*

**Смута
1598 - 1613**



Культура - 60



Назовите имя царя, во время правления которого состоялось изображенное на картине событие.

Иван IV

