


Игра
«Знаток математики»
5-6 класс

Учитель математики
МАОУ «СОШ №108» г.
Пермь
Пушкарёва Елена
Юрьевна

Правила игры:

- Все учащиеся делятся на команды по 5-6 человек
- На экране появляется вопрос.
- Команды тихо, в своей группе обсуждают решение и пишут ответ на листочке (на листке должно быть обязательно указано название команды).
- Листок с ответом относят жюри.
- После того, как все команды принесут ответы, показывается ответ на вопрос.
- За каждый правильный ответ-1 балл.

Назвать учёного



Пифагор

Назовите фигуру:



Трапеция

Какая дробь лишняя?

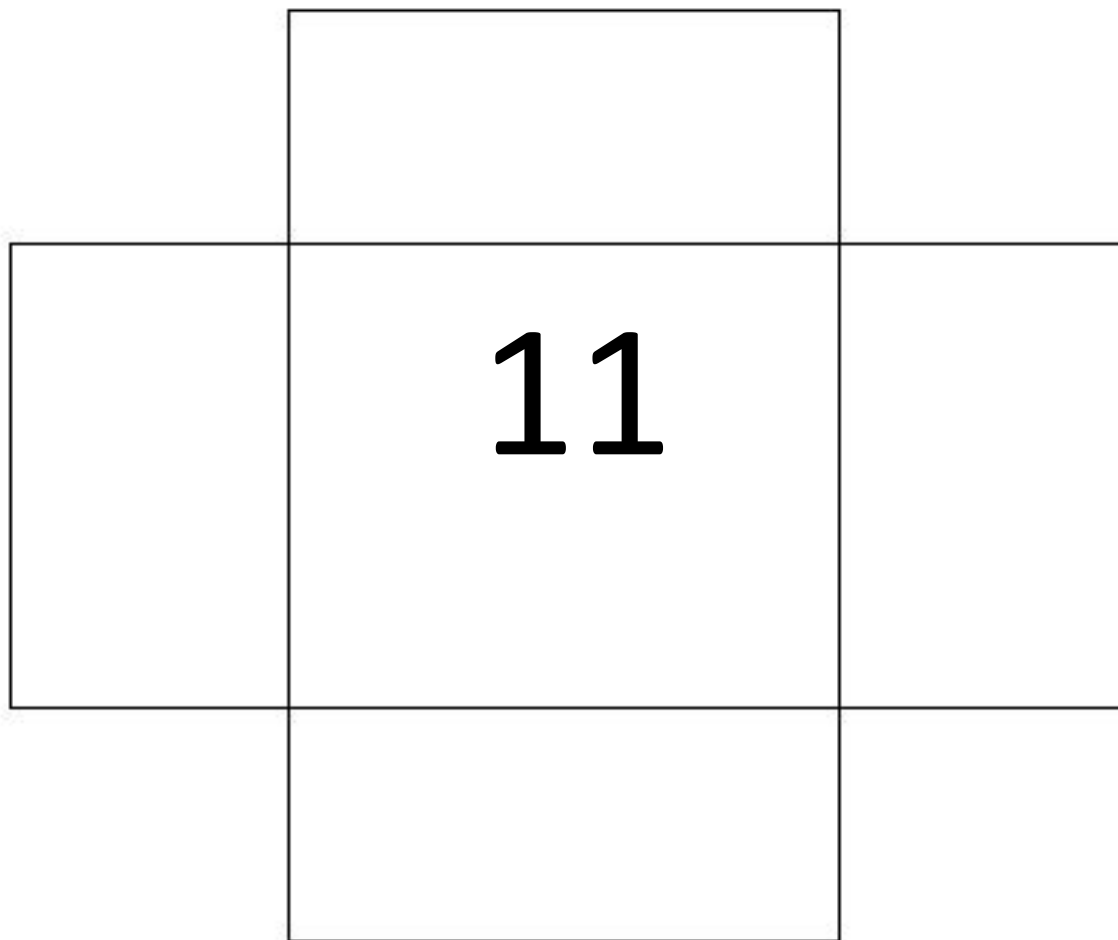
$$\frac{1}{2}$$

$$\frac{16}{3}$$

$$\frac{16}{31}$$

$$\frac{24}{53}$$

Сколько прямоугольников на
рисунке?



Назвать следующее число

4; 6; 9; 14; 22

Вставъте число вместо знака вопроса

6
2

12
4

24
8

48
12 16

Убрать лишний многоугольник

Трапеция

~~Треугольник~~

Квадрат

Прямоугольник

Ромб

**Назовите следующее
число**

28, 33, 31, 36, 34, 39

Убери лишний угол


45 градусов

67 градусов

89 градусов

91 градус

Сосчитайте треугольники



Вставъте число и буква

4

8

12

~~12~~ 16

Г

Ж

К

~~К~~ Р

**Вставьте недостающее
число**

6 7 8

36 49 64

24 ? 48

35

**Какое число написано римской
нумерацией?**

MMDXIV

2514

**Какой цифрой
оканчивается
произведение всех
чисел от 7 до 91**

0

**Поздравляе
м
победителе
й!**