






Реши цепочку



An aerial photograph of a coastal town built on a hillside. In the foreground, there are several buildings with red-tiled roofs, including a church with a prominent dome. To the right, a modern white building with a red roof is under construction, with scaffolding visible. The town is situated on a peninsula or a narrow strip of land, with a clear blue sea to the left and a large, arid mountain in the background. The sky is blue with some white clouds. A large, bold, black Cyrillic letter 'Я' is superimposed over the center of the image.

Я

Называй только ответы

- Найди сумму чисел 60 и 80.
- Число 25 увеличь на 75, полученное число уменьши в 4 раза.
- Сколько ~~см~~ см^2 в 8 дм^2 ?
- 530 уменьши в 10 раз.
- Частное чисел 24 и 6 увеличь в 9 раз.
- В столбик деление с остатком: $23 : 6$

An aerial photograph of a coastal town built on a hillside. In the foreground, there are several buildings with red-tiled roofs, including a church with a prominent dome. To the right, a modern white building with a red roof is under construction, with scaffolding visible. The town extends down to a turquoise sea. In the background, a large, arid mountain rises against a blue sky with scattered white clouds. A large, black, serif Cyrillic letter 'ЕЦ' is superimposed over the center of the image.

ЕЦ

Реши задачу

В двух одинаковых банках **6** литров сока.
Сколько литров сока в **9** таких банках?

1) $6 : 2 = 3$ (л) – в **1 банке.**

2) $3 \cdot 9 = 27$ (л)

Ответ: в **9** таких банках **27** л сока.



P



ИЯ

ГРЕЦУРА

ЕЦ













План работы


- Изучить достопримечательности Греции, которые вошли в список культурного наследия мира.
- Узнать о месторасположении Греции; о её символике. Выяснить название столицы Греции.



План работы

1. Узнать о месторасположении Греции; о её символике. Выяснить название столицы Греции.

2. Изучить достопримечательности Греции, которые вошли в список культурного наследия мира.





ГРЕЦИЯ





Болгария

Македония

Турция

Албания

Италия

Греция

Македония

Кавала

Фракия

Александрополи

Салоники

г.Олимп
2917 м

Халкидики

о.Тасос

о.Самотраки

Корфу

о.Керкира

Эпир

Тессалия

о.Лемнос

о.Лесбос

Митилини

Турция

о.Лефкас

Центральная Греция

Халкис

о.Скирос

о.Хиос

о.Кефалиния

Аттика

Афины

о.Эвия

Хиос

о.Закинф

Закинтос

Пелопоннес

Спарта

Китира

о.Китира

о-ва Киклады

о.Самос

Ионическое море

Хос

Родос

о.Родос

Критское море

Ханья

Ираклион

Карпатос

о.Карпатос

о.Крит



50 км

Средиземное море

Найди значение числового выражения

$$18 \cdot 5 + 7 \cdot (100 : 10) - 6 = 154$$





















Реши задачу

На флаге Греции изображено **10** элементов.
Один из элементов – это белый крест.
Остальные элементы – это синие и белые
полосы, которые чередуются между собой.
Белых полос на одну меньше, чем синих.
Сколько белых и сколько синих полос
содержит флаг Греции?



ФЛАГ ГРЕЦИИ



ГЕРЬ ГРЕЦИИ



АФИНСКИЙ АКРОПОЛЬ



АФИНСКИЙ АКРОПОЛЬ





Выберите и продолжите одно из предложений

- **На сегодняшнем уроке я узнал...**
- **На этом уроке я похвалил бы себя за...**
- **После урока мне захотелось...**
- **Сегодня я сумел...**