



Интегрированный урок «Математика. Мир деятельности»

ТЕМА: РЕШЕНИЕ ЗАДАЧ. ПРОВЕРКА ПО ОБРАЗЦУ.



Учитель: Адамович Светлана Ивановна
2 «Д» класс
2014 – 2015 год





САМОПРОВЕРКА



– **верный
РЕЗУЛЬТАТ**




**МОЙ
РЕЗУЛЬТАТ
ВЕРНЫЙ?**



– **верный ХОД
ВЫПОЛНЕНИЯ
задания**



**ГДЕ
МОЯ
ОШИБКА?**




План проверки по образцу:



ПРОВЕРЯЮ СВОЙ ОТВЕТ



СМОТРЮ ОБРАЗЕЦ



СРАВНИВАЮ



ПИШУ + ИЛИ ?

№ 314

Партии Мальчики	1-я партия	2-я партия
ВИТЯ		
ДИМА		

- 1) Кто набрал очков больше?
 - 2) На сколько меньше очков у одного мальчика, чем у другого?
- На какой из этих вопросов можно ответить, не выполняя арифметических действий?

Задание 310. Объясни способ, которым ты решил задачу.

1-й способ

$$1) 6 + 4 = 10 \text{ (с.)}$$

$$2) 70 - 10 = 60 \text{ (с.)}$$

2-й способ

$$1) 70 - 6 = 64 \text{ (с.)}$$

$$2) 64 - 4 = 60 \text{ (с.)}$$

3-й способ

$$1) 70 - 4 = 66 \text{ (с.)}$$

$$2) 66 - 6 = 60 \text{ (с.)}$$

Задание 315.

Девочки собирали землянику. Маша собрала 8 стаканов, Лена – 4. Сколько стаканов земляники собрали девочки?

Девочки собирали землянику. Маша собрала 8 стаканов, Лена – 4. На сколько больше стаканов земляники собрала Маша, чем Лена??

М. |—————|

Л. |————|



МАША



ЛЕНА

Л. |—————|

М. |————|



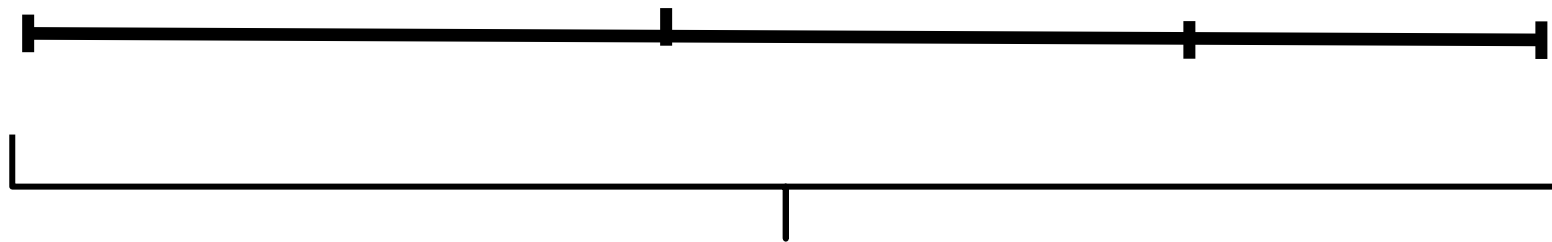
МАША



ЛЕНА



ТАНЯ



Задание 313. Заполни таблицу.

+	7	8	9	6
27				
38		46		
49				
54				60
63				
72				

Задание 312. Заполни таблицу.

Первое слагаемое	9	8	6	7	9	7	8
Второе слагаемое	5	8	7	8	6	9	6
Значение суммы							

Задание 316. Выбери пары чисел, разность которых равна 8, и запиши 4 равенства.

5, 17, 19, 16, 9, 12, 13, 15, 4, 7.