

Интегрированный урок
математики и английского языка

Повторение изученного в 1 классе

Составила учитель начальных
классов и английского языка
гимназии №20 Советского района г.
Казани
Минимуллина А.Х.



Устный счет

Count
from 20 to 13
from 2 to 17
from 19 to 5



$$20-17=$$


$$3+16=$$

$$19-14=$$

$$12+4+3=$$

$$20-11+5=$$






Circle square triangle




How many circles?..
How many squares?..
How many triangles?..



Tom has got 12 dogs and
5 lions. How many toys
has he got?



Lena and Dima have 5 apples,
4 lemons and 7 oranges. How
many fruits have they got?



Let's have a rest!



Если Оля сидит левее Тони,
то, как сидит Тоня по
отношению к Оле?

Батон разрезали на 5
частей. Сколько
сделали разрезов?

