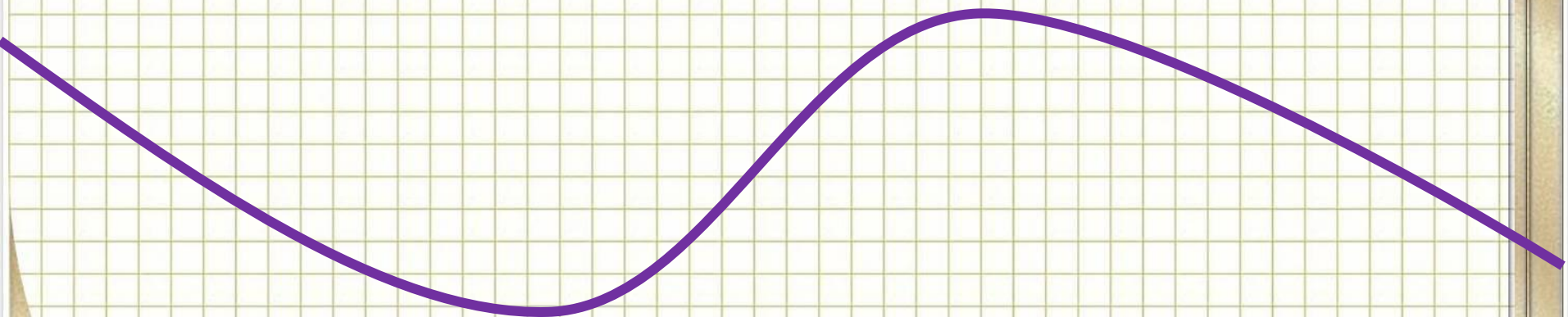
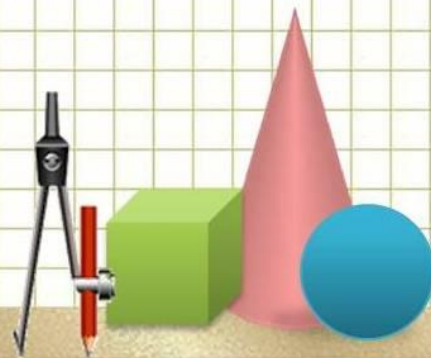


Математика

2 класс



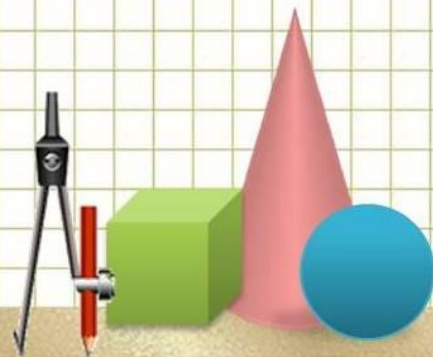
Подготовила учитель начальных классов:
Т.С. Парфенова

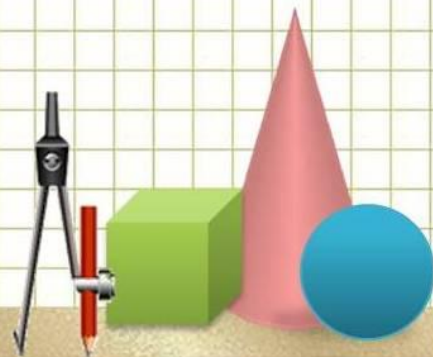
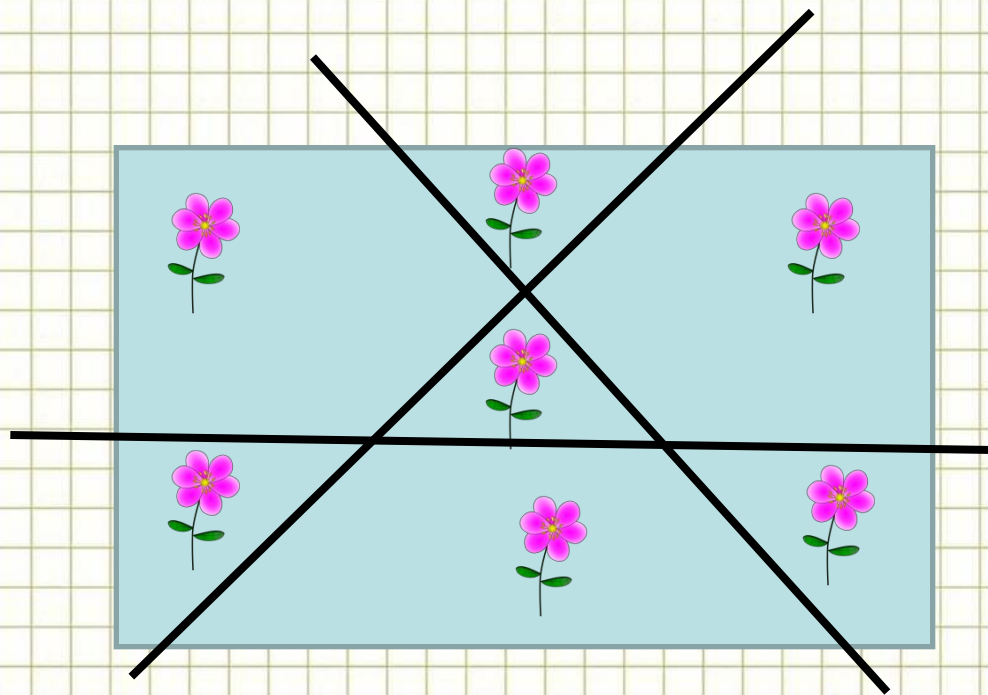


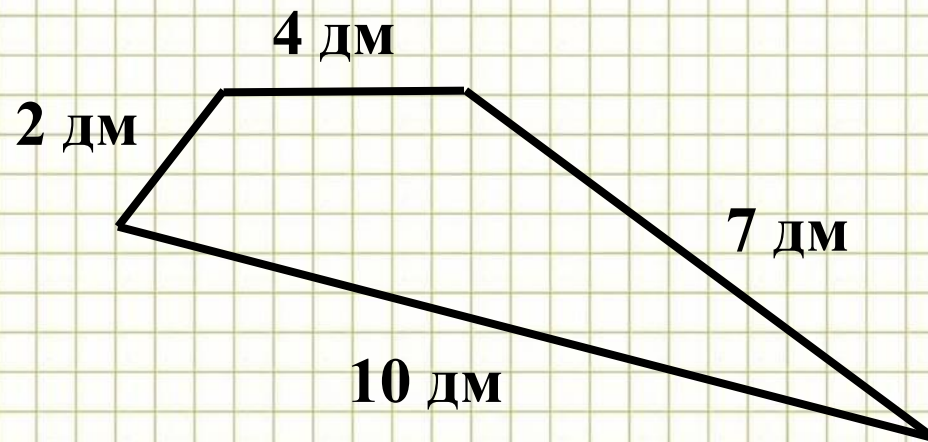


Улитка за 2 мин
проползает по
стволу берёзы 2 см
вверх. Затем 1 мин
отдыхает и сползает
вниз на 1 см. На
какой высоте от
земли она будет
через 5 мин?

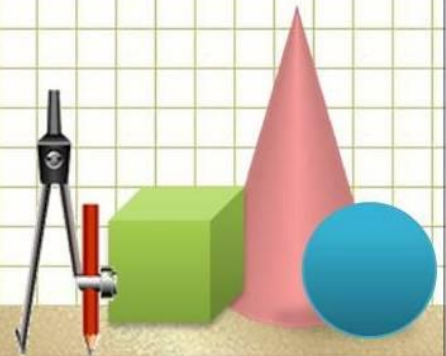
3 см







$$P = 2 + 4 + 7 + 10 = 23 \text{ дм.}$$



$6 + 6$ (О)

$70 + 6$ (В)

$13 - 6$ (Р)

$7 + 7$ (И)

$34 - 10$ (Е)

$30 + 60$ (У)

$90 + 2$ (Ч)

$12 - 10$ (А)

$42 - 20$ (М)

$8 - 5$ (Ь)

$80 + 6$ (Т)

$14 - 4$ (З)

$30 - 10$ (Я)

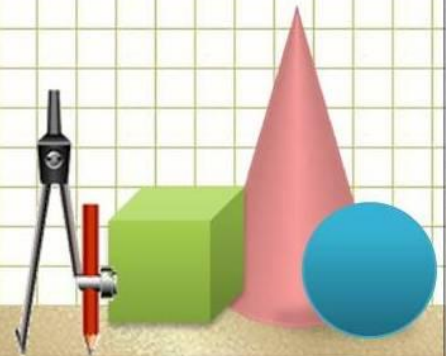

$20 + 1$ (Н)

$90 - 5$ (К)

14	12	76	86	12	7	24	21	3	24
П	О	В	Т	О	Р	Е	Н	Ь	Е

22	2	86	3
М	А	Т	Ь

90	92	24	21	3	20
У	Ч	Е	Н	Ь	Я



1. Вставь числа в окошки так, чтобы равенства были верными.

$$40 + \boxed{3} = 43$$

$$\boxed{50} + 7 = 57$$

$$\boxed{60} + \boxed{1} = 61$$

2. Найди значения выражений.

$$18 - 9 + 5 = 14$$

$$67 - 7 = 60$$

$$7 + 6 - 3 = 10$$

$$59 + 1 = 60$$

$$48 - 40 = 8$$

$$70 - 1 = 69$$

3. Поставь скобки так, чтобы записи были верными.

$$14 - (10 - 3) = 7$$

$$6 + (18 - 8) = 16$$

4. Сравни, поставь знаки $>$, $<$ или $=$.

$$15 - 5 < 10 + 6$$

$$6\text{ м } 3\text{ дм } > 36\text{ дм}$$

$$9 + 7 = 7 + 9$$

$$1\text{ ч } < 65\text{ мин}$$

МОЛОДЦЫ!

