











«Что? Где? Когда?»

**Путешествие по
России**

Уважаемые знатоки,
выберите конверт.



Вопрос № 1

Решите уравнения, расположите ответы по возрастанию и узнайте название реки, которая образуется при слиянии двух рек – Бия и Катунь.

$$813 - x = 36$$

ь

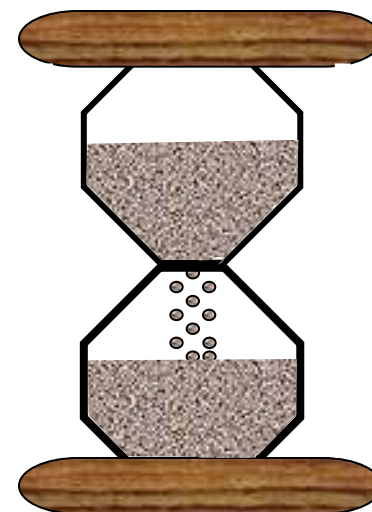
$$x + 248 = 741$$

Б

$$x - 38 = 395$$

О

ОТВЕТ



Ответ на вопрос № 1

433	493	777
о	б	ь

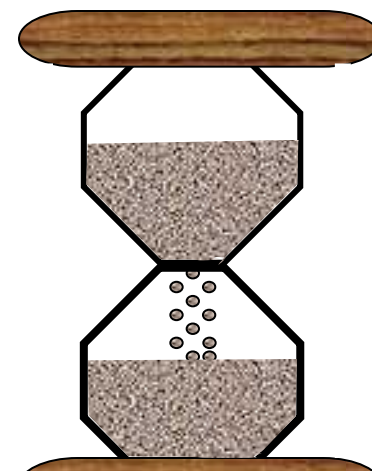


ПИСЬМА

Вопрос № 2

Соотнесите результаты числовых выражений с буквами и узнайте название культурно-исторического комплекса, который расположен у подножия Самаровского ледникового останца. Он включает в себя геологический памятник, памятник археологии «Самаров городок» и парк скульптур, изображающих древних животных и людей.

А	$36+4-7*5$
Р	$48-40:8+6$
П	$29+5*7$
К	$29+5*8$
Х	$50-(21+9):5$
О	$29+5*6$
Е	$24:(12:3)+4*7$



ОТВЕТ

5	49	44	34	59	64	5	49	69



Ответ на вопрос № 2

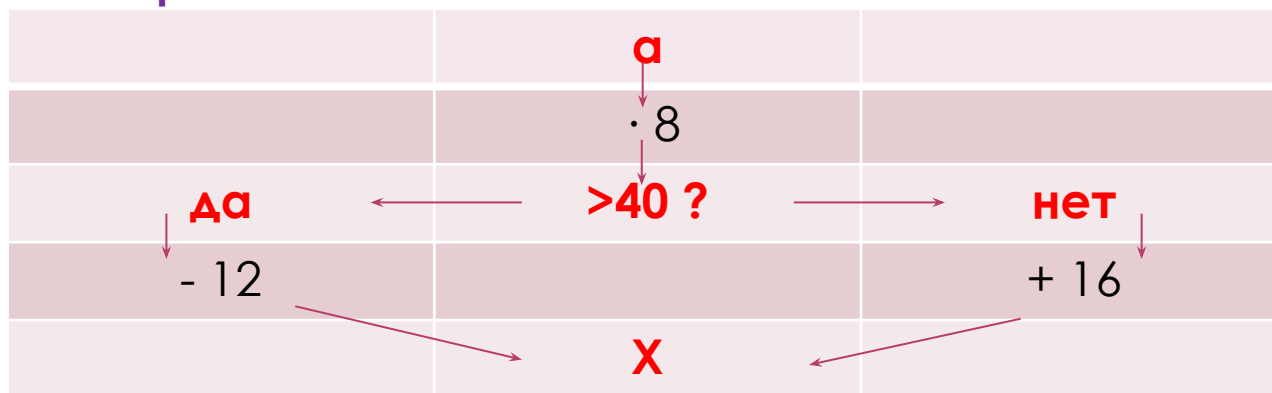
5	49	44	34	59	64	5	49	69
А	Р	Х	Е	О	П	А	Р	К



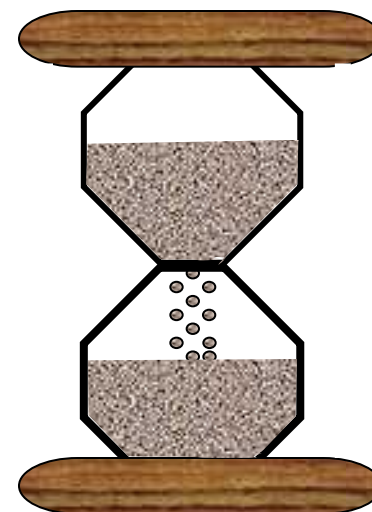
ПИСЬМА

Вопрос № 3

Пользуясь заданным алгоритмом, соберите рассыпанное слово, расположив буквы в соответствии с числами – ответами по возрастанию.



а	3	4	5	6	7	8	9
X	А	А	И	С	Х	Л	Н



ОТВЕТ



Ответ на вопрос № 3

а	3	4	5	6	7	8	9
Х	А	А	И	С	Х	Л	Н
	40	48	56	36	44	52	60



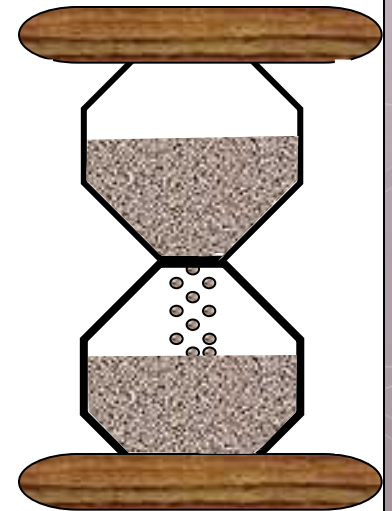
ПИСЬМА

Вопрос № 4

Выполни деление, расположи
ответы в порядке убывания и
узнай название самого крупного
озера на Земле.


50:10	И
90:10	С
360:10	А
800:100	П
700:10	К
300:100	Й

ОТВЕТ



Ответ на вопрос № 4

70	36	9	8	5	3
К	А	С	П	И	Й

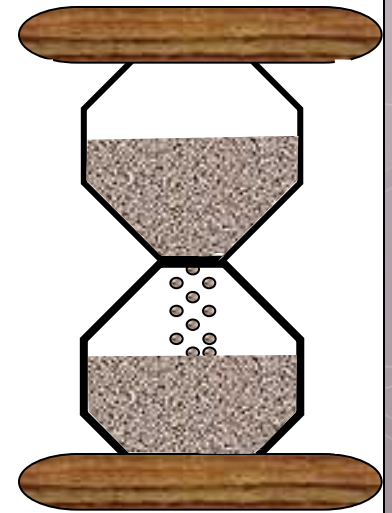


ПИСЬМА

Вопрос № 5
Покажите на карте географические
объекты:

1. Охотское море
2. Чёрное море
3. Уральские горы
4. Западно – Сибирская равнина
5. Полуостров Камчатка

ОТВЕТ



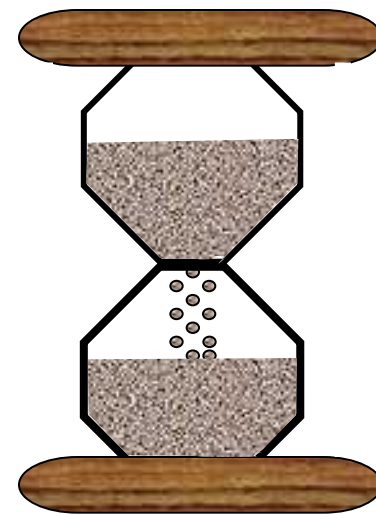
Ответ на вопрос № 5



ПИСЬМА

Вписать вопрос № 6
Блиц - Уральский
федеральный округ.

ОТВЕТ



Ответ на вопрос № 6

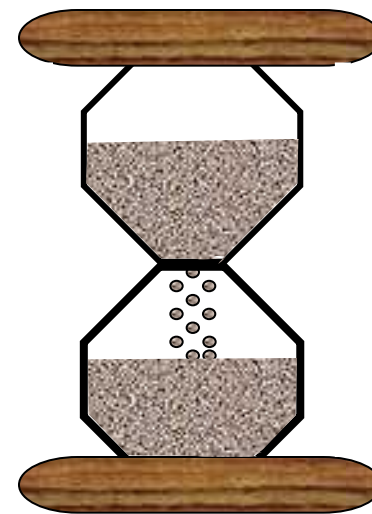


ПИСЬМА

Вопрос № 7

Блиц - Уральский
федеральный округ

ОТВЕТ



Ответ на вопрос № 7

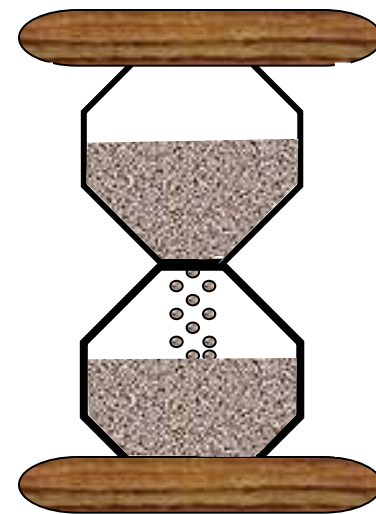


ПИСЬМА

Вопрос № 8

Блиц - Уральский
федеральный округ

ОТВЕТ



Ответ на вопрос № 8

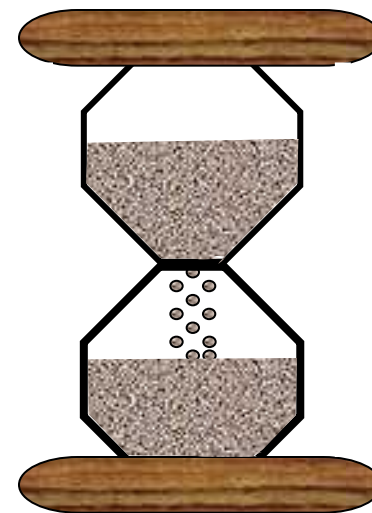


ПИСЬМА

Вопрос № 9

Блиц - Уральский
федеральный округ

ОТВЕТ



Ответ на вопрос № 9

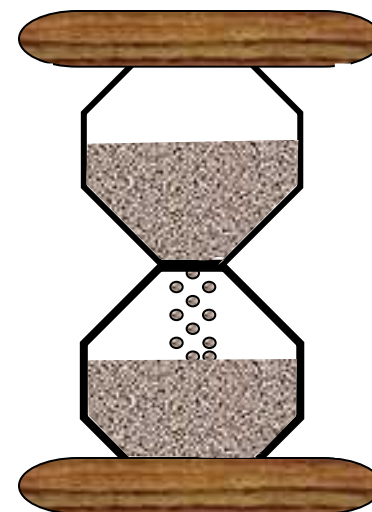


ПИСЬМА

Вопрос № 10

Блиц - Уральский
федеральный округ

ОТВЕТ



Ответ на вопрос № 10

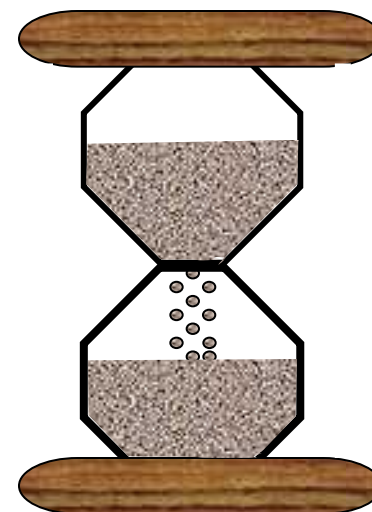


ПИСЬМА

Вопрос № 11

Блиц - Уральский
федеральный округ

ОТВЕТ



Ответ на вопрос № 11



ПИСЬМА

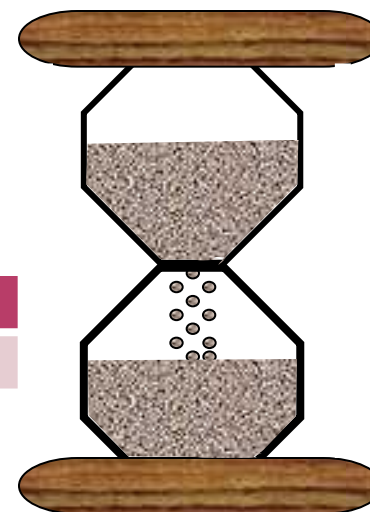
Вопрос № 12

Это озеро находится почти в центре огромного материка Евразия. Оно окружено со всех сторон высокими хребтами и раскинулось на 636 км длины и до 80 км ширины. В озеро впадает 336 постоянных рек и ручьев, а вытекает единственная река – Ангара. Ни одно из озер мира не сравнится с ним по глубине, чистоте и запасам пресной воды, уникальности и разнообразию природного мира. От красоты и масштабов этого памятника природы захватывает дух.

Л	923+21
А	254+93
К	198-99
Б	807-473
Й	538+236

334	347	774	99	347	944

ОТВЕТ



Ответ на вопрос № 12

Байкал



ПИСЬМА

Источники материалов:

<http://www.everythingpreschool.com/coloringpages/slides/envelope.jpg> - рисунок конверта;

<http://sumy-school-17.at.ua/so5va.jpg> - рисунок совы.

Разноцветные конверты оформлены в Paint.

Песочные часы (авторы: Груздева К. П. и Иванова А. Ю., учителя школы-интерната №22 Невского района города Санкт-Петербурга).