



*Интеллектуальная игра  
по математике в 1 классе*

# Самый умный

Составитель:  
**Попова Людмила Федоровна,**  
учитель начальных классов,  
МАОУ «СОШ № 28» г. Ревда





*В школу ходим мы не зря,  
Без наук никак нельзя!  
В жизнь неграмотным войдешь  
За минуту пропадешь.*

*Чтоб ошибок избежать,  
Ум свой надо развивать.  
А в игре проверить можно  
Просто будет или сложно.*




5  
Б




## Быстрый счёт

$$10 - 2 + 3 - 4 + 7 - 5 + 6 - 4 - 5 + 6 = 12$$



# КОТ В МЕШКЕ




Двое учеников прошли от  
дома до школы 100 метров.  
Сколько прошёл каждый?




100 метров

**Когда гусь стоит на двух  
ногах, то весит четыре  
килограмма . Сколько будет  
весить гусь, когда встанет на  
одну ногу?**

**4 кг**



**Сидят белки на ветках, против  
каждой белки – две белки.  
Сколько их всего?**



**3**

**Батон разрезали на три  
части. Сколько сделали  
разрезов?**

**2**




**Бублик разрезали на три  
части. Сколько сделали  
разрезов?**

**3**





**Мне навстречу бежали  
поросята: один впереди двух,  
один между двух и один  
позади двух. Сколько всего  
было поросят?**



**3**

**Ира живет на третьем этаже.  
Когда она идёт на улицу, то с  
этажа на этаж спускается по  
лестнице за полминуты.  
Сколько времени тратит Ира,  
чтобы спуститься вниз?**



**1 минуту**

**У мальчика и девочки было одинаковое количество орехов. Мальчик отдал девочке 3 своих ореха. На сколько орехов стало больше у девочки, чем у мальчика?**



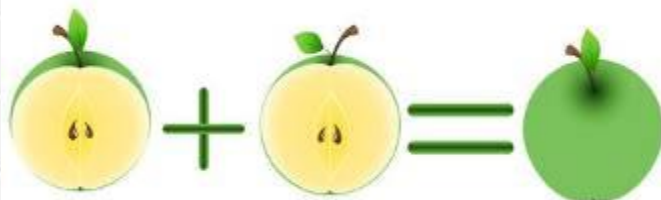
**На 6**

**Сын с отцом, да отец с сыном,  
да дедушка с внуком. Сколько  
всех?**



**Трое**

У Марины было целое  
яблоко, две половинки и  
четыре четвертинки.  
Сколько было у нее яблок?



3




**На столе стояло 3 стакана с ягодами. Вова съел 1 стакан ягод и поставил его на стол. Сколько стаканов на столе?**



**3**

**Шла баба в Москву и  
повстречала трёх мужиков.  
Каждый из них нёс по мешку, в  
каждом мешке – по коту.  
Сколько существ направлялось  
в Москву?**

**Одна баба**



**Пять лампочек тускло горели в люстре.**

**Хлопнули двери – и две перегорели.**

**Сделать нужно вам малость:**

**Сказать, сколько ламп осталось?**



**Пять**



Три мальчика, Коля, Ваня и Андрей,  
отправились в магазин.

По дороге они нашли три рубля.

Сколько бы денег нашел один Ваня,  
если бы он отправился в магазин  
один?



**Три**

Что тяжелее – один килограмм  
ваты или один килограмм железа?

**Одинаково**



Семь воробышек спустились на грядки.  
Котик-хитрюга внезапно подкрался,  
Мигом схватил одного и умчался.  
Вот как опасно клевать без оглядки!  
Сколько теперь их осталось на грядке?

**Ни одного**



**У всех 25 учеников на родительское собрание пришли папы и мамы. Мам было 20, а пап - 10. У скольких учеников на собрание пришли и папы, и мамы?**

**У пяти учеников**



## ***Ресурсы Интернет***

<https://logiclike.com/math-logic/1-klass>

<https://nsportal.ru/nachalnaya-shkola/materialy-dlya-roditelei/2015/09/16/zadaniya-po-matematike-dlya-1-klassa>

