



Интерактивная игра-презентация по математике

«По страничкам лесным страничкам»

Автор: Ситникова Татьяна
Ивановна,
Воспитатель МБДОУ №109
«Детский сад
«Петушок» комбинированного вида

г.Улан-удэ



Интерактивная игра-презентация «По лесным страничкам»

Цель: развитие элементарных математических представлений у дошкольников среднего и старшего возраста.

Задачи:

1. Закрепить состав числа в пределах 10.
2. Повторить и закрепить работу со знаками $<$, $>$, $=$.
3. Повторить соотнесение числа (количества) с цифрой.
4. Решение простых задач и примеров в пределах 20.
5. Развивать активность и самостоятельность познания.
6. Закрепить названия геометрических фигур.
7. Закрепить умение применять логическое мышление.
8. Развивать логическое мышление, память, воображения.
9. Развивать умение сравнивать, анализировать, устанавливать причинно-следственные связи.
10. Воспитывать интерес к математике.

Содержание интерактивной игры: каждый слайд содержит задание. Выбор правильных ответов в каждом задании игры осуществляется нажатием на предметные картинки. Правильные и неправильные ответы сопровождаются анимацией.

РАССТАВЬ ПРАВИЛЬНО ЧИСЛА В ОКНА ДОМИКА:

10

4

5

7

3

1

6


9

5

7



Посчитай и выбери правильный ответ:



6

11

9


8

10

7

15

Убери из ромашки лепестки с неправильным ответом:



$$8-4$$

ВЫБЕРИ ПРАВИЛЬНЫЙ ОТВЕТ:

$$12 - 8 =$$



6





4



9

Переходи к следующему заданию

Посчитай и укажи правильный ответ:





9



16

11



СРАВНИ:



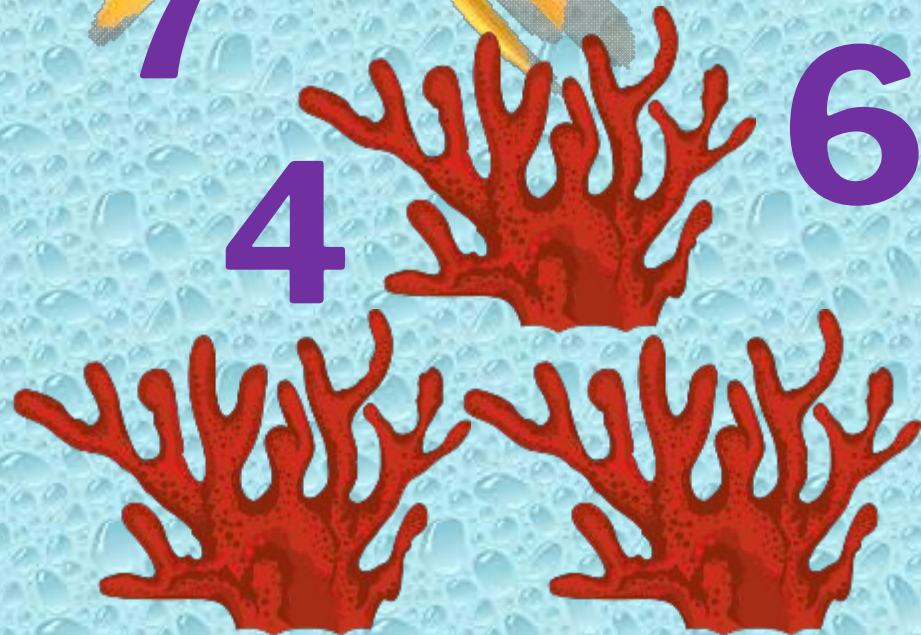


СРАВНИ:



СРАВНИ:



ПОДБЕРИ К РИСУНКУ СООТВЕТСТВУЮЩУЮ ЦИФРУ:



6

4

Посчитай и укажи пример с
Неправильным ответом!

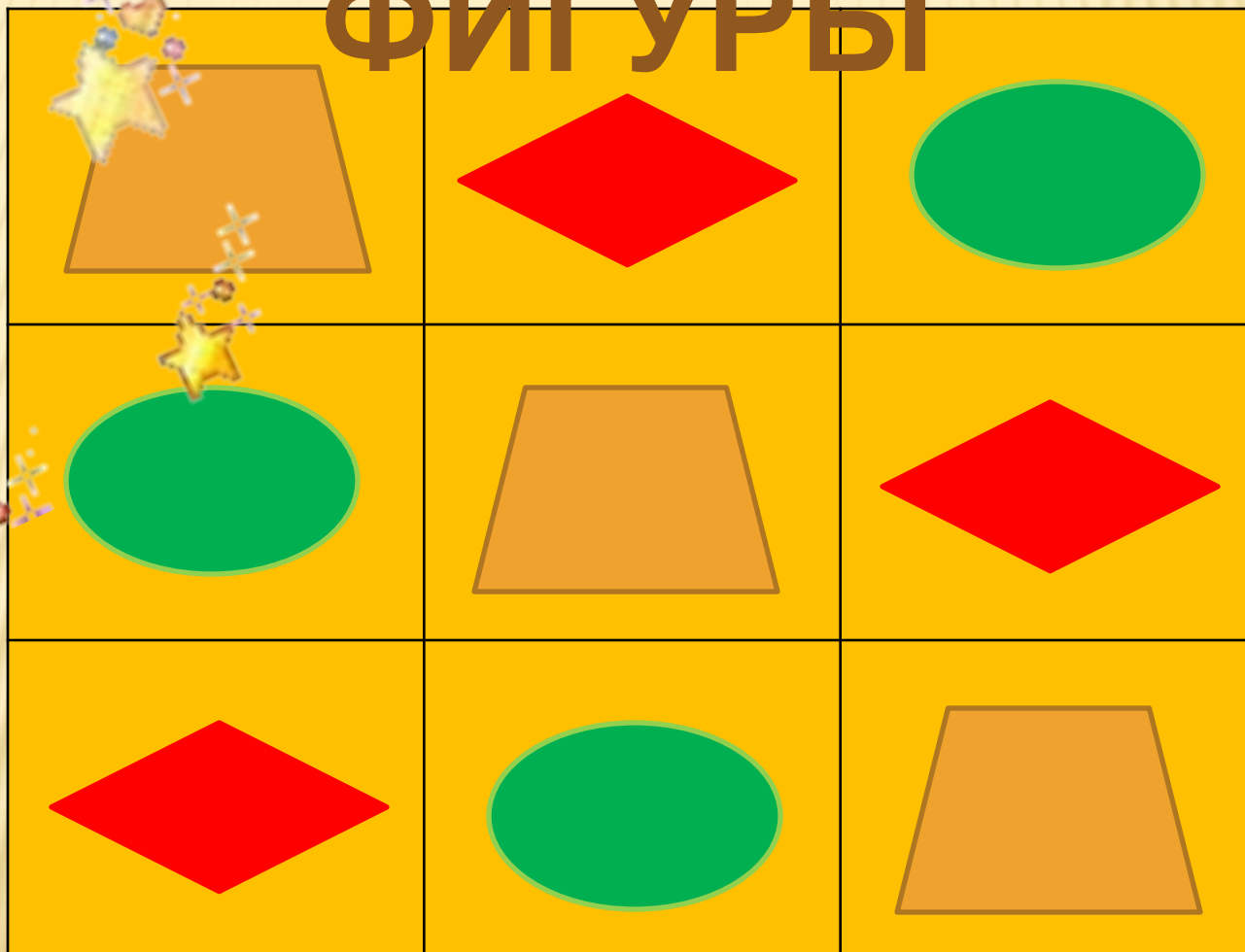
● $10 - 2 =$

● $8 + 5 = 12$










● $9 - 3 = 11$



МАГИЧЕСКИЕ ФИГУРЫ



МАГИЧЕСКИЕ ФИГУРЫ

РЕШИ ЗАДАЧУ:



У мишки было **6** клубничек

4 клубнички он отдал зайчику.



Сколько клубничек осталось у Мишки?





МОЛОДЕЦ!