



*Интерактивная игра по математическому  
развитию детей старшего  
дошкольного возраста*

**Путешествие в страну цифр**



**ВЫПОЛНИЛА  
СУЛОЕВА О.В.**

Угадай сколько лет Красной шапочке  
(посчитай количество свечей на торте  
И выбери правильный ответ)



А сколько лет Незнайке?



1

5

4

У

# а теперь посчитай сколько лет Мальвине



# А теперь попробуй решить занимательные задачи



На забор влетел петух,  
Повстречал ещё там двух.  
Сколько стало петухов?  
У кого ответ готов?

3

5

2



Подарил утятам ёжик  
Восемь кожаных сапожек.  
Кто ответит из ребят,  
Сколько было всех утят?



4



8



10



Выбери правильную цифру:  
Она больше 3, но меньше 5



6

8

4



Выбери правильную цифру  
Она меньше 10, но больше 8







КОЛОДЦЬКИЙ СІМ'ЯНИК ОРОБІНЬКА ЗАДАВАННЯ