

**Обучающая игра по
математике
для учащихся 3 класса
« Лесные загадки »**

**Подготовила
учитель начальных классов
МБОУ « ООШ №15 »
Хорева Анна Владимировна
Рубцовск, 2013г.**



Дорогой друг!

**Ты отправляешься в
увлекательное путешествие.**

**В лесу тебя ждут
удивительные встречи, новые
знакомые и интересные
задания.**

**Будь старательным и
внимательным.**

В добрый путь!

Выбери лишнее слово

лисица

собака

лошадь

корова

Верно!



- Лиса очень красивое животное, оно стройное, грациозное, с красивым мехом и длинным пышным хвостом и длинной, заостренной мордочкой.
- Самый мелкий представитель рода лисиц – фенек, по размерам он меньше домашней кошки.
- Самой крупной является обыкновенная лисица, длина ее тела может достигать до 90см, длина хвоста до 60см, масса тела до 10кг.

Лиса предлагает первое задание



Выбери правильный
ответ.

$$8 : 2 + 6 - 5 - 3 + 4$$

9


7

6

3



• Молодец!



Выбери правильный ответ.

$$(2+5) \times 2 - 20 : 5$$

8

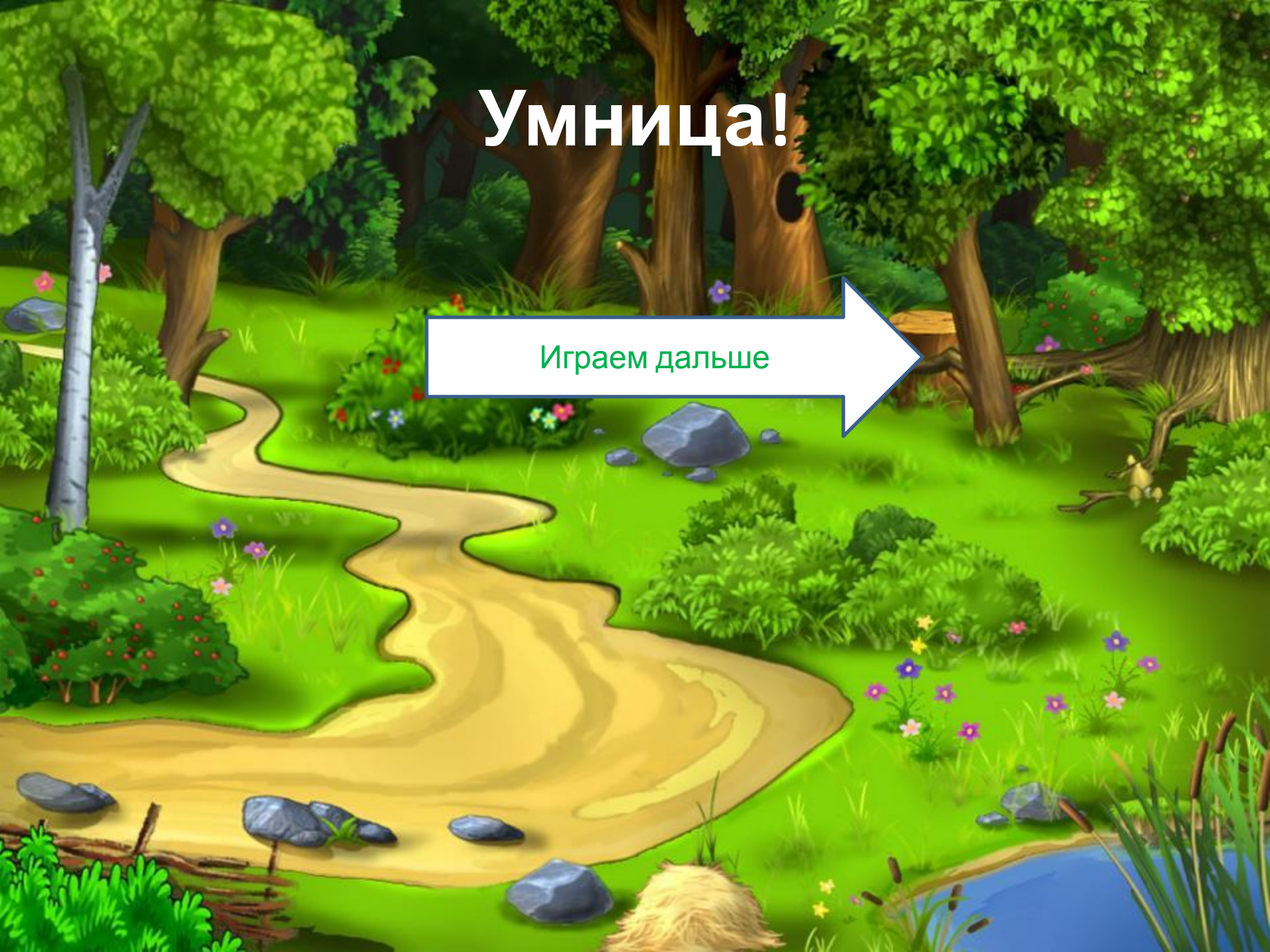
10

17

23

Умница!

Играем дальше



Выбери правильный ответ.

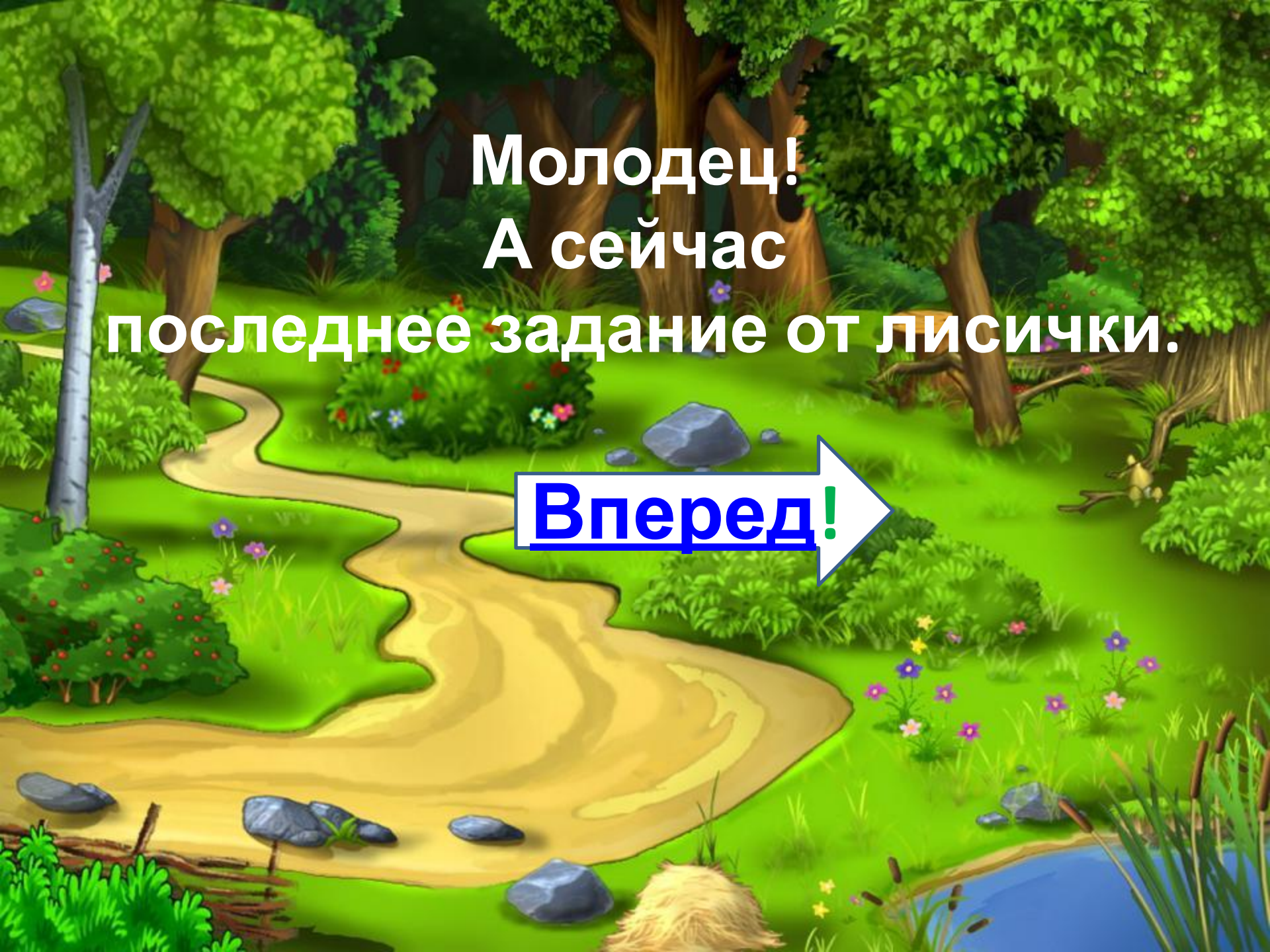
$$(12:3+16-18) \times 6$$

9

12

10

17



**Молодец!
А сейчас
последнее задание от лисички.**

Вперед!

Выбери правильный ответ.

$$(24:3-5)\times 6+6$$

24

16

30

0

Ты всё сделал правильно!
Молодец!

А сейчас реши примеры, собери слово
и узнай, кто ждет с тобой

$$2 \times 1 + 10$$

• встречи.

$$3 \times 3 + 12$$

$$30 : 3 + 3$$

$$3 \times 6 - 17$$

1

0

16

12

4

10

21

3

13

я

м

ы

а

т

ь

з

п

ц

Заяц.

- Заяц имеет отличный слух. Он плохо видит и неважно чувствует запахи, но слышит он превосходно. А ещё заяц умеет запутывать



Выбери правильное решение задачи.

- В классе 18 девочек, а мальчиков в 2 раза меньше. Сколько мальчиков в классе?

$$18-2$$

$$18 \times 2$$

$$18+2$$

$$(18:2)-4$$

$$18:2$$

$$(18-2):8$$

Верно!

В игру.



Выбери правильное решение задачи.

- В классе 18 девочек, а мальчиков на 2 меньше. Сколько мальчиков в классе?

$$18-2$$

$$18 \times 2$$

$$8+2$$

$$18:2 + 2$$

$$18:2$$

$$18:2-2$$

Верно!

В игру.



Выбери правильное решение задачи.

- Для праздника купили 18 красных шаров, а белых на 2 больше. Сколько купили белых?

$$18-2$$

$$18 \times 2$$

$$18+2$$

$$18:2 + 2$$

$$18:2$$

$$18:2-2$$

Верно!

В игру.



Выбери правильное решение задачи.

- Для праздника купили 18 пирожных и 2 торта. Сколько всего купили сладостей?

$$18-2$$

$$18 \times 2$$

$$18+2$$

$$18:2 + 2$$

$$18:2$$

$$18:2-2$$

Верно!

В игру.



Выбери правильное решение задачи.

- В магазине 18 кукол, машинок в 2 раза меньше чем кукол, а мячей на 2 больше, чем машинок. Сколько в

$18-2$

и?

18×2

$18+2$

$18:2 + 2$

$18:2$

$18:2-2$



Всё верно!

- А сейчас новая встреча.

- Реши примеры, собери слово и узнай, кто ждет с тобой
 - встречи.

$$(9-2) \times 2$$

$$5 \times (1+1)$$

$$2 \times 8 - 15$$

$$4:4 \times 2$$

14

0

16

12

2

10

21

1

13

К

М

Ы

а

В

О

З

Л

Ц

Волк.

- Волк- хищник. Он живет семьей, ухаживает только за своей волчицей-женой, и сам волк-отец воспитывает своих детей-



К заданиям

Выбери правильный ответ.

$$7 \times 2$$

16

14

48

36

12

8

42

81

56

28

21

32

72

63

9

7

5

54

6

8



Молодец!

К заданиям

Выбери правильный ответ.

7×8

16

14

48

36

12

8

42

81

56

28

21

32

72

63

9

7

5

54

6

8



Молодец!

К заданиям

Выбери правильный ответ.

$$42:7$$

8

9

15

21

3

17

4

28

9

0

6

1

81

35

5



Молодец!

К заданиям

Выбери правильный ответ.

$$56:7$$

8

9

15

21

3

17

4

28

9

0

6

1

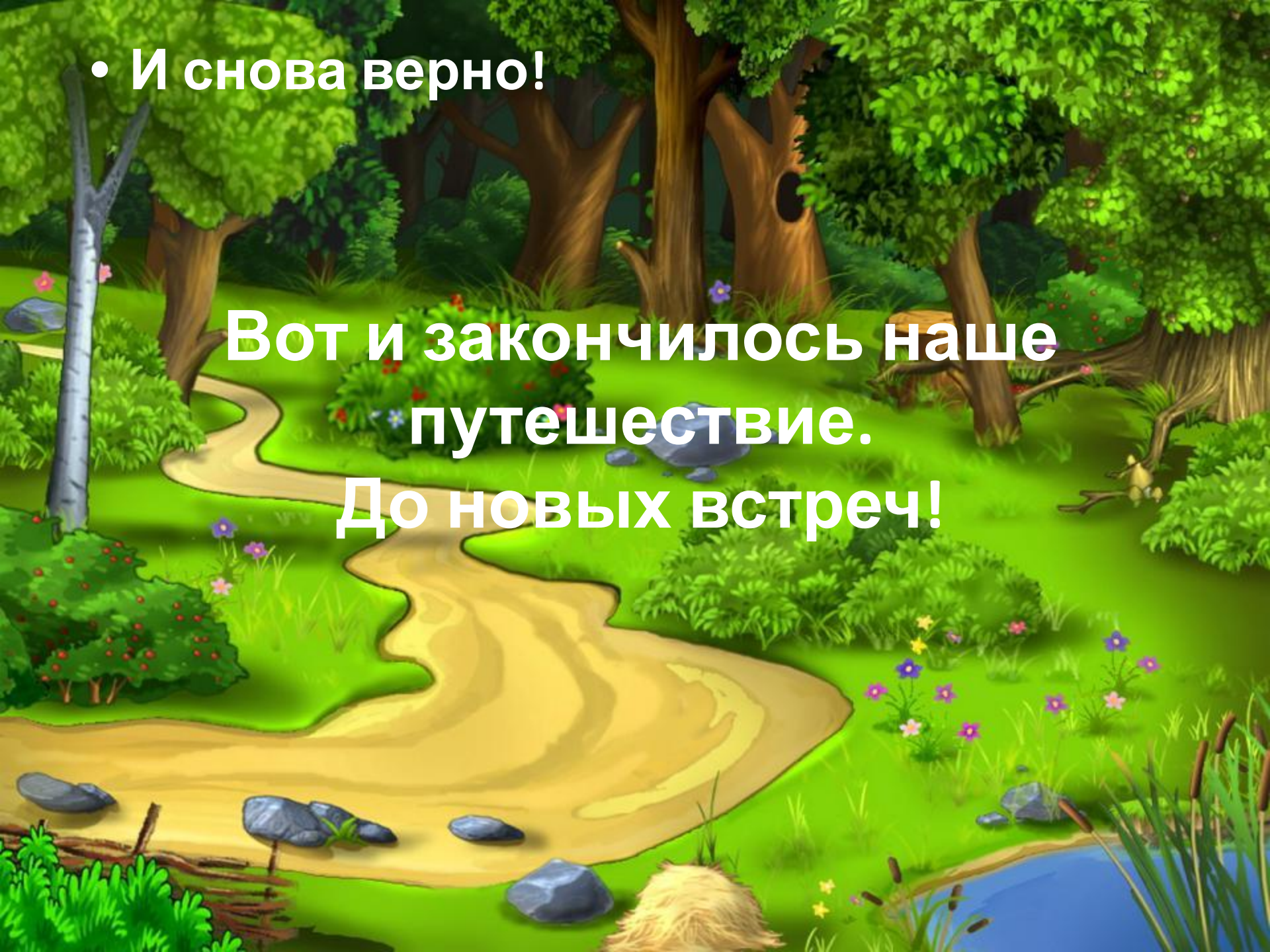
81

35

5

- **И снова верно!**

**Вот и закончилось наше
путешествие.
До новых встреч!**



Используемые ресурсы

1. Фон <http://4put.ru/pictures/max/46/144272.jpg>
2. Лиса <http://www.download3k.com/screenshots/33/6615/0.png>
3. Заяц http://icon.s.photosight.ru/img/3/347/2833319_large.jpeg
4. Волк <http://aboutwolves.narod.ru/images/zwierzeta-wilki-1680-1260-3653.jpg>

