





# *Занимательная математика*

Подготовила воспитатель:  
Касаткина Н.В.





# *Назови день недели*



Продолжи счет.  
Впиши пропущенные числа.

1		3		5	6		8		10
10		8	7			4	3		

## Реши логические задачи:

1. Коля вылепил 4 солдат, а Слава — 1. Сколько всего солдат вылепили ребята?

2. В корзине было 6 белых грибов и 3 подберезовика. Сколько всего было грибов?

3. В корзине лежало 6 грибов, 1 гриб оказался несъедобным и его выбросили. Сколько грибов осталось?

4. На кусте распустилось 5 роз. Мама срезала 3 штуки, сколько осталось?

5. В вазе стояло 3 розы. Мама срезала еще 2. Сколько роз стало в вазе?

6. На полке стояло 5 красных чашек и 1 синяя. Сколько чашек стояло?

7. На кусте созрело 8 помидоров. Четыре помидора сорвали. Сколько осталось?

5. Какие геометрические фигуры есть на рисунке ?

• Какие числа спрятались в «окошках»?










**ПРОВЕРЬ!**

4. Какие равенства можно записать к каждому рисунку?




$$4 + 2 = 6$$

$$6 - 4 = 2$$

$$6 - 2 = 4$$

$$2 + 4 = 6$$

4. Какие равенства можно записать к каждому рисунку?



$$4 + 2 = 6$$

$$4 + 2 = 6$$


$$6 - 4 = 2$$

$$6 - 2 = 4$$

$$2 + 4 = 6$$



4. Какие равенства можно записать к каждому рисунку?



$$4 + 2 = 6$$

$$2 + 4 = 6$$


$$4 + 2 = 6$$

$$6 - 4 = 2$$

$$6 - 2 = 4$$

$$2 + 4 = 6$$

4. Какие равенства можно записать к каждому рисунку?



$$4 + 2 = 6$$

$$2 + 4 = 6$$

$$6 - 4 = 2$$

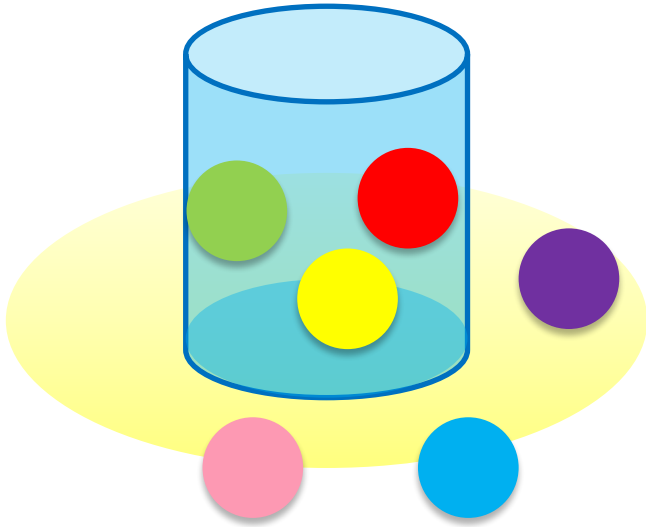
$$4 + 2 = 6$$

$$6 - 2 = 4$$

$$2 + 4 = 6$$

$$6 - 4 = 2$$

4. Какие равенства можно записать к каждому рисунку?



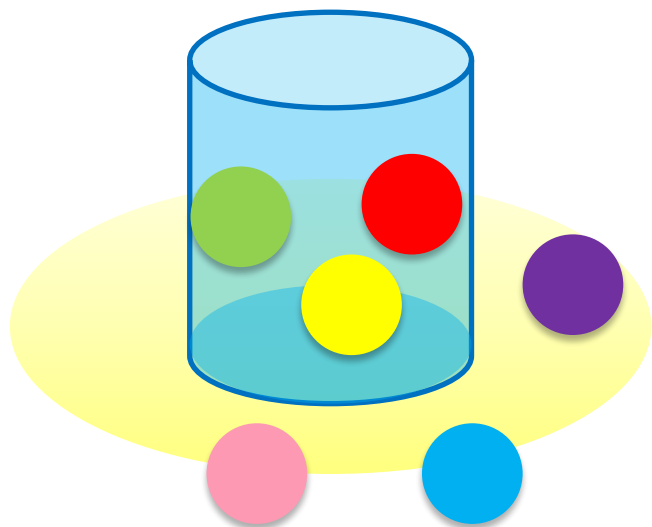
$$3 + 3 = 6$$

$$6 - 3 = 3$$

$$6 - 2 - 1 = 3$$

$$2 + 1 + 3 = 6$$

4. Какие равенства можно записать к каждому рисунку?



$$3 + 3 = 6$$

$$3 + 3 = 6$$

$$6 - 3 = 3$$

$$6 - 2 - 1 = 3$$

$$2 + 1 + 3 = 6$$



Молодцы!

Спасибо!