



Волшебный счет

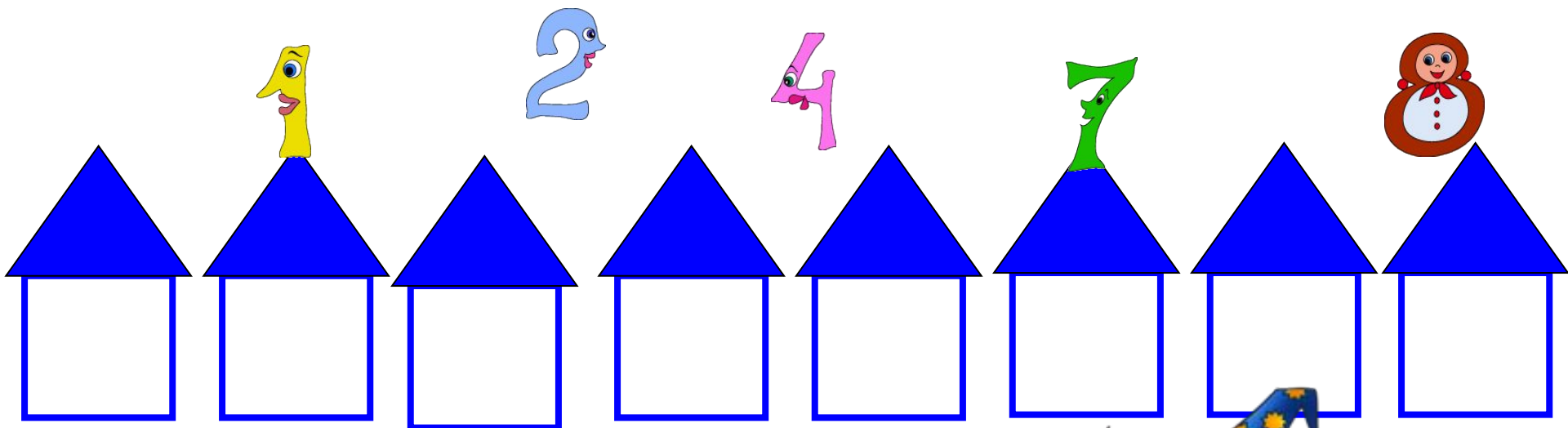
Интерактивные задания для устного счета
для детей средней группы



Дорогие друзья!
Приглашаю вас в
Страну Математики.
Вас ждут волшебные
задания.
Удачи!



Помоги Волшебнику расселить числа
в домики по возрастанию:

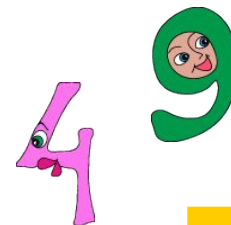
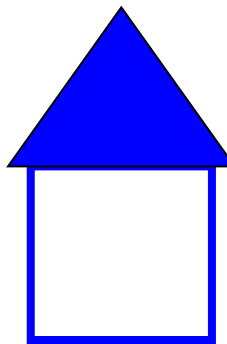


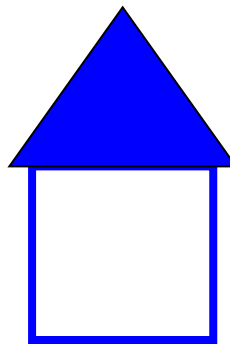
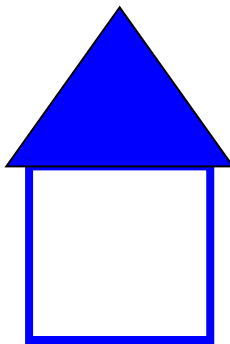

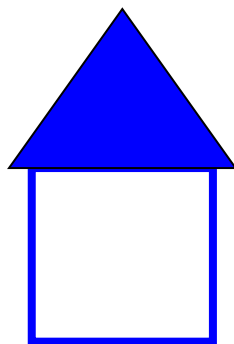
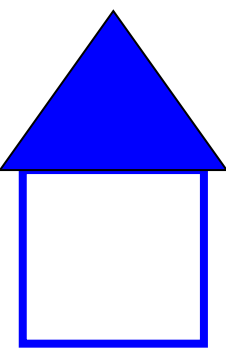


Помоги Волшебнику расселить
числа в домики по убыванию:

7

5

3



Назови «соседей» числа

8 9 10

5 6 7

3 4 5

7 8 9

1 2 3

6 7 8


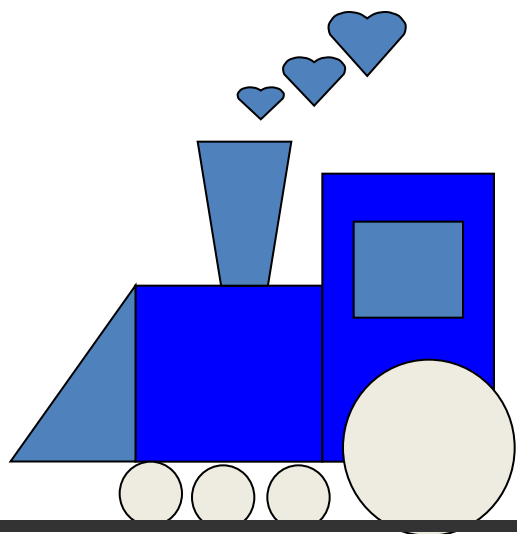




Ух
здорово!



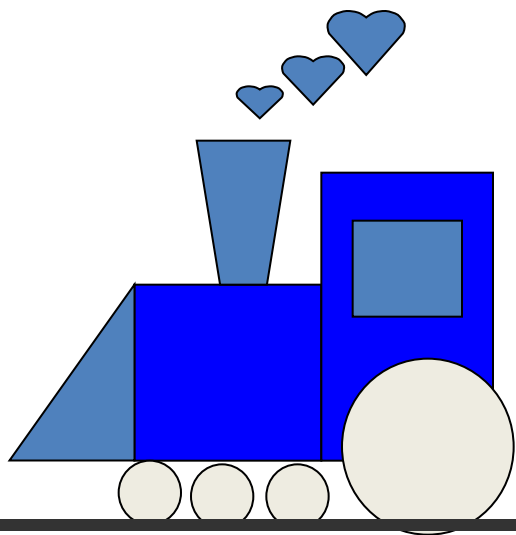
Найди номер последнего вагона



1 2 3 4 5 6 7 8 9 10



Найди номер последнего вагона



$$5 - 3 = \square$$

1 2 3 4 5 6 7 8 9 10



Спасибо!




Какие фигуры спрятаны в сундучке?

Ни угла, ни стороны,
А родня – одни блины.



круг



Выбери правильный ответ:

**Большой рейсовый
ковер-самолёт вмещает
5 пассажиров. Сколько
пассажиров может
перевезти ковер-самолет
за два рейса?**



Выбери правильный ответ:

У чародея 4 колдовских книг и 3 волшебные палочки. На сколько у чародея больше книг, чем волшебных палочек?



Выбери правильный ответ

У бабы Яги на носу 3
бородавки, а у Кощея
Бессмертного – 2
бородавки. Сколько
бородавок теснится на
носу у Кощея
Бессмертного?

7

5

9




Какие фигуры спрятаны в сундучке?

Злая рыба, хвост-лопата,
Откусила полквадрата –
Целый угол, верь не верь!
Кто ж он, бедненький, теперь?



треугольник




Какие фигуры спрятаны в сундучке?

Кубик в краску окуни,
Приложи и подними.
Вася десять раз так сделал—
Отпечатались они.



квадраты



Молодцы!

