



Интерактивный тест №1 по математике 4 класс


*Учитель начальных
классов*

МБОУ гимназии

*г. Узловая Тульской
области*

Чижова И.В.





Укажи число, в котором 8
десятков тысяч, 5 сотен и 3
десятка

1). 800 530

2). 8 530

3). 80 530

4). 853



1

2

3

4





Укажи пример, в котором четвёртое действие - умножение

1). $2\ 570 \cdot 90 - 69\ 680 : 40 \cdot 2$

2). $48\ 024 : 4 \quad 3 + 254 \cdot 4$

3). $27\ 900 : (95 - 5) - 1\ 312 : 82 \cdot 5$

4). $1\ 900 - (3\ 500 : 70 + 430) \cdot 2 + 378$



1

2

3

4





Укажи самое большое число,
обозначающее время.

- 1). 3 ч 40 мин
- 2). 240 мин
- 3). 1 сут 6 ч
- 4). 26 ч



1

2

3

4





Укажи значение выражения

$5 \text{ т } 260 \text{ кг} \cdot 4$

- 1). 2 104 кг
- 2). 21 т 400 кг
- 3). 5 040 кг
- 4). 21 040 кг



1

2

3

4





Найди сумму чисел 428 967 и 39
204.

1). 389 763

2). 486 171

3). 467 171

4). 468 161




1

2

3

4





Укажи при каком значении X
выражение $72\,007 - X$ принимает
наибольшее значение.

- 1). 1
- 2). 72 007
- 3). 0
- 4). 72 000




1

2

3

4





Укажи лишнюю единицу
измерения.

- 1). 1 км^2
- 2). 1 дм
- 3). 1 м^2
- 4). 1 см^2



1

2

3

4





Вставь число:

. 1 000 = 900 000

1). 9 000

2). 90

3). 900

4). 90 000




1

2

3

4





Максим купил 17 открыток по одинаковой цене, а Женя 14 открыток по такой же цене. Максим за всю покупку заплатил на 45 рублей больше, чем Женя. Сколько заплатил каждый мальчик?

- 1). 765 и 720
- 2). 255 и 210
- 3). 238 и 193
- 4). 170 и 125



1

2

3

4





Юля – племянница Сони. Лариса -
подруга Сони. Кто из них тётя
Юли?

- 1). Юля
- 2). Соня
- 3). Лариса




1

2

3





В квадрате со стороной 6 см
проведена диагональ. Найди
площадь каждого треугольника.

- 1). 32 см^2
- 2). 18 см^2
- 3). 24 см^2
- 4). 6 см^2



1

2

3

4





На листе написаны цветными
карандашами слова:

ЗИМА

ЛЕТО

ВЕСНА

ОСЕНЬ

Красное слово левее зелёного, чёрное
ниже синего и правее зелёного. Какой
цвет у слова «ЗИМА»?

1). красное 2). зелёное 3). синее 4).
чёрное



1

2

3

4

