



«Сложение и вычитание натуральных чисел»

Задания для устной и письменной работы.

Математика 5 класс.



Автор работы:
учитель математики г.Казань
Республика Татарстан
Хаярова Карина Халиловна.



Чему равна разность
 $700\ 204 - 43\ 965$?

657
239

666
239

656
239

657
339



Чему равно значение суммы
 $562\,793 + 41\,628$?

603
421

604
421

604
321

603 411



В виде какого равенства можно
записать то, что число a в 5 раз меньше
числа b ?

$$b = 5a$$

$$a = 5b$$

$$a - 5 = b$$

$$b - a = 5$$



Чему равен корень уравнения
 $(215 - x) - 191 = 9$?

133

397



15

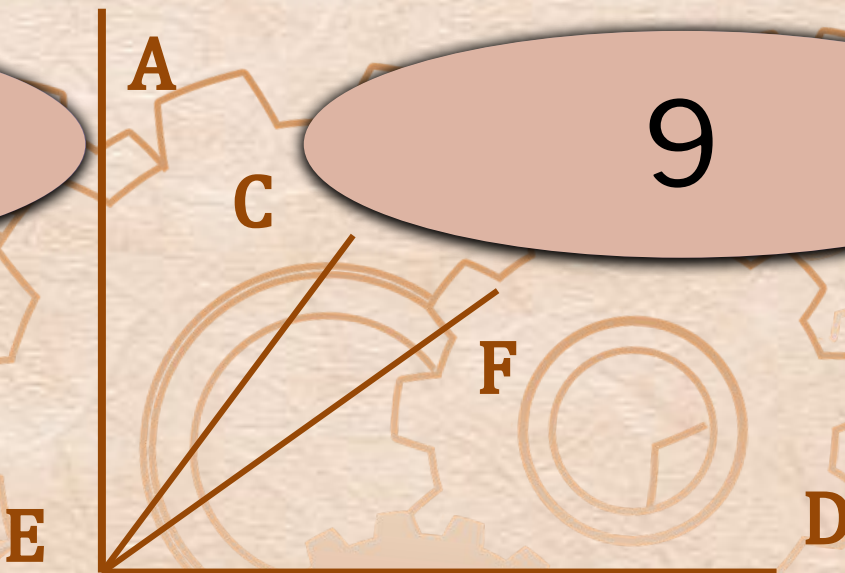
415



на рисунке, проведены два луча ЕС и ЕF так, что $\angle AEF=57^\circ$. $\angle CED=48^\circ$. Вычислите

105

9



75

15



Одна сторона прямоугольника равна 8 см, а соседняя на 7 см больше. Чему равен периметр прямоугольника?

30

46

18

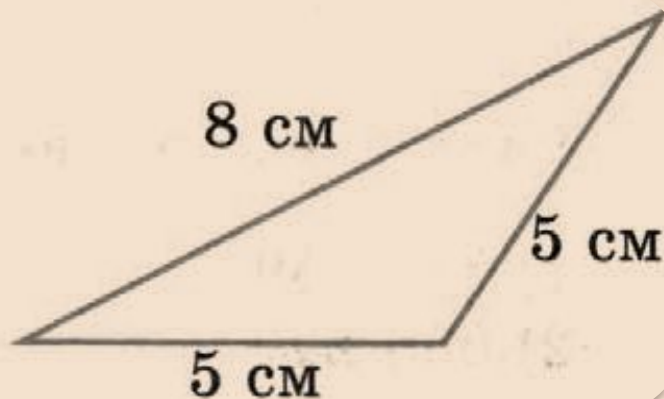
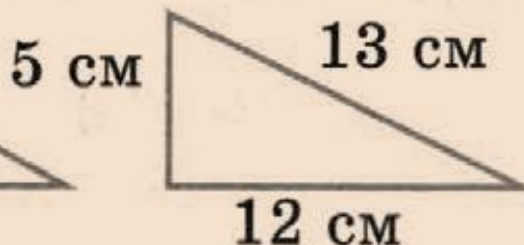
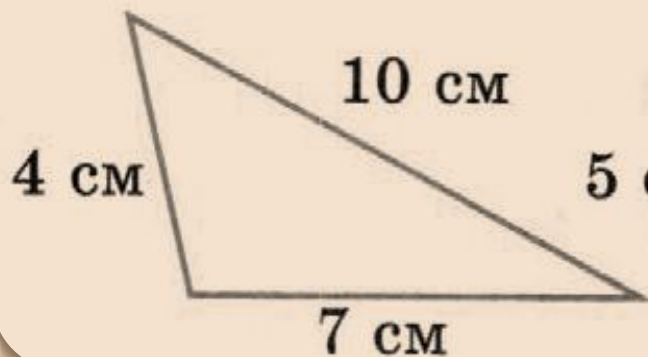
32



Определите, какой из треугольников является равнобедренным, и укажите его периметр.

18

21



30

32



Луч $КС$ является биссектрисой угла $АКР$,
 $\angle МКС = 128^\circ$. Вычислите градусную меру угла
 $АКР$.

99

52



104

101



Решите уравнение
 $(x - 34) + 15 = 61$

95

80

46

49



На отрезке АВ длиной 23 см отметили точки С и D так, что $AC=15$ см, $DB=2$ см.
Чему равна длина отрезка CD?

5

17

18

6



Найдите m по формуле $m=45-4n$ при $n=7$

41

28

17

73



Вычислите периметр пятиугольника,
стороны которого равны 7 см, 9 см, 6 см,
10 см и 12 см.

44

38

32

35



Упростите выражение

$$17 + (m + 43)$$

$$50 + m$$

$$60 - m$$



$$60 + m$$

$$8 + m$$



Одна из сторон четырёхугольника равна 5 см, вторая в 2 раза больше первой, а третья- на 2 см меньше второй и на 3 см больше четвёртой. Вычислите периметр четырёхугольника.

34

28

25

41





Источники

[https://easyen.ru/load/shablony prezentacij/raznye shablony/shablon animirovannaja sorbonka/529-1-0-51388](https://easyen.ru/load/shablony_prezentacij/raznye_shablony/shablon_animirovannaja_sorbonka/529-1-0-51388) --анимированная сорбонка шаблон

<https://i.va-webdesign.com/images/blank-number-line-png.png> --ось

https://krot.info/uploads/posts/2020-02/1580842603_9-p-foni-s-robototekhnikai-19.jpg --фон

<https://avatars.mds.vandex.net/get-pdb/1651893/3696f7e6-e2af-47be-8498-5caf72edc9f8/s1200?webp=false> -Фиксик

<https://avatars.mds.vandex.net/get-pdb/1899556/cdf0f862-edf5-4f65-bc5b-f36c7dafaab1/s1200?webp=false> -- Фиксик

https://kartinkinaden.ru/uploads/posts/2020-07/1595726244_29-p-fon-fiksiki-46.jpg --все

https://3.bp.blogspot.com/-OXaz5MqUQ_o/WUQduC_bP-I/AAAAAAAAABlds/RSI_loiH8TgaGfQY4nEXdo4bVqpgiBqSQCKgBGAs/s1600/fixiki_46.png -- Фиксик

<https://avatars.mds.vandex.net/get-pdb/1748372/ad6105a2-4a2e-4f8d-bd79-9826980233a5/s1200?webp=false> -- Фиксик

https://2.bp.blogspot.com/-J92JP_hPdHk/WUQduBi6NoI/AAAAAAAAABlds/cv4HJdj_wjEWBHPiJAD9d3QPFT26yA70QCKgBGAs/s1600/fixiki_9.png -- Фиксик

https://ds04.infourok.ru/uploads/ex/0fb2/00138429-60b29c2a/hello_html_741f6edc.png -- Фиксик

http://raskraski-tut.ru/pages/images_fiksiki/a1_nolik.png -- Фиксик

<https://banner2.cleanpng.com/20180711/elq/kisspng-toy-educational-game-tabletop-games-expansion-s-c-5b4613b523cd44.7801864915313192211467.jpg> -- Фиксик

<https://ds04.infourok.ru/uploads/ex/0bb8/0007723f-aef0c48d/img8.jpg> -- Фиксик

<http://www.edu54.ru/upload/iblock/bfb/Geroi-multika-nachnut-obuchat-detey-russkomu-yazyku.jpg> --за партами

**Шаблон выполнила Башкирова Джанетта Геннадьевна, преподаватель
хорового класса МБУ ДО Озерненская ДШИ**

