



*Интерактивный  
тренажёр*

# **«КОТЁНОК ГАР»**

*Математика – 1 класс  
Связь между суммой и слагаемыми*

Автор: Зурнаджиева Светлана Павловна,  
учитель начальных классов  
МБОУ «СОШ» с. Койгородок Республики  
Коми




**Ребята!**

*Помогите нам слепить  
снеговика!*

*Для этого дополните  
записи так, чтобы к  
каждому примеру на  
сложение получилось  
по два примера на  
вычитание.*

*Проверить себя можно,  
кликаая по окошкам.*

**Удачи!**



$$3 + 2 = \square$$

$$5 - 3 = \square$$

$$5 - 2 = \square$$


$$5 + 1 = \square$$

$$6 - 1 = \square$$

$$6 - 5 = \square$$







$$3 + 4 = \square$$

$$7 - 3 = \square$$


$$7 - \square = \square$$

$$1 + 8 = \square$$

$$9 - 1 = \square$$

$$9 - \square = \square$$





$$6 + 3 = \square$$

$$\square - 6 = \square$$


$$9 - \square = \square$$

$$5 + 2 = \square$$

$$\square - 2 = \square$$

$$7 - \square = \square$$






$$7 + 2 = \square$$
$$\square - 2 = \square$$
$$\square - \square = \square$$

$$1 + 6 = \square$$
$$\square - 1 = \square$$
$$\square - \square = \square$$








$$4 + 5 = \square$$
$$\square - \square = 4$$
$$\square - \square = \square$$

$$7 + 1 = \square$$
$$\square - \square = 1$$
$$\square - \square = \square$$





$$\square + 6 = \square$$

$$8 - \square = 6$$

$$\square - \square = \square$$

$$\square + 5 = \square$$

$$8 - \square = 5$$

$$\square - \square = \square$$







## Интернет-источники:

Котёнок Гав

Котёнок Гав 2

Шарик

Девочка

Снеговик

Фон

Мелодия

Анимированная сорбонка (Покровкова Н.Н.)