




Сравни величины.

Единицы массы

Подготовила
учитель начальных классов
МОУ «Ракитянская СОШ № 1»
п. Ракитное Белгородской обл.
Латышева
Татьяна Анатольевна



$$4т8ц.\neq.48ц$$

Выбери знак:

< = >

Помогите Маше
справиться с заданиями



Далее



14ц20кг. \geq 142кг

Выбери знак:

$>$ $=$ $<$



220ц. > .20т2ц

Выбери знак:

< = >



16т8ц. > . 16т80кг

Выбери знак:

> = <



Далее

35ц. < . 5т3ц

Выбери знак:

> = <



Далее

23т.≠.230ц

Выбери знак:

< = >



Далее

3021г. = 3кг21г

Выбери знак:

> = <



19кг50г.≤.19500г

Выбери знак:

< = >




Далее



7ц. < 712кг

Выбери знак:

> = <



Далее

2т.≤.80ц

Выбери знак:

> = <



Далее

7кг250г. \geq 7025г

Выбери знак:

$>$ $=$ $<$



$3\text{т}2\text{ц}\neq 3200\text{кг}$

Выбери знак:

$<$ $=$ $>$



Далее



2 кг. > 1987 г

Выбери знак:


> = <



3ц20кг. \geq 32кг

Выбери знак:

$<$ $=$ $>$



550ц. ≥ 50т5ц

Выбери знак:

> = <



$2\text{т}700\text{кг.} \approx 27\text{ц}$

Выбери знак:

$<$ $=$ $>$



Далее



$4\text{кг}7\text{г} \geq 4005\text{г}$

Выбери знак:

$>$

$=$

$<$



Далее



6060г. > 6кг6г

Выбери знак:

> = <



Далее



9ц. < 1т

Выбери знак:

> = <




Далее 





Спасибо!





ИСТОЧНИКИ:

https://img0.liveinternet.ru/images/attach/c/7/97/468/97468560_hjkghk.png

https://forum.sibmama.ru/usrpx/143108/143108_800x800_PsCXnNQFZ4g884192ca.jpg

https://kartinkin.com/uploads/posts/2021-01/1611834549_4-p-foni-s-lesnimi-polyanami-4.jpg

https://phonoteka.org/uploads/posts/2021-04/1618475871_6-p-fon-masha-i-medved-7.png

https://babysat.ru/image/cache/catalog/easyphoto/23000_24000/23083/kukla-simba-masha-v-shkol

<http://4.bp.blogspot.com/-KZ7ZxfCwic/Vge2grYWZxI/AAAAAAAAA7k/mbwS1tAuZec/s1600/1Sent.jpg>

<http://4.bp.blogspot.com/-KZ7ZxfCwic/Vge2grYWZxI/AAAAAAAAA7k/mbwS1tAuZec/s1600/1Sent.jpg>

pg

