

The background of the slide is an underwater scene. It features a large yellow starfish on the left, a piece of porous coral on the right, and various green seaweeds and purple sea anemones scattered throughout. The water is a light blue-green color with many small white bubbles and light rays filtering through.

Интерактивный тренажёр
«**Ч**исла от **1** до **100**.
Сложение и **в**ыч**и**тание»

Часть 1
Математика
3 класс

Автор презентации: Фокина Лидия Петровна,
учитель начальных классов МКОУ «СОШ ст. Евсино»
Искитимского района Новосибирской области
2019



Дорогой друг!

Прочитай задание
и мышкой выбери правильный ответ.
Если ты ответишь правильно,
то перейдёшь к следующему заданию.

Желаю удачи!

80

48

67

86

100

11

32

55

71

99

Число 64 увеличь на 16



23

66

60

84

10

100

36

52

79

93

Число 75 уменьши на 9



24

41

63

88

10

17


30

55

57

91

Найди сумму чисел 49 и 8



25

45

67

86

22

18


30

58

76

91

На сколько число 54 больше,
чем число 32?



29

45

65

88

10

11

76

50

73

97

Сколько сантиметров в 7 дм 6 см?

27

48

69

83

10

26

33

53

76

91

Найди разность чисел 34 и 8



21

42

6

81

10

1


33

8

7

9

Первое звено ломаной 7 см, второе - 10 см. Чему равно третье, если длина ломаной равна 25 см?



21

4

6

13

10

12


35

57

7

9

Какое число надо вычесть из 60,
чтобы получить 47?



24

64

62

81

10

19

63

46

71

96

При каком значении x равенство
 $x - 54 = 8$ верно?



25

54

63

81

10

17


53

56

77

55

На одной полке стоит 37 книг,
а на другой – 40. Из них выдали
22 книги. Сколько книг осталось?





Повторить ещё раз!



Информационные источники

Фон

Пузырь

Звуковой файл

Рыбка 1 2 3 4 5 6 7 8 9 10

