

Интерактивный тренажёр «Числовые прятки»-2

2 класс

Автор: Зобнина Ирина Евгеньевна
учитель начальных классов ШЛ № 101
г.Караганды




Вперёд

$$\diamond + 15 = 73$$

$$\triangle + \diamond = 90$$

$$\triangle = \text{?}$$

Вперёд



$$\diamond + 32 = 47$$



$$\triangle + \diamond = 100$$




=



Вперёд

 $- 2 = 16$


 $- \text{diamond} = 72$

 $=$ 

Вперёд

53

—



=

4



—



=

5



=



Вперёд

$$\triangle + 22 = 41$$

$$\bigcirc + \triangle = 78$$

$$\bigcirc = \text{?}$$

Вперёд

$$\triangle + 23 = 61$$

$$\bigcirc - \triangle = 32$$

$$\bigcirc = \text{?}$$

Вперёд

$$\triangle + 27 = 54$$

$$\bigcirc + \triangle = 60$$

$$\bigcirc = ?$$


Вперёд



$$+ 18 = 45$$



$$+ \bigcirc = 56$$





Выйти

Источники информации:

<https://i.pinimg.com/564x/fc/9f/a0/fc9fa099d2baeadd0bac76a122c73c08.jpg>
http://clipart-library.com/new_gallery/374601_sunflower-clipart-png.png
https://www.pngitem.com/pimgs/m/42-422230_sun-clipart-png-image-free-download-searchpng-pt.png

