

# Интерактивный тренажёр «Числовые прятки» 2 класс

Автор: Зобнина Ирина Евгеньевна  
учитель начальных классов ШЛ № 101  
г.Караганды



Вперёд

$$\triangle + 11 = 25$$

$$\square + \triangle = 30$$

$$\square = ?$$

Вперёд

$$\triangle + 13 = 41$$

$$\square - \triangle = 7$$

$$\square = ?$$

Вперёд

$$\triangle + 21 = 39$$

$$\triangle - \square = 4$$

$$\square = ?$$

Вперёд


$$- 17 = 31$$



$$+ \square = 58$$


$$=$$



Вперёд


 $+ 19 = 31$

 $+ \text{pentagon} = 40$

 $=$ 


Вперёд


$$+ 11 = 52$$


$$- \text{pentagon} = 21$$


$$= \text{sunflower with ?}$$

Вперёд



$$+ 36 = 49$$




$$+ \text{pentagon} = 54$$





Вперёд



$$+ 10 = 33$$



$$+ \bigcirc = 65$$





Выйти

### Источники информации:

<https://i.pinimg.com/564x/fc/9f/a0/fc9fa099d2baeadd0bac76a122c73c08.jpg>  
[http://clipart-library.com/new\\_gallery/374601\\_sunflower-clipart-png.png](http://clipart-library.com/new_gallery/374601_sunflower-clipart-png.png)  
[https://www.pngitem.com/pimgs/m/42-422230\\_sun-clipart-png-image-free-download-searchpng-pt.png](https://www.pngitem.com/pimgs/m/42-422230_sun-clipart-png-image-free-download-searchpng-pt.png)

