



Интерактивный тренажёр «Листопад»

по теме «Табличное умножение и деление»
2-3 класс

Автор: Зобнина Ирина Евгеньевна
учитель начальных классов ШЛ № 101
г.Караганды



Произведение
каких чисел
равно 24?

 $6 \cdot 4$

 $5 \cdot 6$

 $4 \cdot 8$

 $3 \cdot 8$

 $3 \cdot 7$



Произведение
каких чисел
равно 32?

 $6 \cdot 5$

 $4 \cdot 8$


 $4 \cdot 7$

 $3 \cdot 9$

 $8 \cdot 4$



Частное
каких чисел
равно 9?


$$72:9$$


$$48:6$$


$$45:5$$


$$54:6$$


$$32:4$$



Произведение
каких чисел
равно 18?

 $3 \cdot 6$

 $3 \cdot 5$


 $6 \cdot 4$

 $2 \cdot 8$

 $2 \cdot 9$



**Частное
каких чисел
равно 7?**


$$25:5$$


$$28:4$$


$$48:6$$


$$49:7$$


$$32:4$$



Частное
каких чисел
равно 2?

 $15:5$

 $8:2$

 $16:8$

 $12:6$

 $18:3$



Произведение
каких чисел
равно 12?

 $6 \cdot 2$

 $5 \cdot 2$


 $4 \cdot 4$

 $3 \cdot 4$

 $2 \cdot 5$



Произведение
каких чисел
равно 16?

 $4 \cdot 3$

 $4 \cdot 4$


 $5 \cdot 3$

 $3 \cdot 4$

 $8 \cdot 2$



**Частное
каких чисел
равно 10?**


$$72:9$$


$$49:7$$


$$40:4$$


$$50:5$$


$$35:5$$



Произведение
каких чисел
равно 40?

 $5 \cdot 8$

 $3 \cdot 9$

 $6 \cdot 6$

 $6 \cdot 8$

 $4 \cdot 10$



**Частное
каких чисел
равно 8?**


$$72:9$$


$$48:6$$



$$16:2$$


$$64:8$$


$$32:4$$



Произведение
каких чисел
равно 20?

 $4 \cdot 5$

 $3 \cdot 6$

 $7 \cdot 3$

 $2 \cdot 9$

 $2 \cdot 10$

Источники информации:

<https://i.ya-webdesign.com/images/green-maple-leaf-png.png>

https://cdn.pixabay.com/photo/2020/06/13/08/43/fall-leaf-5293499_1280.png

http://clipart-library.com/images_k/fall-leaf-transparent-background/fall-leaf-transparent-background-5.png

<https://w7.pngwing.com/pngs/20/505/png-transparent-sugar-maple-maple-leaf-graphy-maple-leaf-maple-leaf-photography.png>

<https://fansofdavid.com/wp-content/uploads/2017/08/maple-leaf.jpg>

