



**Интерактивный
тренажёр
«Сложение и вычитание
чисел в пределах 20»
класс**


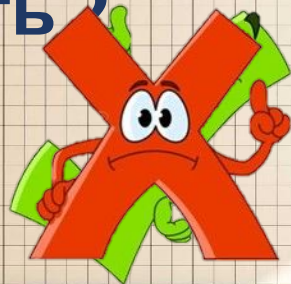


**Автор: Зобнина Ирина Евгеньевна
учитель начальных классов ШЛ № 101
г. Караганды**

К сумме чисел 7 и 3
прибавить ?


12

6




Назовите число больше 8 на 6.

14




13




От числа 8 отнять разницу чисел 4
и 3.

13




7




Увеличьте число 9 на столько же.

18




19




Какое число меньше 11 на
4?

13




7




Найдите разность чисел 13
и 5.

18



8




Назовите число в котором
1 десяток и 7 единиц.

17




71




Уменьшаемое 11, вычитаемое 6.
Разность?

6



5




Первое слагаемое 9,
второе слагаемое 7. Сумма?

16




2




Разность чисел 9 и 5 увеличьте
на 8.

12



13





Источники информации:

<https://thumbs.dreamstime.com/Back-to-school-cute-schoolgirl-schoolboy-sitting-desks-cheerful-girl-boy-cartoon-characters-vector-illustration-white-191197337.jpg>

<https://i.pinimg.com/564x/14/0e/cf/140ecfa96051ea1efcbf03237e37b441.jpg>

https://media.edutopia.org/styles/responsive_2880px_16x9/s3/masters/d7_images/5_mff-classrmmakeovers-archideaphoto-istock.jpg

