



**Интерактивный
тренажёр
«Сложение и вычитание
чисел в пределах 20»-3
класс**




**Автор: Зобнина Ирина Евгеньевна
учитель начальных классов ШЛ № 101
г. Караганды**




Сумма чисел 12 и 8?

20




19




Уменьшаемое 14, вычитаемое 7.
Разность?

7




6




Какое число надо прибавить
к 8, чтобы получить 13?

6



5



Первое слагаемое 6, второе
слагаемое 9. Чему равна




15

14




В вазе 9 груш, а яблок на 4 меньше.
Сколько яблок в вазе?

13



5




К какому числу надо прибавить 4, чтобы получить

10

5

6




От числа 15 вычесть разность

6 и 2.


11

10




Уменьшаемое 17,
вычитаемое 9. Разность?

7




8




К сумме чисел 7 и 6
прибавить 5.

18




17




Разность чисел 12 и 5 увеличьте
на 2.

9



10





Источники информации:
<https://thumbs.dreamstime.com/Back-to-school-cute-schoolgirl-schoolboy-sitting-desks-cheerful-girl-boy-cartoon-characters-vector-illustration-white-191197337.jpg>
<https://i.pinimg.com/564x/14/0e/cf/140ecfa96051ea1efcbf03237e37b441.jpg>
https://media.edutopia.org/styles/responsive_2880px_16x9/s3/masters/d7_images/5_mff-classrmmakeovers-archideaphoto-istock.jpg

