








**Решение задач.**

Кузя слепил из пластилина 11  
самолётиков, а машинок – на 2 меньше  
сколько машинок слепил Кузя?




11.-\* ←  
22.-?, на\*М

111.-? } \*  
222.-\* } \*

11.-\* ↗  
22.-\* ↘ на?М



бббыло - \*  
ВВвзяли - ?  
ООосталось - \*

Кузя слепил из пластилина 11  
самолётиков, а машинок – на 2 меньше.  
Сколько машинок слепил Кузя?



1 1.-\* ←  
2 2.-?,на\*б

Дуся принесла из леса 15 шишек. Из них 7 шишек – сосновые. Сколько еловых шишек принесла Дуся?




1. 1. - \*  
2. 2. - ?, на \* м

1. 1. - ?  
2. 2. - \* } \*

1. 1. - \*  
2. 2. - \* на ? м

б. б. было - \*  
в. в. взяли - ?  
о. о. осталось - \*

Дуся принесла из леса 15 шишек. Из них 7 шишек – сосновые. Сколько еловых шишек принесла Дуся?



1. 1. 1. - ? } \*  
2. 2. 2. - \* }



Кузя нашёл 13 грибов. Из них 5 грибов он подарил друзьям. Сколько грибов осталось у Кузи?



11. - \* ←  
22. - ?, на \* м


11. 1. - ?  
22. 2. - \* } \*

1. - 1. - \*  
2. - 2. - \* на ? м

ЕБ было - \*  
ЕВ взяли - \*  
СО осталось - ?



Кузя нашёл 13 грибов. Из них 5 грибов он подарил друзьям. Сколько грибов осталось у Кузи?



Было - ?


Взяли - \*

Осталось - \*



# Самостоятельная работа.

1. На полке стояло 7 кукол и 5 машинки.  
Сколько всего игрушек стояло на полке?



2. Лесник посадил 8 дубков, а берёзок – на 3 больше. Сколько берёзок посадил лесник?



